

# 一本好卷子



妞妞爱学习

数学

1

一年级上册

XS

严格遵循命题趋势，科学设计单元检测

- 周周测试基础练习
- 单元测试培优提升
- 专题训练各个击破
- 期末检测冲刺百分

扫一扫 安装APP

手机秒变学习机



天津出版传媒集团  
天津人民出版社

更多免费网课请关注公众号：妞妞爱学习 或微信：190097716



# 第一单元测试卷


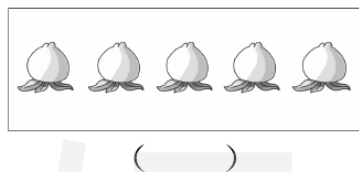


一本好卷

时间：60分钟 满分：100分



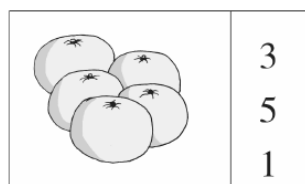
题号	一	二	三	四	五	六	七	八	九	十	十一	总分	评卷人
得分													

## 一、我会数。(6分)

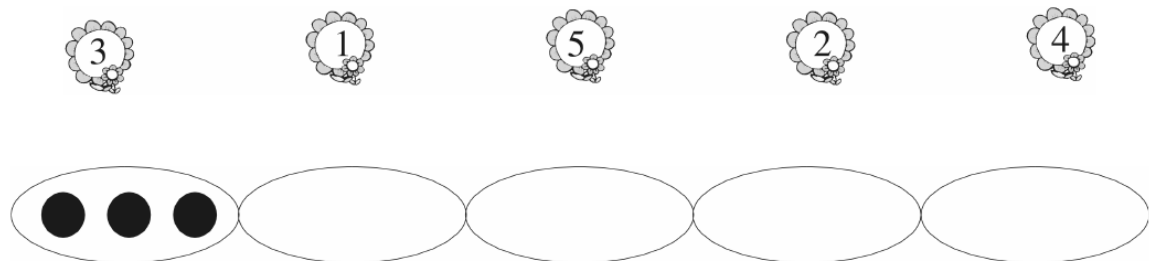
1. 看图写数。(3分)



2. 看图圈数。(3分)

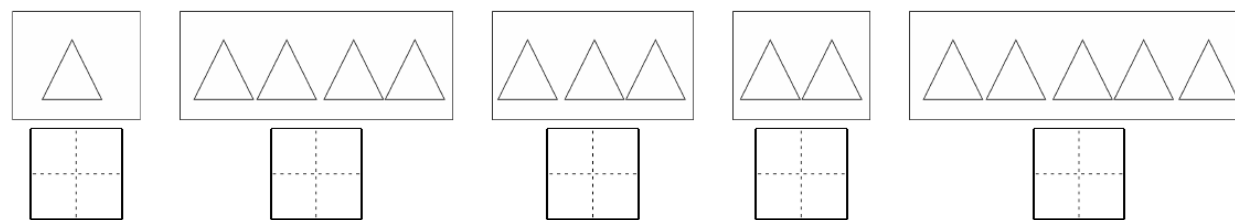



## 二、我能照样子看数画图。(2分)



>>>>> 1 <<<<<<

## 三、我会连一连，写一写。(15分)




## 四、我会看图。(12分)

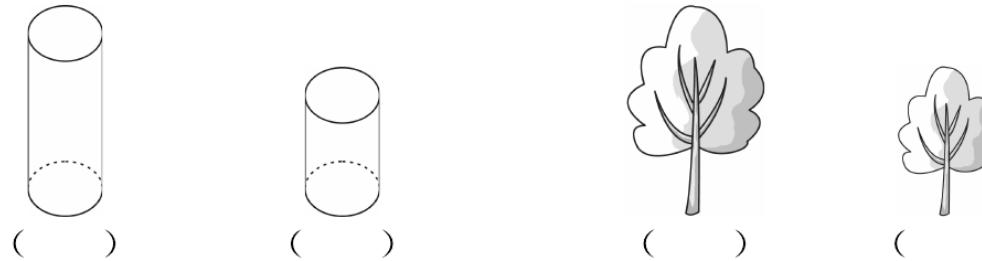
1. 比长短，长的在括号里画“○”，短的画“△”。(4分)



2. 比大小，大的在括号里画“○”，小的画“△”。(4分)



3. 比高矮，高的在括号里画“○”，矮的画“△”。(4分)



>>>>> 2 <<<<<<

密 封 线 内 不 得 答 题

学 校 姓 名 班 级

五、我能给桃宝宝排队。(12分)



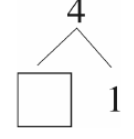
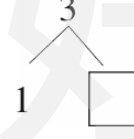

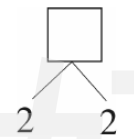
1. 从小到大排: \_\_\_\_\_ < \_\_\_\_\_ < \_\_\_\_\_ < \_\_\_\_\_ < \_\_\_\_\_ < \_\_\_\_\_

2. 从大到小排: \_\_\_\_\_ < \_\_\_\_\_ < \_\_\_\_\_ < \_\_\_\_\_ < \_\_\_\_\_ < \_\_\_\_\_



六、动脑筋想一想,算一算。(3分)



七、我会写。(6分)



八、我会照样子读写。(12分)




和 同样多

比 多

写作:  $4=4$  读作: \_\_\_\_\_

写作:  $5>3$  读作: \_\_\_\_\_



比 少

和 同样多

写作: \_\_\_\_\_ 读作: \_\_\_\_\_

写作: \_\_\_\_\_ 读作: \_\_\_\_\_

九、我会算。(10分)

- |        |        |        |        |
|--------|--------|--------|--------|
| $3+2=$ | $4-1=$ | $5-1=$ | $1+3=$ |
| $4-3=$ | $2+0=$ | $1-1=$ | $4-4=$ |
| $5+0=$ | $0-0=$ | $4-2=$ | $2+1=$ |
| $3-2=$ | $3-3=$ | $1+2=$ | $5-4=$ |
| $5-5=$ | $4+1=$ | $2+2=$ | $5-2=$ |

十、我会看图写算式。(16分)



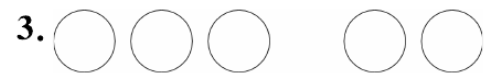
$\square + \square = \square$

$\square - \square = \square$



$\square + \square = \square$

$\square - \square = \square$



$\square + \square = \square$

$\square - \square = \square$



$\square + \square = \square$

$\square - \square = \square$

十一、我能看表填空。(6分)

品名	原有	又买来	一共有
练习本	3本	( )本	5本
铅笔	( )支	1支	3支
橡皮	( )个	3个	4个



# 第二单元测试卷


一本好卷


时间：60分钟 满分：100分

题号	一	二	三	四	五	六	七	八	九	十	总分	评卷人
得分												

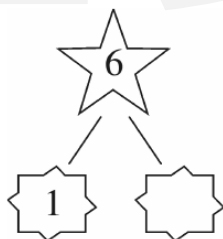

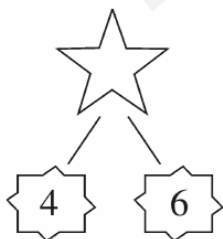
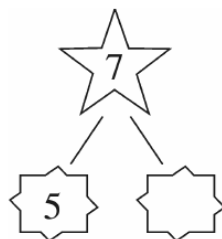
## 一、填空。(12分)

1. 我会数, 看图写数。(4分)









2. 它们的组成我知道。(8分)



二、谁拿的卡片里的数大? (在○里填上“>”“<”或“=”)(8分)



三、轻松比较, 准确选择。(在正确答案下面的○里画“√”)(8分)

1. 与“2+6”得数相同的是:

- ① 1+5                      ② 6+2                      ③ 3+6



2. 6+□=10, □里应填:

- ① 2                              ② 3                              ③ 4




3. 下面比8大, 比10小的数是:

- ① 7                              ② 8                              ③ 9



4. 根据下图, 列式正确的是:



- ① 8-3=5                      ② 8-2=6                      ③ 5-3=2



四、小星星亮晶晶。(27分)

2+5=☆                      6+4=☆                      3+5=☆                      9-3=☆

密 封 线 内 姓 名 班 级 学 校 答 题



$$10-5=\star \quad 2+8=\star \quad 1+9=\star \quad 7-6=\star$$

$$4+3=\star \quad 8-5=\star \quad 5+4=\star \quad 8-2=\star$$

$$3+2+4=\star \quad 3+7-1=\star \quad 7-5-2=\star$$



$$9-3+4=\star \quad 8-2-6=\star \quad 10-5+4=\star$$

七、几个小朋友排队去参观科技馆。(4分)



$$\square \bigcirc \square \bigcirc \square = \square$$

八、想一想,填一填。(4分)



小小

丫丫

小小原来有( )辆,丫丫原来有( )辆。


九、我帮小动物排排队。(7分)




1. 排在第( )位。(2分)

2. 一共有( )只小动物。(5分)

五、生活中的数学,看图填算式。(8分)



$$\square + \square = \square$$



$$\square - \square = \square$$

六、在  $\square$  里填上“+”或“-”。(12分)

$$6 \square 1 \square 2 = 7$$

$$8 \square 2 \square 5 = 5$$

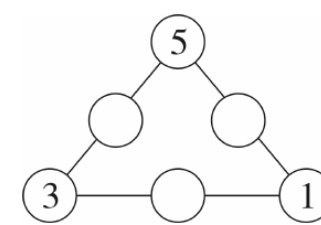
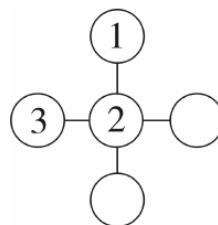
$$3 \square 5 \square 2 = 10$$

$$9 \square 4 \square 3 = 2$$

>>>>> 7 <<<<<<

>>>>> 8 <<<<<<

十、填一填,使每条线上的三个数相加都得 10。(10分)





# 月考巩固卷(一)

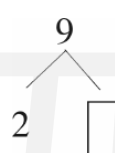
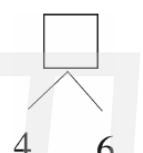
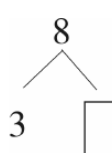
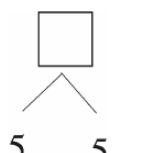
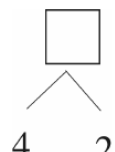
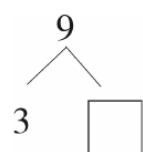
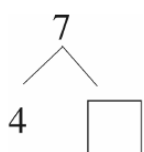
一本好卷

时间: 60分钟 满分: 100分

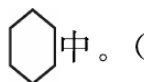
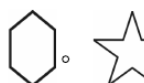
题号	一	二	三	四	五	总分	评卷人
得分							

## 一、填一填。(32分)

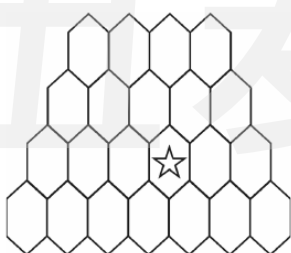
1. 在□里填上合适的数。(4分)



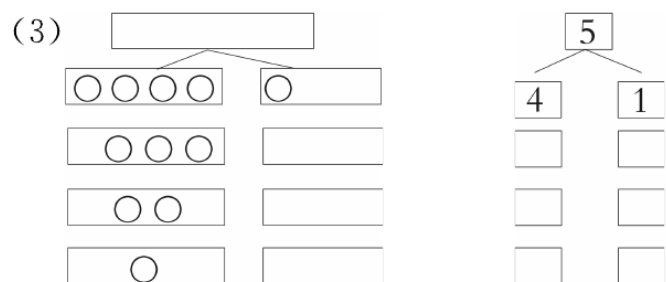
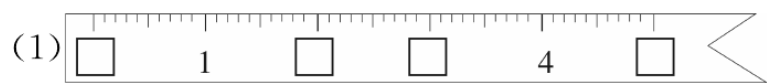
2. 从下往上数,第3层有( )个□,第( )层有4个□。



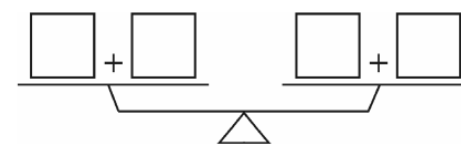
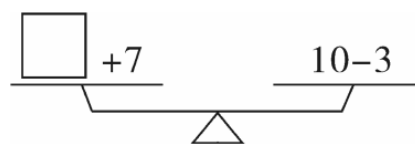
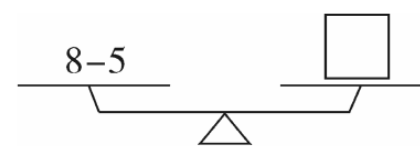
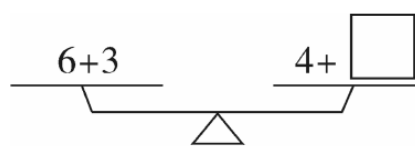
中。(4分)



3. 看图填一填。(8分)



4. 在□里填数,使两边的得数相等。(4分)



5. 写出6道得数是8的算式。(3分)

$\square \circ \square = \square$

$\square \circ \square = \square$

$\square \circ \square = \square$

$\square \circ \square = \square$

$\square \circ \square = \square$

$\square \circ \square = \square$

6. 在○里填上“+”或“-”。(6分)

$2 \circ 4 = 6$

$7 \circ 2 = 5$

$5 \circ 4 = 10 \circ 1$

$6 \circ 0 = 6$

$9 \circ 3 = 6$

$10 \circ 5 = 2 \circ 3$

7. 在○里填上“>”“<”或“=”。(3分)

$4+6 \circ 9$

$1+6 \circ 9-3$

$2+4 \circ 5+1$

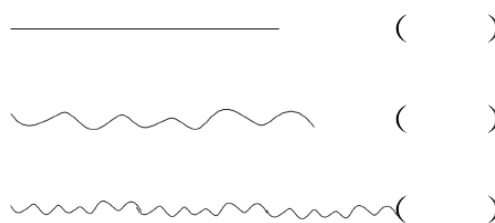
$8-4 \circ 4$

$10 \circ 6+3 \circ$


$9-4 \circ 6+1$

## 二、我会比较。(4分)


1. 把最长的用“√”画出来。




2. 把重的用“√”画出来。



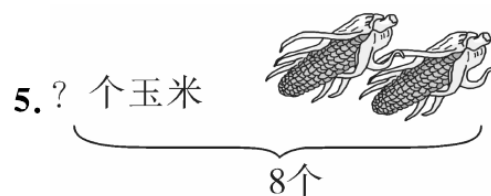
3. 在多的后面画“√”。



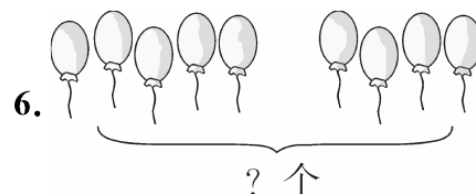
4. 在最矮的下面画“√”。



$$\square \bigcirc \square = \square$$



$$8 - 3 + \square = \square$$



$$\square \bigcirc \square = \square$$

三、计算大比拼。(29分)

- |           |         |         |         |
|-----------|---------|---------|---------|
| 1. $3+2=$ | $4+3=$  | $9-2=$  | $1+4=$  |
| $8-5=$    | $10-3=$ | $8-7=$  | $5+3=$  |
| $2+5=$    | $4+5=$  | $10-8=$ | $4-4=$  |
| $3+7=$    | $6+3=$  | $8+1=$  | $0+9=$  |
| $9-6=$    | $7-6=$  | $8-4=$  | $10-2=$ |

- |             |          |          |
|-------------|----------|----------|
| 2. $3+2+4=$ | $5-2+6=$ | $8-2-6=$ |
| $8-2-5=$    | $3+4-2=$ | $4+2+3=$ |
| $5+3-7=$    | $9-6+2=$ | $7-2+4=$ |

四、看图写算式。(24分)

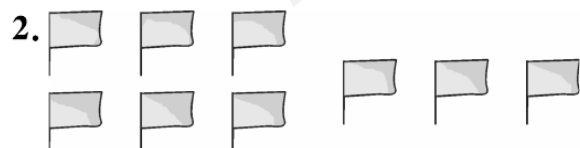


$$4 + \square = \square$$

$$\square \bigcirc \square = \square$$

$$6 - \square = \square$$

$$\square \bigcirc \square = \square$$

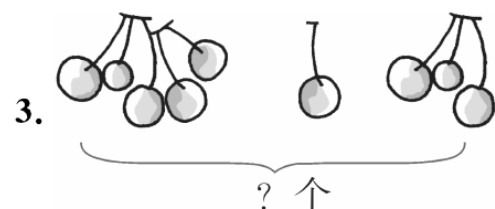


$$\square \bigcirc \square = \square$$

$$\square \bigcirc \square = \square$$

$$\square \bigcirc \square = \square$$

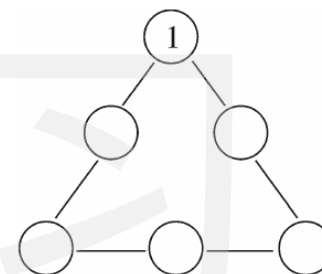
$$\square \bigcirc \square = \square$$




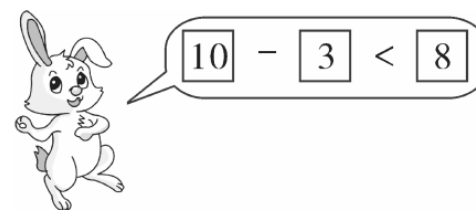
$$5 + \square \bigcirc \square = \square$$

五、想一想,填一填。(11分)

1. 在○里填上2、3、4、5、6,使每条线上的三个数相加都为10。(5分)



2. 聪明的小朋友,你能帮助小兔和小狗解决下面的问题吗?(选择合适的数字填入方框,不能与例子重复)(6分)



- |   |   |   |   |    |
|---|---|---|---|----|
| 0 | 3 | 4 | 6 | 8  |
| 1 | 2 | 5 | 7 | 10 |

- |                         |                         |                         |
|-------------------------|-------------------------|-------------------------|
| $\square - \square < 8$ | $\square - \square < 8$ | $\square - \square < 8$ |
| $\square - \square > 6$ | $\square - \square > 6$ | $\square - \square > 6$ |



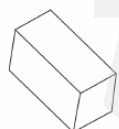
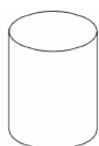
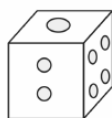
# 第三单元测试卷

一本好卷

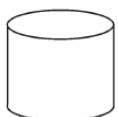
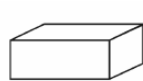
时间：60分钟 满分：100分

题号	一	二	三	四	五	六	七	八	九	十	总分	评卷人
得分												

## 一、我会观察物体及图形，并连线。(8分)



## 二、我会填。(8分)



上面图形中有( )个 ;有( )个 ;有( )个 ;有( )

个 。

## 三、我认识。(9分)

1. 在水果下画“√”。



( )



( )



( )



( )



( )



( )

2. 在文具下画“√”。



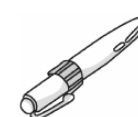
( )



( )



( )



( )



( )



( )

3. 下面的物体形状是球的画“√”。



( )



( )



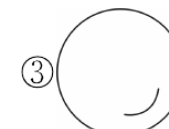
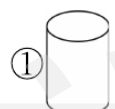
( )



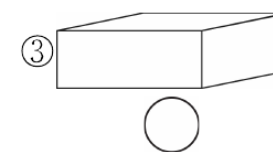
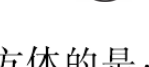
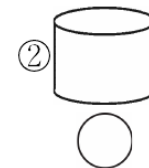
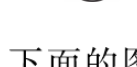
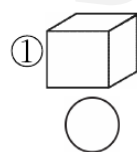
( )

## 四、轻松比较，准确选择。(正确的在○里面画“√”)(12分)

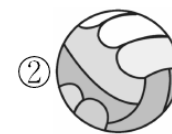
1. 下列图形中不是球体的是：



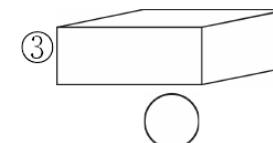
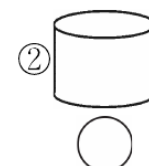
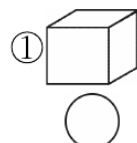
2. 下面含有○的图形是：



3. 下面的图形不是长方体的是：

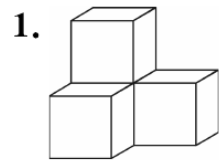


4. 含有 的图形是：

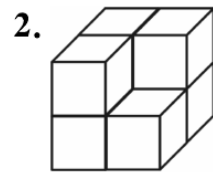




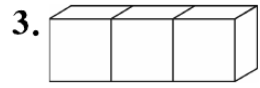
五、下面各有几个正方体,先数一数,再摆一摆。(14分)



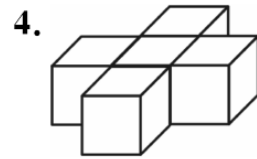
( )个



( )个




( )个



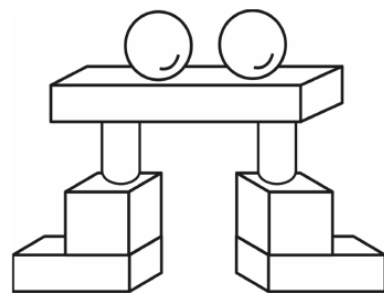
( )个

六、我能分清楚。(12分)

在每行中,圈出一个与其他不同类的东西。



七、数一数,填一填。(12分)





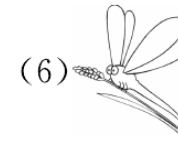


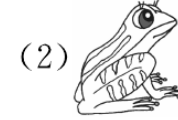

有( )个

有( )个


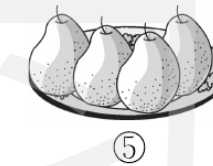
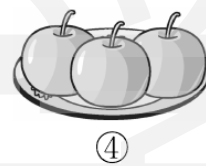



有( )个

有( )个

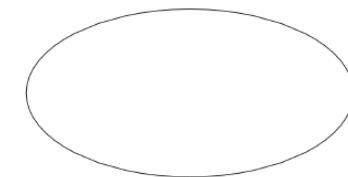
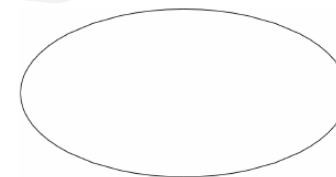
八、把生活在陆地上的动物涂上你喜欢的颜色。(7分)



九、将下列水果分成两类,你怎么分?(6分)



将序号填在圆圈里。



十、右边的两样物品中,哪一个同左边形状相同?在括号里画“√”。(12分)

	(1)  ( )	(2)  ( )
	(1)  ( )	(2)  ( )
	(1)  ( )	(2)  ( )
	(1)  ( )	(2)  ( )



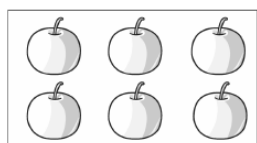
# 月考巩固卷(一)

一本好卷

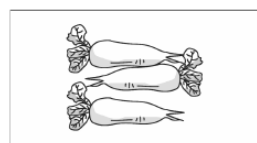
时间: 60分钟 满分: 100分

题号	一	二	三	四	五	六	七	八	九	十	十一	总分	评卷人
得分													

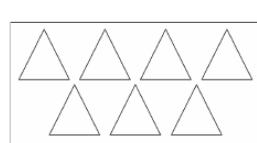
## 一、我会看图写数。(6分)



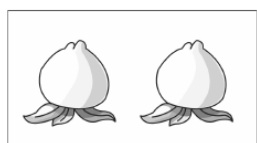
( )



( )



( )



( )



( )



( )

## 二、我会填。(17分)

- 比6少2的数是( ), 比3多4的数是( )。
- 9前面的数是( ), 后面的数是( ), 比9多1的数是( )。
- 找规律填数。

1 3   9

10 6 4

4.  0   2   5    9



一共有( )个物体。从前面数第( )个和第( )个是正方体;从后面数第( )个和第( )个是长方体,第( )个和第( )个是球。

6. 在1,7,9,4,5,10,8,2中一共有( )个数,其中最小的数是( ),最大的数是( ),把它们按从大到小的顺序排列为: \_\_\_\_\_ > \_\_\_\_\_ > \_\_\_\_\_ > \_\_\_\_\_ > \_\_\_\_\_ > \_\_\_\_\_ > \_\_\_\_\_ > \_\_\_\_\_。

## 三、我会比。(11分)

1. 在最多的后面画“√”,并填一填。(4分)



( )

○比△多( )



( )

△比○少( )



( )

☆比○少( )

2. 把最高的用“√”画出来。(2分)



( )



( )

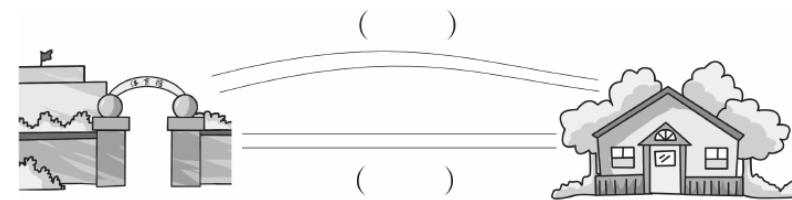


( )

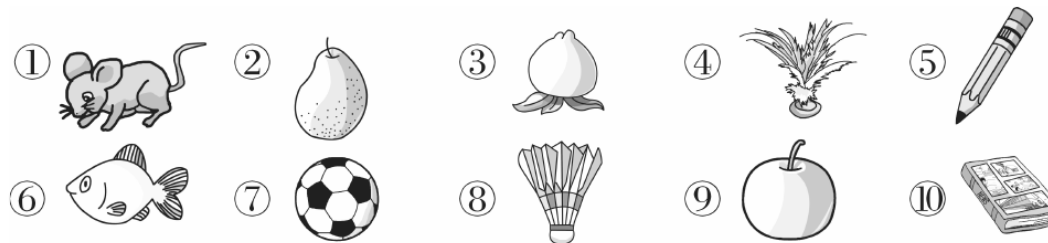
3. 把最矮的圈起来。(2分)



4. 小红回家走哪条路近,近的画“√”。(3分)



## 四、我会分。(只填序号)(8分)



动物: \_\_\_\_\_

水果: \_\_\_\_\_

学习用品: \_\_\_\_\_

体育用品: \_\_\_\_\_

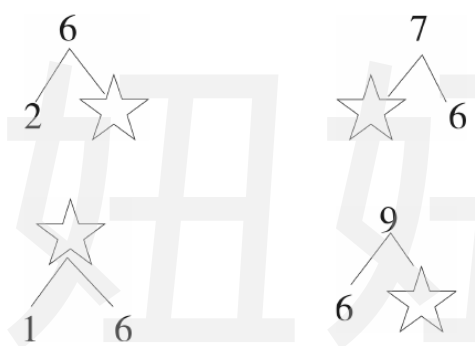
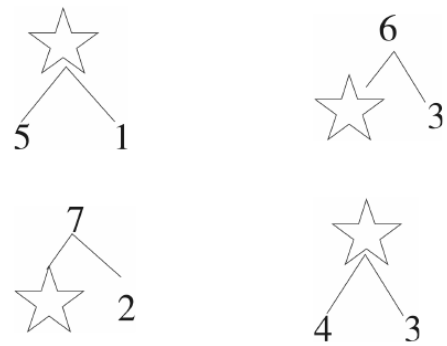
五、我能在( )里填上适当的数使等式成立。(4分)

$2 + ( ) = 8$        $( ) - 3 = 5$        $4 + ( ) = 8$        $( ) + 6 = 9$   
 $9 - ( ) = 4$        $( ) + 7 = 10$        $6 - ( ) = 0$        $5 - ( ) = 1$

六、找朋友。(把算式得数相同的用线连起来)(8分)

$2+7$	6	$9-2+1$	$8-8$
$8-2$	9	$5+3-4$	$1+3$
$3+4$	10	$10+0-8$	$3+5$
$10+0$	7	$10-8-2$	$8-6$

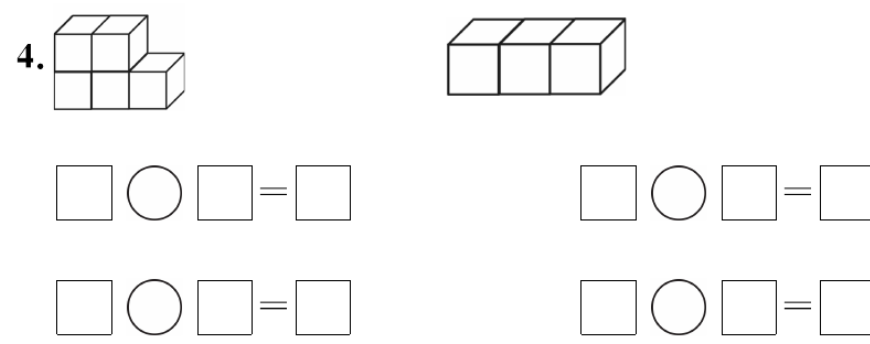
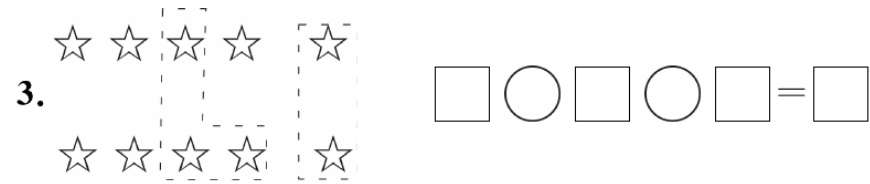
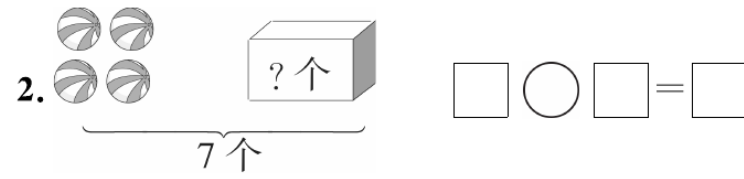
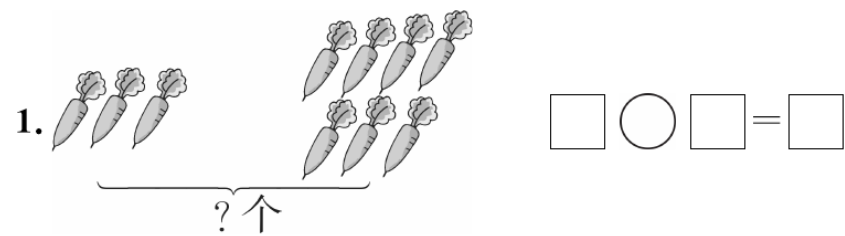
七、摘☆。(4分)



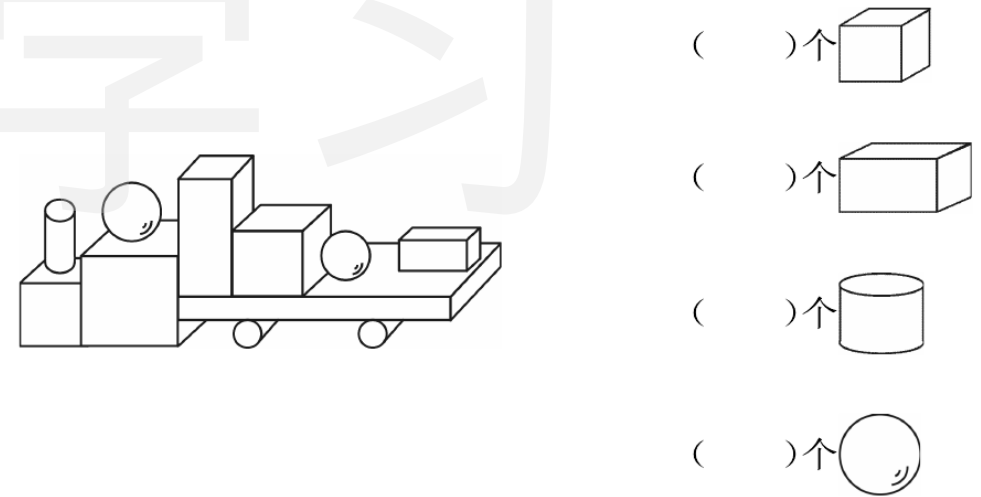
八、我是计算小行家。(19分)

$1+2=$        $3+0=$        $4-0=$        $5+2=$        $6-3=$   
 $2-1=$        $4-3=$        $3+2=$        $8-4=$        $9-7=$   
 $1+3=$        $2+8=$        $10-6=$        $4+6=$        $9-1=$   
 $9-2-3=$        $2+2+4=$        $7-3+2=$        $10-4-2=$

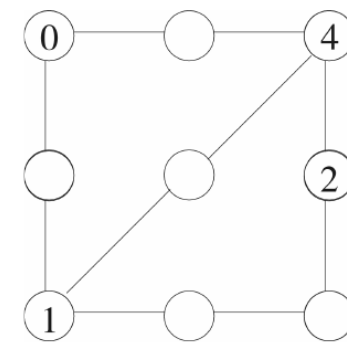
九、我会看图列算式。(14分)



十、数一数,填一填。(4分)



十一、在○里填数,使每条线上的三个数之和都等于9。(5分)





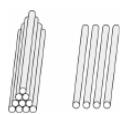
# 第四单元测试卷

一本好卷

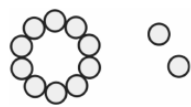
时间：60分钟 满分：100分

题号	一	二	三	四	五	六	七	八	九	十	总分	评卷人
得分												

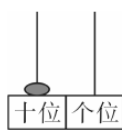
## 一、看图写数。(5分)



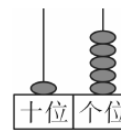
( )



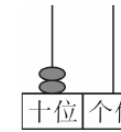
( )



( )



( )



( )

## 二、我会填。(32分)


1. 1个十和6个一组成( )。3个一和1个十合起来是( )。

18是由( )个十和( )个一组成的。20里有( )个十。12里面有( )个一。


2. 8 ( ) 10 11 12 ( ) 14 ( ) ( ) ( ) 18 19 ( )

3. (4分)

11	15	13
10	17	19
20	18	



比16大的数



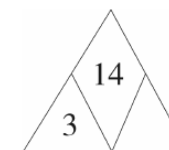
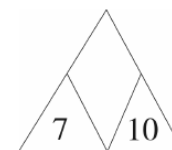
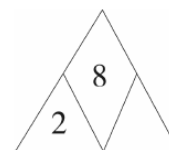
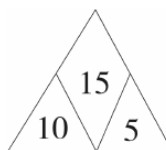
比16小的数

4. 十六写作( ) 十二写作( ) 二十写作( )

18读作( ) 11读作( ) 17读作( )

5. 比14大19小的数有( )、( )、( )、( )。

## 6. 找规律填数。



7. 在18、7、20、0、11、12中最大的数是( )，最小的数是( )。把它们按从小到大排列为( )。

## 三、我能比较。(在○里填上“>”“<”或“=”) (6分)

16 ○ 0      13 ○ 14      8 ○ 18      11 ○ 9  
 17 ○ 10      17 ○ 18      16 ○ 15      12 ○ 12  
 17-7 ○ 10      14 ○ 14-10      11 ○ 12-1      13-2 ○ 9

## 四、我会在○里填上“+”或“-”。(5分)

6 ○ 4 = 10      9 ○ 3 = 6      17 ○ 7 ○ 4 = 6      8 ○ 8 = 0  
 15 ○ 10 = 5      12 ○ 2 = 14      19 ○ 10 ○ 1 = 10      16 ○ 4 = 12

## 五、接龙。(15分)

15  $\xrightarrow{+1}$  □  $\xrightarrow{+3}$  □  $\xrightarrow{-10}$  □  $\xrightarrow{-1}$  □  $\xrightarrow{+10}$  □  
 8  $\xrightarrow{+2}$  □  $\xrightarrow{-4}$  □  $\xrightarrow{+10}$  □  $\xrightarrow{-2}$  □  $\xrightarrow{-4}$  □  
 18  $\xrightarrow{-6}$  □  $\xrightarrow{+4}$  □  $\xrightarrow{+3}$  □  $\xrightarrow{-5}$  □  $\xrightarrow{+2}$  □

## 六、连一连。(把得数相同的算式用线连起来)(5分)

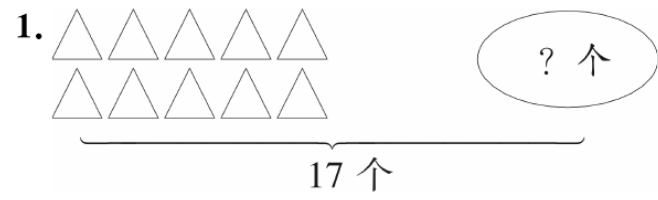
10+8      15-10      17-3      19-4      2+10  
 10-5      18-6      11+7      10+4      11+4



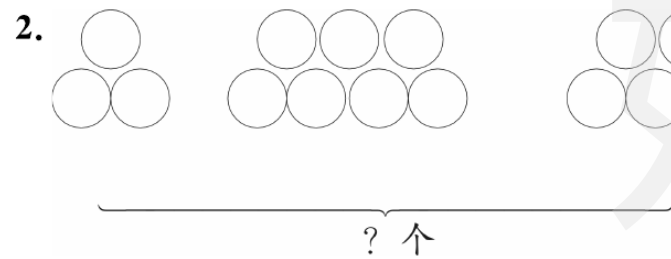
七、我会算。(8分)

$12+7=$	$7+9=$	$16-8=$	$15-5=$
$16-3=$	$12+6=$	$11-4=$	$3+15=$
$6+11=$	$14-9=$	$12+3=$	$2+17=$
$19-8=$	$17-6=$	$19-10=$	$18-1=$

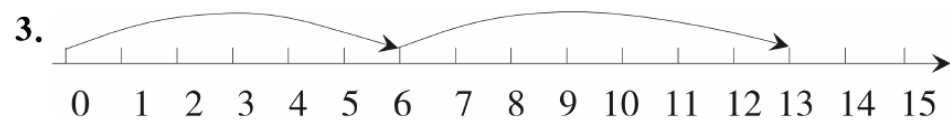
八、我能看图列出算式。(4分)



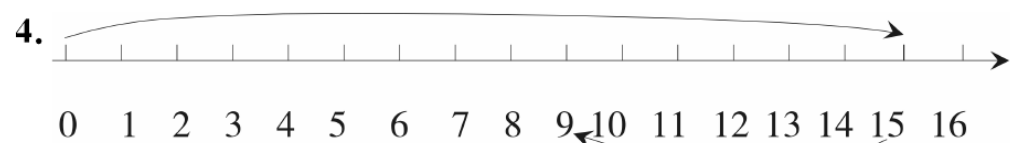
$\square \bigcirc \square = \square$



$\square \bigcirc \square \bigcirc \square = \square$



$\square \bigcirc \square = \square$



$\square \bigcirc \square = \square$

九、解决问题。(14分)

1. (3分)



2. 青蛙吃了多少条害虫?(3分)



3. 原来有 19 只羊,卖了 9 只,又买来 4 只,现在有多少只?(4分)

4.



小军的生日是 11 月几日呢?(4分)

十、在方框里填上数,使横行、竖行上的三个数相加都得 9。(6分)





# 第五单元测试卷

一本好卷

时间：60分钟 满分：100分

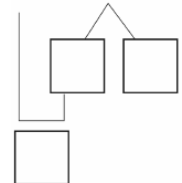
题号	一	二	三	四	五	六	七	八	九	十	总分	评卷人
得分												

## 一、我会算。(10分)

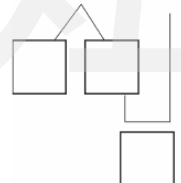
$2+5=$	$7+6=$	$3+6=$	$2+4+7=$
$9+4=$	$3+8=$	$7+5=$	$0+9+6=$
$7+3=$	$10+5=$	$8+7=$	$2+8+8=$
$6+8=$	$4+9=$	$6+6=$	$3+7+9=$
$5+9=$	$8+4=$	$13-10=$	$4+5+5=$

## 二、我会填。(16分)

1. (2分)  $8 + 5 = \square$



$4 + 7 = \square$



## 2. 在 $\square$ 里填上合适的数。(6分)

$9 + \square + \square = 9 + 5$

$9 + \square + \square = 9 + 6$

$8 + \square + \square = 8 + 5$

$8 + \square + \square = 8 + 6$

$7 + \square + \square = 7 + 5$

$7 + \square + \square = 7 + 6$

3. (8分) 4 连续加 3: 4、\_\_\_\_、\_\_\_\_、\_\_\_\_、\_\_\_\_。

1 连续加 4: 1、\_\_\_\_、\_\_\_\_、\_\_\_\_、\_\_\_\_。

## 三、在得数大于 10 的后面画“√”。(4分)

$3+7( )$        $16-4( )$        $7+8( )$        $9+7( )$

$5+6( )$        $9+0( )$        $4+4( )$        $2+9( )$

## 四、我会连。(8分)

$7+4$	13	$2+5+8$	11
$5+9$	12	$12-2+6$	17
$6+7$	11	$5+3+9$	15
$6+6$	14	$8-4+7$	16

## 五、我爱动脑。(11分)

1. 在  $\bigcirc$  里填上“ $>$ ”“ $<$ ”或“ $=$ ”。(6分)

$7+8 \bigcirc 8+9$	$8+3 \bigcirc 6+6$	$16-3 \bigcirc 7+6$
$6+4 \bigcirc 5+5$	$9+6 \bigcirc 18-4$	$9+9 \bigcirc 10+8$
$8+9 \bigcirc 8+7$	$3+9 \bigcirc 12+0$	$14-1 \bigcirc 14+1$
$8+9-7 \bigcirc 15$	$16-2 \bigcirc 8+8$	$9-5+4 \bigcirc 20$

2. 在  $\bigcirc$  里填上“ $+$ ”或“ $-$ ”。(5分)

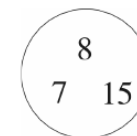
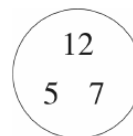
$9 \bigcirc 8=17$	$12 \bigcirc 2=14$	$13 \bigcirc 3=10$	$16 \bigcirc 10=6$
$3 \bigcirc 9=12$	$4 \bigcirc 8=12$	$8 \bigcirc 6=12 \bigcirc 10$	$7 \bigcirc 4=6 \bigcirc 5$

## 六、我帮它们排大小。(按得数从小到大排一排)(5分)

$10+7$        $9-6$        $8+6$        $9+4$        $5+6$

( ) < ( ) < ( ) < ( ) < ( )

## 七、用圆圈里的 3 个数分别写出两道加法算式。(6分)



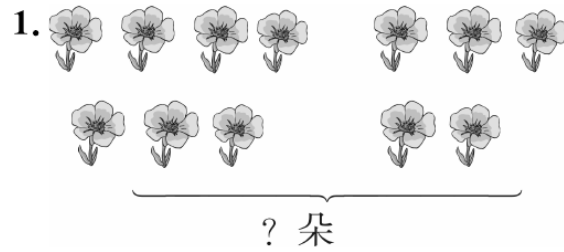
\_\_\_\_\_

\_\_\_\_\_

八、把每组中没按规律排列的数圈起来。(4分)

3	4	5	6	8
12	10	8	6	3
14	10	8	6	4
0	5	10	15	17

九、我会看图列式。(9分)



$$\square \bigcirc \square = \square$$



$$\square \bigcirc \square = \square$$

3. 红气球有6个,黄气球有7个,一共有( )个。

$$\square \bigcirc \square = \square$$




十、我会解决问题。(27分)

1. 劳动竞赛。(4分)



一共来了多少人?

2. 看图计算,完成表格。(6分)

			
小红有	8个	7根	5个
小明有	4个	9根	4个
一共有			

3. 小华买玩具跑车用了6元,买本子用了4元,小华共用了多少钱?(4分)

4.



一共有多少个同学?(4分)

5. 一本故事书,小红第一天看了8页,第二天看了5页。(9分)

(1)两天一共看了多少页?(4分)

(2)第三天从哪一页开始看?(5分)



# 月考巩固卷(二)

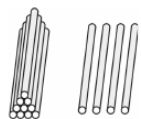
一本好卷

时间: 60分钟 满分: 100分

题号	一	二	三	四	五	六	七	八	九	总分	评卷人
得分											

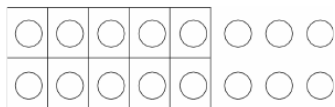
## 一、我会填。(22分)

1. 看图写数。



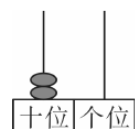
写作( )

读作( )



写作( )

读作( )



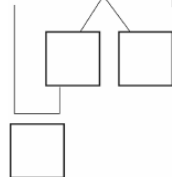
写作( )

读作( )

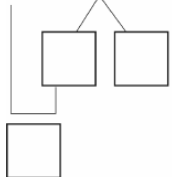
2. 在  $10+4=14$  中, 两个加数分别是( )、( ), 和是( )。

3. 比 10 大, 比 14 小的数有( )、( )、( )。

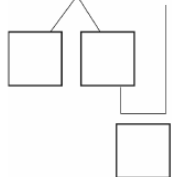
4.  $9 + 7 = \square$



$8 + 5 = \square$



$6 + 7 = \square$

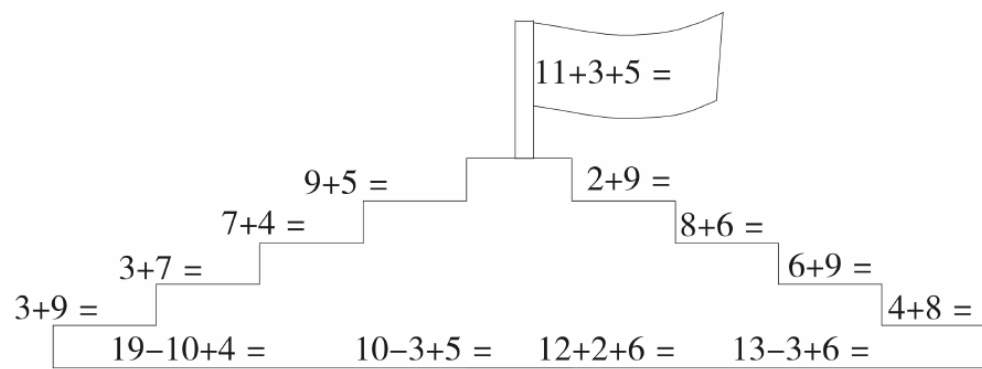


5. 按规律填数。(4分)

20	18		14			
----	----	--	----	--	--	--

	3		9	12		
--	---	--	---	----	--	--

## 二、登山夺旗。(13分)



## 三、我会连。(8分)

$9+5$

12

$8-4+10$

$6+6$

14

$16-10+7$

$3+8$

13

$7+0+4$

$18-5$

11

$10-5+7$

## 四、我爱动脑。(8分)

1. 在( )里填上适当的数。(4分)

$( ) + 3 = 13$

$8 + ( ) = 10$

$( ) + 4 = 14$

$10 + ( ) = 10$

$16 - ( ) = 10$

$8 - ( ) = 2$

$18 - ( ) = 8$

$11 - ( ) = 1$

2. 在○里填上“+”或“-”。(4分)

$15 \bigcirc 5 = 10$

$12 \bigcirc 10 = 2$

$7 \bigcirc 10 = 17$

$16 \bigcirc 3 = 13$

$12 \bigcirc 6 = 18$




$13 \bigcirc 2 = 11$

$12 \bigcirc 4 = 16$




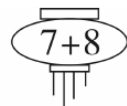





$18 \bigcirc 8 = 10$



五、在○里填数。(4分)



六、把得数相同的算式涂上相同的颜色。(5分)



七、我会算。(6分)

$3+2+14=$

$19-4+2=$


$10-6+3=$

$17-7+2=$

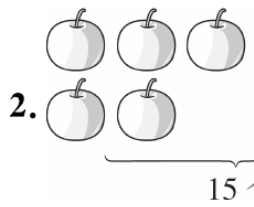
$9+1+4=$

$6+3-5=$

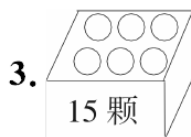
八、我能看图列式。(12分)



$\square \bigcirc \square = \square$

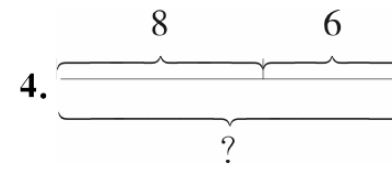


$\square \bigcirc \square = \square$



红○有5颗,黑○有( )颗。

$\square \bigcirc \square = \square$



$\square \bigcirc \square = \square$

九、我会解决问题。(22分)


1. 同学们在路两边各插了8面旗,一共插了多少面旗?(5分)

2. (12分)

我们有8头。



我们有5头。



我们有9头。



(1) 小牛和大象共有几头?(4分)

(2) 大象和小猪共有几头?(4分)

(3) 请你提一个数学问题并解答。(4分)

3. 停车场先开走了9辆小轿车,后来又开走了7辆,两次共开走了几辆?(5分)



# 第六单元测试卷

一本好卷

时间：60分钟 满分：100分

题号	一	二	三	四	五	六	七	八	九	十	十一	十二	总分	评卷人
得分														

## 一、我会算。(9分)

$14-3=$        $15-6=$        $14-9=$        $15-7=$        $14-5=$   
 $5+8=$        $6+9=$        $15-8=$        $14-6=$        $15-5=$   
 $10+4-6=$        $10+4-8=$        $5+10-6=$        $7+8-10=$   
 $8+6-7=$        $10+4-5=$        $9+6-7=$        $15-7-5=$

## 二、我会填。(28分)

1.  $16-8=$         $17-9=$         $15-6=$

- 从7数起,第9个数是( )。
- 减数和差均为7,被减数是( )。
- 一个加数是7,和是15,另一个加数是( )。
- (7分)  $11-9=$   想:  $9+( )=11$  11减9得( )  
 $13-6=$   想:  $6+( )=13$  13减6得( )  
 $15-7=$   想:  $10-7=( )$   $5+( )=( )$   
 $16-9=$   想:  $10-9=( )$   $6+( )=( )$
- 16连续减3: 16、、、、、。

18连续减4: 18、、、、。

## 三、在○里填上“>”“<”或“=”。(6分)

$12-8$  ○  $16-7$        $16-6$  ○  $9$        $17-9$  ○  $8$        $18-9$  ○  $10$   
 $17-8$  ○  $11$        $18-4$  ○  $9+5$        $7+6$  ○  $18-1$        $17-4$  ○  $6+7$   
 $16-5$  ○  $12$        $18-9$  ○  $9$        $4+7$  ○  $17-7$        $5+8$  ○  $16-5$

## 四、算式接龙。(6分)

$15 \xrightarrow{-6} \square \xrightarrow{+2} \square \xrightarrow{-7} \square \xrightarrow{+8} \square \xrightarrow{-9} \square$   
 $9 \xrightarrow{+5} \square \xrightarrow{-6} \square \xrightarrow{-5} \square \xrightarrow{+9} \square \xrightarrow{-5} \square$   
 $12 \xrightarrow{-7} \square \xrightarrow{+9} \square \xrightarrow{-6} \square \xrightarrow{+7} \square \xrightarrow{-9} \square$

## 五、用8,9,17三个数,写两个加法算式和两个减法算式。(4分)

○  =        ○  =   
 ○  =        ○  =

## 六、我会做。(3分)

( ) + 8 = 14      ( ) - 4 = 10      ( ) + 5 = 9  
9 + ( ) = 16      17 - ( ) = 7      7 - ( ) = 7

## 七、我会连。(6分)

$15-7$        $16-8$        $13-6$        $16-9$        $17-9$        $14-5$   
  
7                      8                      9  
  
 $12-3$        $15-6$        $18-9$        $15-8$        $11-4$        $12-4$

密

封

学

线

内

姓

不

班

答

学

题

八、把正确的苹果圈起来。(4分)

20-10= 0 1 10

19-3= 6 16 7

10-2-2= 5 6 9

18-2-6= 9 10 11

九、填一填。(5分)

被减数	17	11	15	13			11	16	14	
减数			7	4	6	3			7	9
差	8	6			5	9	7	8		5

十、用 18 分别减去右边卡片上的数,写出式子。(4分)

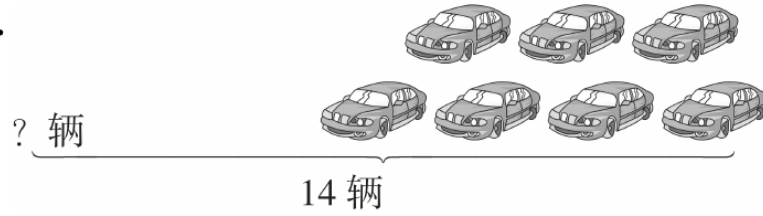


- 6      9      8      0      12  
5      18      14      10

18-6=12  
\_\_\_\_\_  
\_\_\_\_\_

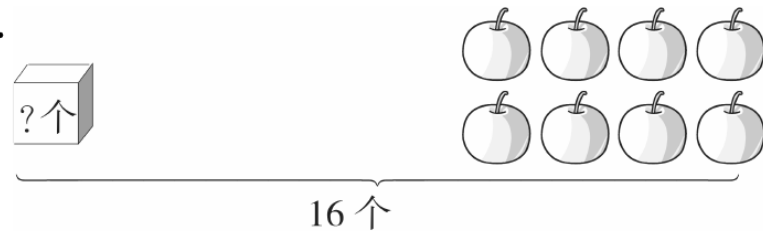
十一、我会看图列式计算。(9分)

1.

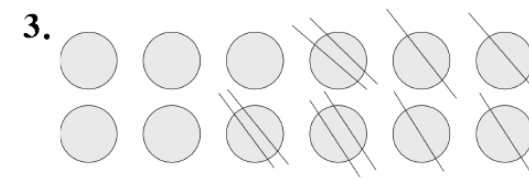


○  =

2.



○  =



○  ○  ○  =

十二、解决问题。(16分)

1. 体育室里有 15 个排球。



二年级借走 6 个。



体育室里还剩多少个排球?(8分)

2.(8分)



(1)把各种不同的买法用算式表示出来。(4分)

例:17-4=13(元)

我有 17 元钱,可以买上面哪些物品?



(2)想一想,能不能同时买三种物品?为什么?(4分)



# 第七单元测试卷

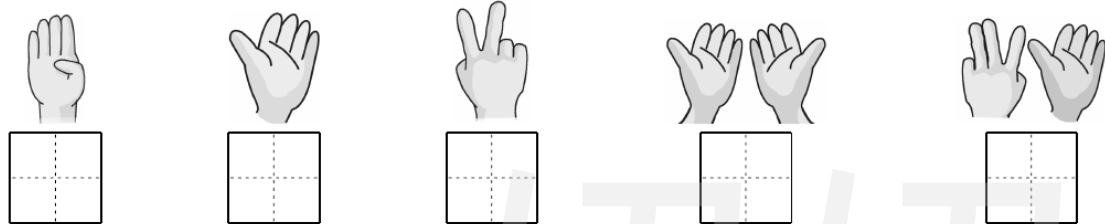
一本好卷

时间：60分钟 满分：100分


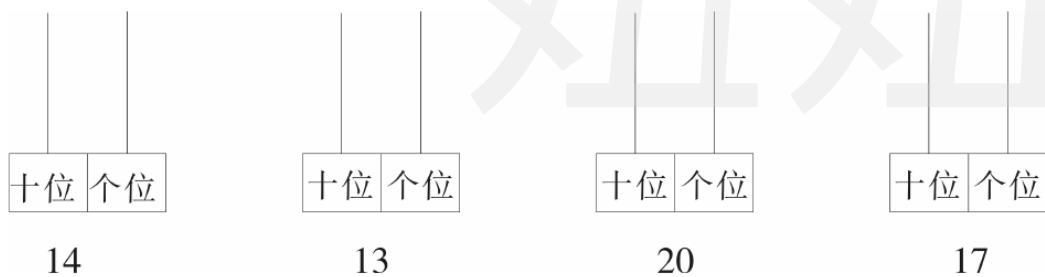
题号	一	二	三	四	五	六	七	八	九	总分	评卷人
得分											

## 一、数一数。(21分)

1. 看图填数。(5分)




2. 看数画珠子。(4分)



(1) 一共有( )个苹果。(2分)

(2) 从前数把第6个圈起来。(2分)



比 少( )个。

5. 18 里面有( )个十和( )个一。

6. 1 个十和 6 个 1 合起来是( )。

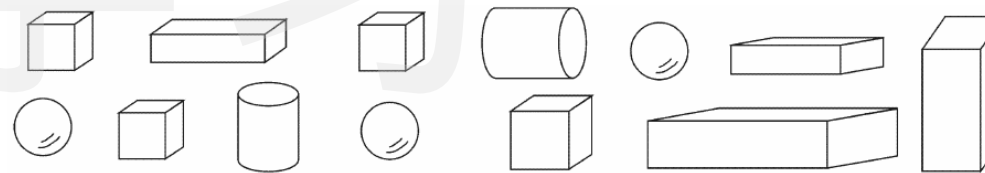
7. 11 前面的数是( ), 后面的数是( ), 和 19 相邻的两个数是( )和( )。

## 二、看谁先到家。(15分)

小狗	小猫	小猪
6+3=	1+9=	2+7=
9+8=	10-0=	5+5=
4+3=	7+7=	13-7=
7+3=	13-6=	18-9=
10-5=	14-6=	15-4=



## 三、看图数一数。(6分)



有( )个, 有( )个, 有( )个, 有( )个。

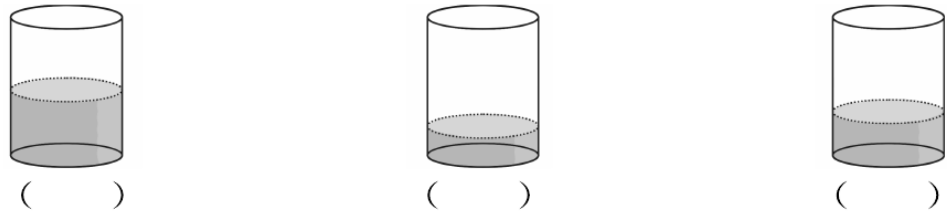
## 四、我会算。(10分)

6+10=	0+5=	9-6=	3+7=
8+4=	16-6=	9+4=	15-5=
10-7=	7+8=	10+9=	10-0=
4+3-2=	7+5-2=	9-3-3=	4+2+2=
8+7-5=	8+9-7=	5+6+4=	18-8-3=

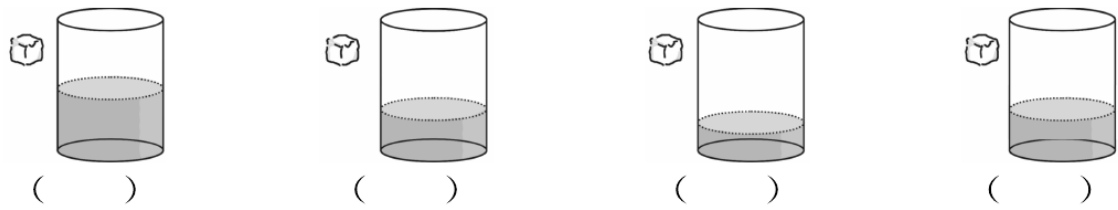


五、比一比。(9分)

1. 哪杯水多? 最多的画“√”, 最少的画“○”。



2. 把方糖放入杯子后, 哪杯水最甜? 在最甜的杯子下面的括号里画“☆”。

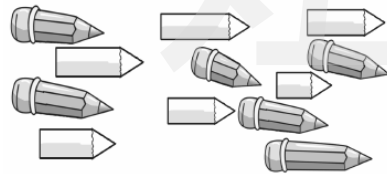


六、找规律, 再填空。(4分)

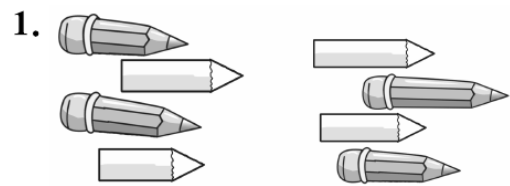
12	13			16		18		
----	----	--	--	----	--	----	--	--

7	9			15	
---	---	--	--	----	--

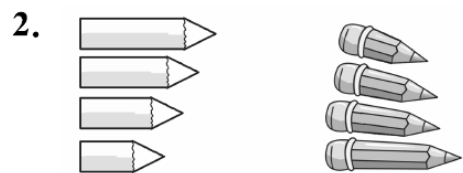
七、看图分类。(2分)



你能说说下面各组铅笔是按什么来分类的吗?

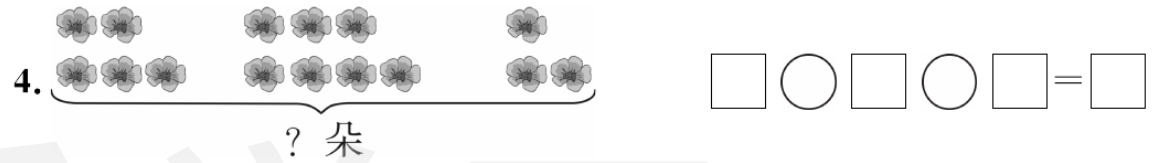


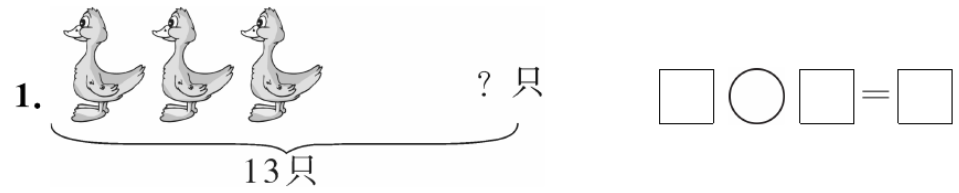


是按( )来分的。



是按( )来分的。

八、看图填算式。(16分)



九、解决问题。(17分)

1. 两只兔子一共拔了多少个萝卜? (6分)



$$\square \bigcirc \square = \square (\text{个})$$

2. 一年级有两个学习小组, 一小组得红花 8 朵, 二小组得红花 11 朵。(11分)

(1) 一小组比二小组少得几朵红花? (5分)

$$\square \bigcirc \square = \square (\text{朵})$$

(2) 两小组一共得多少朵红花? (6分)

$$\square \bigcirc \square = \square (\text{朵})$$



# 专题训练卷(一)

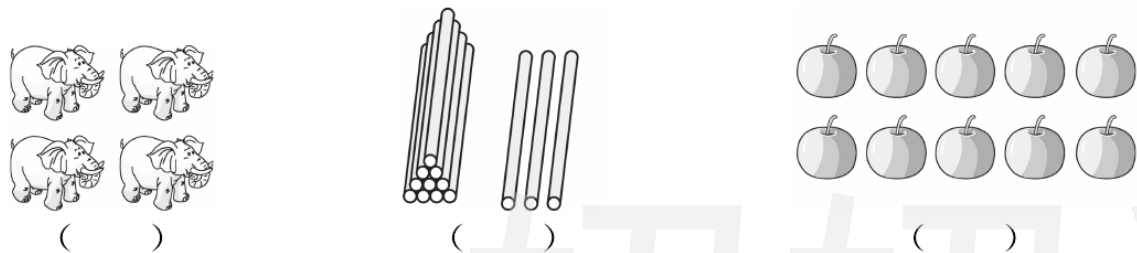
一本好卷

时间: 60分钟 满分: 100分

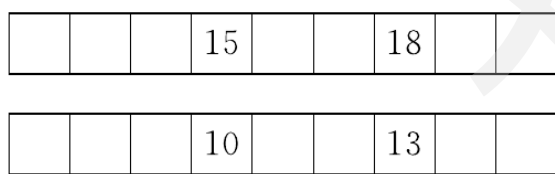
题号	一	二	三	四	五	六	七	八	九	总分	评卷人
得分											

## 一、填空。(32分)

1. 数一数, 写一写。(3分)



2.  里的数我知道。(7分)



3. 1个十和6个一组成的数是( )。

4. 19里面有( )个十和( )个一。

5.  3  0  12  10  19  20  11  8  16

数一数, 一共有( )张数字卡片。其中最大的数是( ), 最小的数是( )。从前面数第5张卡片上的数是( )。

6. 个位上是7, 十位上是1的数是( )。

7. 12里面有( )个十和( )个一。


8. 最大的一位数是( ), 最小的两位数是( ), 一个物体也没有用( )表示。

9. 19前面的一个数是( ), 后面的一个数是( )。与11相邻的两个数是( ), ( )。13和15中间的数是( )。

10. 数的组成与分解。(4分)




二、谁拿的卡片里的数大?(在○里填上“>”“<”或“=”)(8分)




三、轻松比较, 准确选择。(在正确答案后的○里画“√”)(10分)

1. 谁的数比19多1?



2. 它们谁拿的数比15小?



3. 一个数, 个位上的数比十位上的数大2, 这个数可能是:



4. 1个十和8个一组成的数是:



5. 与 15 相邻的两个数是：



四、比一比,填一填,画一画。(8分)

1. ○○○○○○○○ ( )和( )同样多  
 □□□□□ □比△ \_\_\_\_\_  
 △△△△△△△ ○比□ \_\_\_\_\_

2. 画△比○多3个。  
 ○○○○○○  
 \_\_\_\_\_

3. 画□比△少2个。  
 △△△△△△△△△△△△  
 \_\_\_\_\_

五、哪一排数字排列的规律与其他三排不一样,请画“√”。(2分)

4	6	8	10	12	( )
2	3	4	5	6	( )
3	4	5	6	7	( )
8	9	10	11	12	( )

六、我会数。(8分)



1. 一共有( )种水果。  
 2. 桃子是第( )个, 苹果是第( )个。  
 3. 菠萝是第( )个, 西瓜是第( )个。

4. 把前面的四种水果圈起来,把第4个水果涂上黄色。

七、我爱涂色。(按数字涂上颜色)(6分)

12	○○○○○○○○○○○○○○	4	○○○○○○○○○○○○○○
9	○○○○○○○○○○○○○○	8	○○○○○○○○○○○○○○
6	○○○○○○○○○○○○○○	19	○○○○○○○○○○○○○○

八、在计数器上写一写,读一读,画一画。(18分)

十位 个位	十位 个位	十位 个位
写作( )	写作( )	写作( )
读作( )	读作( )	读作( )
十位 个位	十位 个位	十位 个位
10	19	9

九、连一连。(8分)

5	10	4	9
7	2	6	8

--	--	--	--



# 专题训练卷(二)

一本好卷

时间: 60分钟 满分: 100分

题号	一	二	三	四	五	六	七	八	九	十	十一	总分	评卷人
得分													

## 一、我是口算小能手。(14分)

$3+6=$        $13-3=$        $2+7=$        $17-0=$        $5-5=$   
 $4-3=$        $7+7=$        $4-4=$        $5+10=$        $2+10=$   
 $9+7=$        $9+5=$        $7+8=$        $11-5=$        $3+8=$   
 $9-9=$        $0+0=$        $16-10=$        $8+9=$        $9-0=$   
 $4+7-1=$        $3+7-2=$        $5+4+7=$        $15-14+6=$   
 $5+0+5=$        $15-10-3=$        $8+8-10=$        $20-10-10=$

## 二、我会填。(18分)

1.  $9 + 3 = \square$

$8 + 5 = \square$

$9 - 6 + 8 = \square$

2. 5 连续加 2: 5、( )、( )、( )、( )。

5 连续加 3: 5、( )、( )、( )、( )。

3. 2 加 5 等于( ), 9 加 8 等于( ), 18 减 2 等于( ), 比 6 多 5 的是( ),

( ) 比 8 多 4, 7 加( ) 等于 16。

4. 在( ) 里填上适当的数。

$( ) + 10 = 13$        $12 + ( ) = 18$        $( ) - 7 = 10$

$4 + ( ) = 14$        $( ) - 6 = 14$        $10 + 7 - ( ) = 7$

$( ) - 10 - 4 = 0$        $10 + ( ) = 12$        $20 - ( ) = 15$   
 $( ) + 5 = 11$        $( ) + 4 = 13$        $( ) - 10 = 6$

## 三、我会排列。(3分)

$4+5$        $10-9$        $8+8$        $13-3$        $9+6$        $13+7$   
 $\underline{\hspace{1cm}} < \underline{\hspace{1cm}} < \underline{\hspace{1cm}} < \underline{\hspace{1cm}} < \underline{\hspace{1cm}} < \underline{\hspace{1cm}}$

## 四、我会比较。(在○里填上“>”“<”或“=”) (7分)

$5+4 \bigcirc 10$        $10-2 \bigcirc 6$        $8-3 \bigcirc 3$   
 $16-4 \bigcirc 7+6$        $16-5 \bigcirc 9+4$        $7+7 \bigcirc 12$   
 $15 \bigcirc 10+5$        $17-4 \bigcirc 7+4$        $9+6 \bigcirc 13$   
 $9+3 \bigcirc 10+2$        $15-4 \bigcirc 6+5$        $8+7 \bigcirc 17$   
 $18-4 \bigcirc 6+8$        $15 \bigcirc 8+7+0$

## 五、我会填表。(7分)

加数	7			6	5	8	12
加数	8	2	5	4	8		
和		10	18			11	19

被减数	18		12	19			17
减数		6	1		3	8	
差	10	11		16	12	5	9

## 六、找朋友。(5分)

$5-0$        $5+5+0$        $10-4$   
 $8+4$        $16-6-4$        $6+4$   
 $9+8$        $7+8-10$        $6+6$   
 $8-2$        $3+7+7$        $9-4$   
 $20-10$        $4+3+5$        $8+9$



七、我会填。(9分)

$$15 \xrightarrow{+2} \square \xrightarrow{+3} \square \xrightarrow{-10} \square \xrightarrow{-1} \square \xrightarrow{+6} \square$$

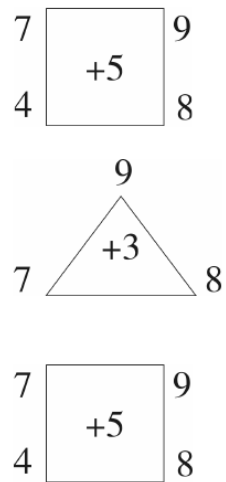
$$13 \xrightarrow{-3} \square \xrightarrow{+6} \square \xrightarrow{-4} \square \xrightarrow{+5} \square \xrightarrow{+2} \square$$

$$18 \xrightarrow{-5} \square \xrightarrow{+4} \square \xrightarrow{+3} \square \xrightarrow{-5} \square \xrightarrow{+4} \square$$

八、我会写算式。(12分)

10	18	8	9	16	7	8	17	9
$10+8=\square$	$\square+\square=\square$	$\square+\square=\square$	$\square+8=\square$	$\square+7=\square$	$\square+9=\square$	$\square+17=\square$	$\square+9=\square$	$\square+9=\square$
$8+10=\square$	$\square+\square=\square$	$\square+\square=\square$	$\square-8=\square$	$\square-7=\square$	$\square-9=\square$	$\square-17=\square$	$\square-9=\square$	$\square-9=\square$
$18-8=\square$	$\square-\square=\square$	$\square-\square=\square$	$18-\square=\square$	$16-\square=\square$	$7-\square=\square$	$8-\square=\square$	$17-\square=\square$	$9-\square=\square$
$18-10=\square$	$\square-\square=\square$	$\square-\square=\square$						

九、列算式。(6分)



\_\_\_\_\_

\_\_\_\_\_

\_\_\_\_\_

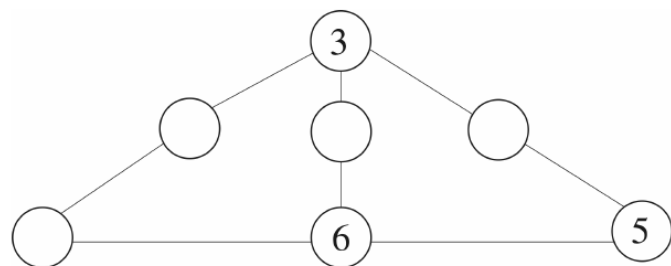
\_\_\_\_\_

\_\_\_\_\_

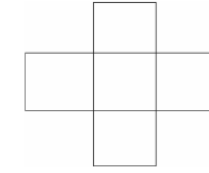
\_\_\_\_\_

十、我爱动脑。(6分)

1. 填数,使每行三个数的和是15。



2. 把3、4、5、6、7填入下图,使每横行、竖行的和为15。



十一、我会列式计算。(13分)

1. 一个数比8多5,这个数是多少?(2分)

2. 一个加数是11,另一个加数是8,和是多少?(2分)

3. 被减数是17,减数是5,差是多少?(2分)

4. 18比9多多少?(2分)

5. 7和12的和是多少?差又是多少?(2分)

6. 一个数比7多4,它与5的和是多少?(3分)





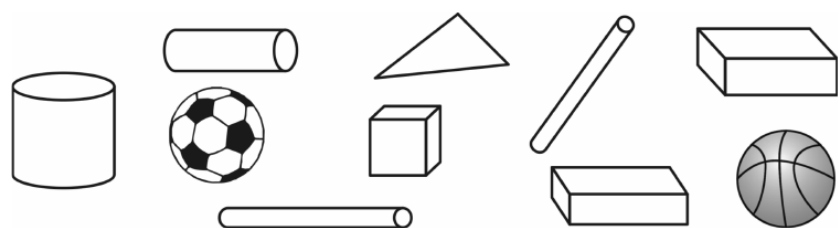
# 专题训练卷(三)

一本好卷

时间: 60分钟 满分: 100分

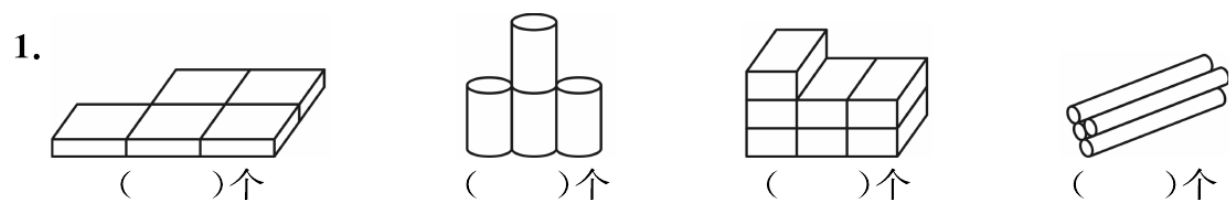
题号	一	二	三	四	五	六	七	八	九	总分	评卷人
得分											

## 一、填空。(12分)



有( )个, 有( )个, 有( )个, 有( )个。

## 二、数一数, 填一填。(16分)




有( )个

有( )个

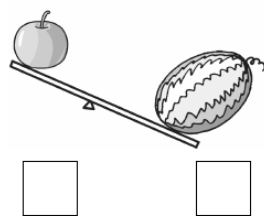
有( )个

有( )个




## 三、我会判断。(12分)


1. 重的画“√”。(2分)




2. 长的画“√”。(2分)




3. 高的画“√”。(2分)




4. 大的画“√”。(2分)



5. (1) 比一比, 在最大的动物下画“√”。(2分)

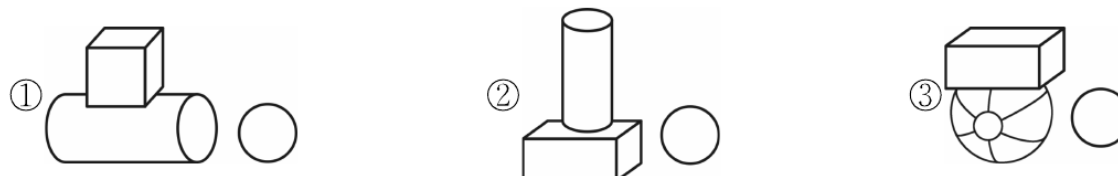


(2) 轻的画“√”, 重的画“○”。(2分)

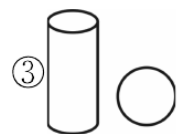


## 四、在正确答案后面的○里画“√”。(6分)

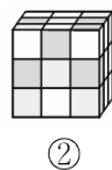
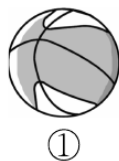
1. 哪组物体能站稳?



2. 哪个图形含有□?





五、选一选。(填序号)(8分)



六、我会分。(12分)

下面的六件物品,要把它们分成两类,如何分比较合理?把序号填写在横线上。



一类是: \_\_\_\_\_

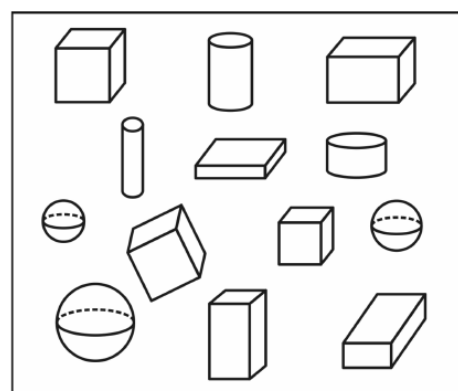
另一类是: \_\_\_\_\_



一类是: \_\_\_\_\_

另一类是: \_\_\_\_\_

七、我会数。(6分)



你能数出来吗?



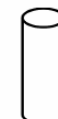
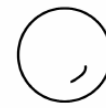
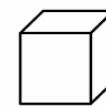

有( )个

有( )个

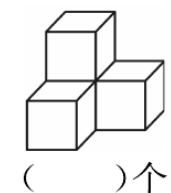
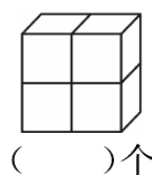
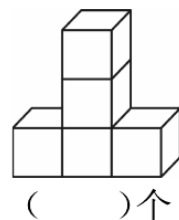
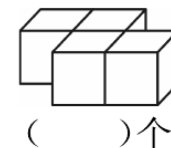
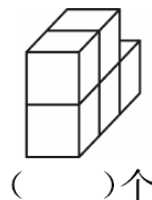
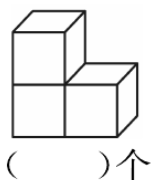
有( )个

有( )个

八、连一连。(10分)



九、数一数有几个正方体。(18分)





# 期末测试卷(一)

一本好卷

时间: 60分钟 满分: 100分

题号	一	二	三	四	五	六	七	八	九	十	十一	总分	评卷人
得分													

## 一、我会填。(19分)

### 1. 按顺序填数。(5分)

( )、5、( )、( )、8、( )、( )。

( )、19、( )、( )、16、( )、( )。

### 2. 比5大1的数是( ), 比10小1的数是( )。



(1) 上图一共有( )种水果。

(2) 排在第( ), 排在第( )。

(3) 排在第( ), 它的前边是( ), 后边有( )种水果。

### 4. 在○里填上“>”“<”或“=”。(6分)

$5 \bigcirc 7$        $10 \bigcirc 1$        $4+9 \bigcirc 8$        $2+3 \bigcirc 4$   
 $4+5 \bigcirc 9$        $7-2 \bigcirc 5+3$        $14-7 \bigcirc 6$        $16 \bigcirc 17$   
 $14 \bigcirc 18$        $7-4 \bigcirc 5$        $13-7 \bigcirc 8$        $3+7 \bigcirc 2+8$


## 二、画一画, 写一写。(6分)

1.  $\triangle \triangle \triangle$  \_\_\_\_\_  $3+( )=8$

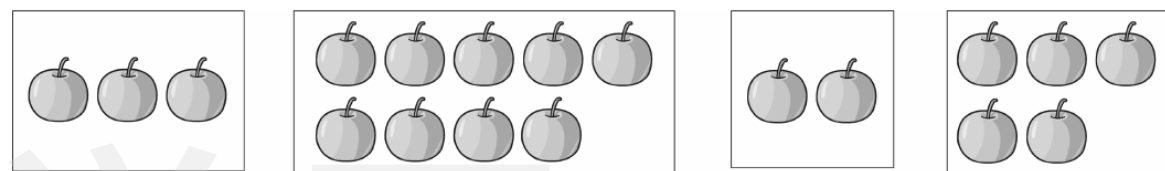
2.  $\bigcirc \bigcirc$  \_\_\_\_\_  $2+( )=9$

3.  $\star \star \star \star$  \_\_\_\_\_  $4+( )=13$


## 三、在叶子或花心里填上合适的数。(5分)



## 四、数一数, 连一连。(8分)



$3+6$      $2+2$      $5-4$      $9-6$      $2+4$      $7-5$      $1+6$      $8-3$



## 五、我能在○里填上“+”或“-”。(9分)

$4 \bigcirc 1=5$        $7 \bigcirc 2=5$        $3 \bigcirc 1=2$   
 $6 \bigcirc 4=10$        $5 \bigcirc 4=9$        $8 \bigcirc 6=14$   
 $4 \bigcirc 2 \bigcirc 3=3$        $6 \bigcirc 1 \bigcirc 2=3$        $2 \bigcirc 3 \bigcirc 1=6$   
 $9 \bigcirc 3 \bigcirc 2=14$        $13 \bigcirc 4 \bigcirc 2=11$        $5 \bigcirc 3 \bigcirc 9=17$

六、我是计算小能手。(6分)

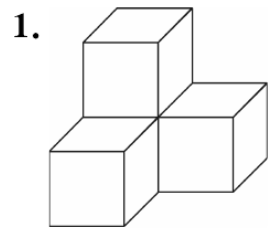
$1+9=$	$2+8=$	$6+7=$	$4+5=$
$10-3=$	$15-2=$	$10-5=$	$13-6=$
$3+3+3=$	$18-5-1=$	$15+3-3=$	$12+5-3=$

七、我会分。(把下面图形分为两类,只填序号)(6分)

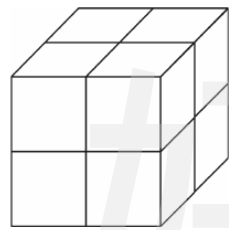


一类: \_\_\_\_\_ 另一类: \_\_\_\_\_

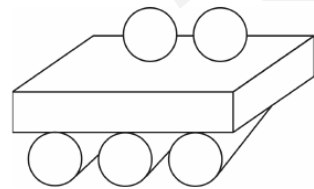
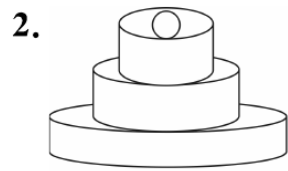
八、我会数。(8分)



正方体有( )个



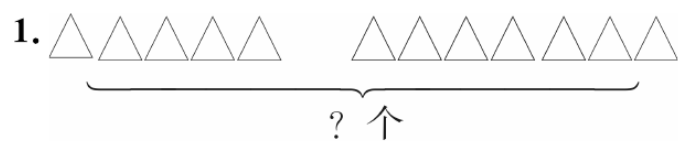
正方体有( )个



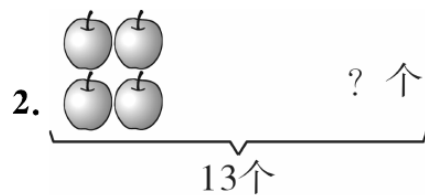
( )个圆柱

( )个球


九、我能看图列算式并计算。(12分)



$\square \bigcirc \square = \square$




$\square \bigcirc \square = \square$



$\square \bigcirc \square = \square$

$\square \bigcirc \square = \square$

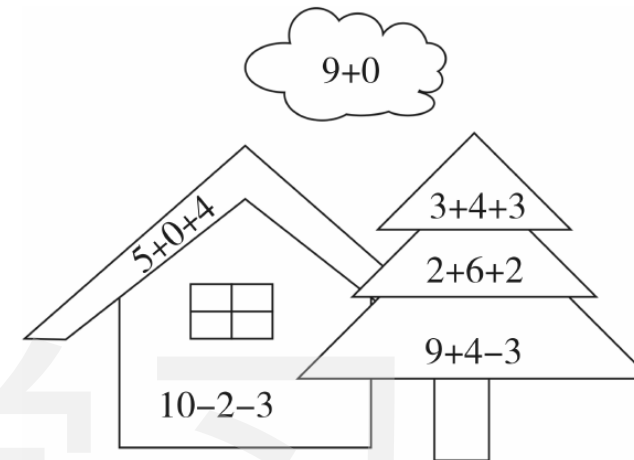


$\square \bigcirc \square = \square$

$\square \bigcirc \square = \square$

十、我会涂色。(12分)

1. 按得数涂一涂。黄色是9,黑色是5,绿色是10。(6分)



(1) 将第三个涂成红色。(2分)

(2) 将第六个涂成蓝色。(2分)

(3) 将两端涂成黄色。(2分)

十一、解决问题。(9分)

1. 我们小组有8个女同学,有6个男同学,我们小组共有几个同学?(4分)

2. 小明家原来有苹果13个,吃掉了5个,还剩下多少个苹果?(5分)





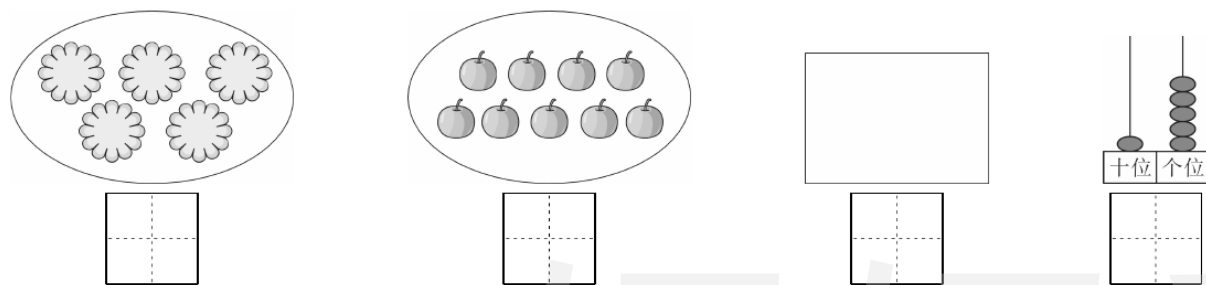
# 期末测试卷(二)

一本好卷

时间: 60分钟 满分: 100分

题号	一	二	三	四	五	六	七	八	九	十	总分	评卷人
得分												

## 一、看图写数。(4分)



## 二、我会填。(26分)

- 2、4、( )、( )、10、( )、( )、16。
- 写出11后面的5个数:( )、( )、( )、( )、( )。
- 10比3多( ),2比7少( )。比6多5的数是( ),比14少5的数是( )。

4. 3连续加3: 3、( )、( )、( )、( )。



一共有( )个图形,从前面数第( )个是圆柱体,第( )个是正方体,从后面数第5个是( ),第6个是( )。

- |        |
|--------|
| 9      |
| 3    □ |



12
8    □

15
5    □    4

14
1    □

## 三、想一想,画一画。(6分)

1. 多的画“√”,少的画“○”。



2. 长的画“√”,短的画“○”。



## 四、我是计算小能手。(8分)

- |       |       |       |         |
|-------|-------|-------|---------|
| 4+8=  | 6+7=  | 10+0= | 4+4+2=  |
| 7-2=  | 9+8=  | 12-7= | 7-3+4=  |
| 14-9= | 18-5= | 7+8=  | 10-7+9= |
| 9+3=  | 2+8=  | 9-4=  | 8+9-7=  |

## 五、我会比。(在○里填上“>”“<”或“=”)(6分)

- |            |            |             |
|------------|------------|-------------|
| 6+3 ○ 13   | 15-3 ○ 12  | 8+2 ○ 11    |
| 11 ○ 20-10 | 10 ○ 15-6  | 7-2 ○ 7+2   |
| 3+8 ○ 2+5  | 15-5 ○ 8+3 | 5+4 ○ 4+5   |
| 9+7 ○ 19-7 | 1+10 ○ 7+4 | 15-4 ○ 15+4 |

## 六、我会连。(6分)

- |      |     |      |      |     |      |
|------|-----|------|------|-----|------|
| 17-6 | 7+8 | 15-5 | 6+9  | 4+6 | 19-8 |
| 10   | 11  | 12   | 15   | 8   |      |
| 6+6  | 4+4 | 12-4 | 10-2 | 4+7 | 11+4 |

密 封 线 内 不 得 答 题



七、算一算,填一填。(10分)

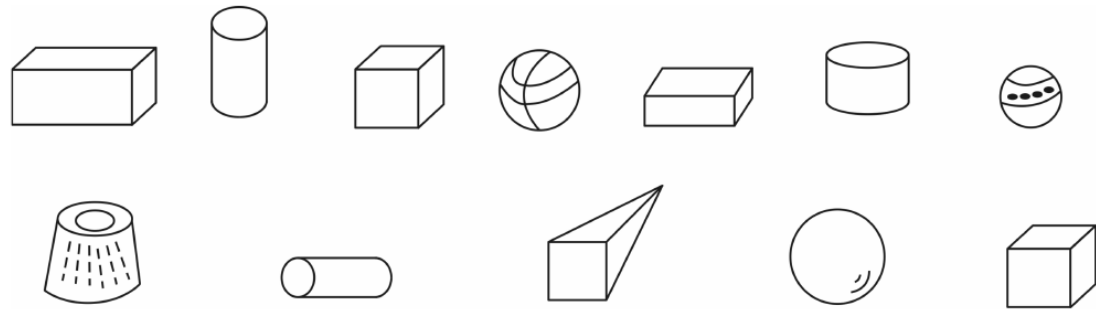
1.  $8 + 7 =$





9	
8	
7	
6	
5	

2.  $16 - 9 =$

16	
15	
14	
13	
12	

八、数一数,填一填。(4分)



			
( )个	( )个	( )个	( )个

九、我会看图写算式。(10分)

1.  $\square \bigcirc \square \bigcirc \square = \square$

2.  $\square \bigcirc \square \bigcirc \square = \square$

3.  $\square \bigcirc \square = \square$

4.  $\square \bigcirc \square = \square$

十、解决问题。(20分)

1. 小明家买了7个桃,吃了4个,还剩几个?(4分)

2. 树上停着9只鸽子,草地上有8只鸽子,一共有多少只鸽子?(4分)

3. 补充图表填空。(6分)

	钢笔	跳绳	作业本
原有	18支	( )根	14本
卖掉	8支	7根	( )本
还剩	( )支	8根	6本

4. 我做了8颗☆。



我做了7颗☆。



班里有18个人,这些☆每人一颗够吗?(6分)



# 期末测试卷(三)

一本好卷

时间: 60分钟 满分: 100分

题号	一	二	三	四	五	六	七	八	九	总分	评卷人
得分											

## 一、计算题。(6分)

$11-3=$	$6+5=$	$5+4-3=$	$7+4=$
$7-4=$	$16-3-2=$	$3+9=$	$7+9=$
$6+9=$	$14-6=$	$16-8=$	$12-4=$

## 二、智多星,我会填。(20分)

1. ( ) 1 2 ( ) 4 ( ) ( ) 7 8 ( ) 10 ( ) 12 ( ) ( )

2. 8前面第2个数是( ),后面第2个数是( )。

3. 1个十和8个一组成的数是( ),一个十和3个一组成的数是( )。

4. 右图表示的数是( );如果要表示19,个位上要添画

十位	个位
○	○○

( )个“○”。


5. 14和16的中间数是( ),这个数读作( )。

6. (1)在△下面画○,比△多2个。(2分)

△△△△△△

\_\_\_\_\_

(2)高的画“√”,矮的画“○”。(2分)



## 三、找朋友。(连线)(10分)

$5-0$	$5+5+0$	$10-4$
$8+4$	$16-7-3$	$3+7$
$9+8$	$7+8-10$	$14-2$
$13-7$	$3+7+7$	$11-6$
$20-10$	$19-10+3$	$8+9$

## 四、我会排。(12分)

1. 8 16 10 12 20 18

\_\_\_\_\_ > \_\_\_\_\_ > \_\_\_\_\_ > \_\_\_\_\_ > \_\_\_\_\_


2.  $10+9$   $8+7$   $13-9$   $2+4$   $5+6$   $12-4$

\_\_\_\_\_ < \_\_\_\_\_ < \_\_\_\_\_ < \_\_\_\_\_ < \_\_\_\_\_

## 五、我会比。(在○里填上“>”“<”或“=”)(6分)

$6 \bigcirc 9-2$	$7+7 \bigcirc 15$	$14 \bigcirc 5+7$
$13-3 \bigcirc 10$	$8+9 \bigcirc 16$	$7 \bigcirc 10-3$
$17-8 \bigcirc 4+5$	$5+5 \bigcirc 7+6$	$15-6 \bigcirc 10+0$
$3+8 \bigcirc 15-4$	$17-9 \bigcirc 12-6$	$13-0 \bigcirc 3+9$

六、数一数,填一填。(8分)



	( )个
	( )个
	( )个
	( )个

七、在2、3、6、8、11、14这6张卡片中选三个数写出两道加法算式和两道减法算式。

(8分)

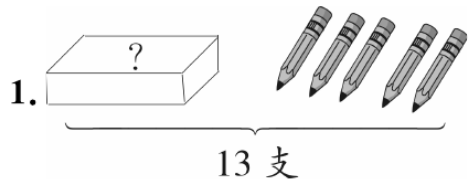
$$\square \bigcirc \square = \square$$

$$\square \bigcirc \square = \square$$

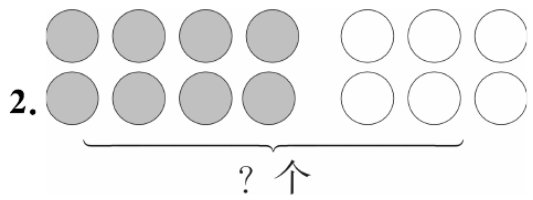
$$\square \bigcirc \square = \square$$

$$\square \bigcirc \square = \square$$

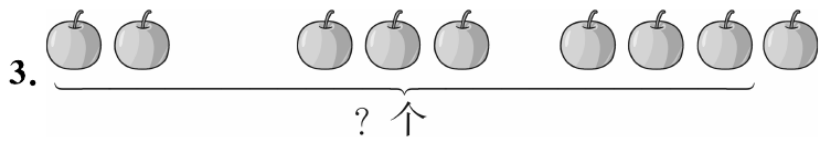
八、我会看图写算式。(12分)



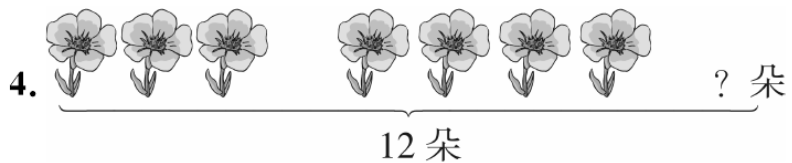
$$\square \bigcirc \square = \square$$



$$\square \bigcirc \square = \square$$



$$\square + \square + \square = \square$$



$$\square - \square - \square = \square$$

九、我能解决问题。(18分)

1. 小军做了11个 , 小强做了7个 , 小强再做几个风筝, 就和小军同样多? 两人一共做了多少个风筝? (4分)

2. 我有6张画片。



我有8张画片。



我的画片比你们两人的和少5张。



小华有多少张画片? (4分)

3. 体育室里有18个足球, 一班借出4个足球, 二班借出7个足球, 还剩下几个足球? (4分)



买两辆不同的玩具车。(6分)

(1)最少要多少钱?

(2)最多要多少钱?



# 期末测试卷(四)

一本好卷

时间: 60分钟 满分: 100分

题号	一	二	三	四	五	六	七	八	九	总分	评卷人
得分											

## 一、我会算。(10分)

$5-0=$	$4+13=$	$2+11=$	$5+2+7=$
$9+11=$	$18-10=$	$5+3=$	$16-10+7=$
$3+13=$	$9+6=$	$15-2=$	$15-7+8=$
$8+9=$	$12-4=$	$6+6=$	$16-6-10=$
$20-10=$	$9+9=$	$10-10=$	$10+9-2=$

## 二、我会填。(32分)

### 1. 看图写数。(5分)



2.  $9$  ( ) ( ) ( ) ( )  $14$   $15$  ( ) ( )  $18$  ( )

3. 15 这个数的“1”在( )位上,表示( )个十,“5”在( )位上,表示( )个一。

4. 20 里面有( )个十,20 里面有( )个一。

5. 与 10 相邻的两个数是( )和( )。


6. 在 3, 14, 0, 11, 20, 6, 17, 8 这些数中,最大的数是( ),最小的数是( ),把这些数按从大到小的顺序排列( )。

7.  $13-8=( )$ ,这道算式中( )是减数,( )是被减数,( )是差。

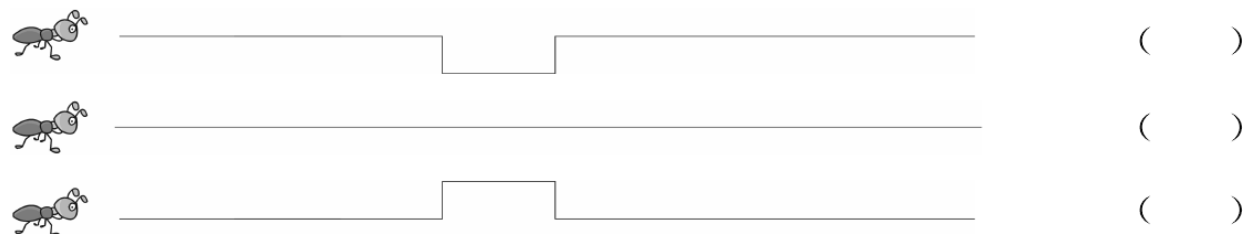
8. 19 连续减 3:  $19 \rightarrow ( ) \rightarrow ( ) \rightarrow ( ) \rightarrow ( ) \rightarrow ( )$

## 三、我会比。(7分)

1. 在多的后面画“√”,少的后面画“○”。(2分)



2. 哪只小蚂蚁能先到? 在后面的括号里画“√”。(2分)




3. 在○里填上“>”“<”或“=”。(3分)

$4+4 \bigcirc 12$	$17 \bigcirc 8+9$	$13-5 \bigcirc 9$
$15-6 \bigcirc 14-8$	$8+4 \bigcirc 7+5$	$5+0 \bigcirc 11-6$


## 四、好朋友,手拉手。(连线)(6分)

$9-6+8$	12	$6+9-4$
$6+7-3$	11	$10+9-6$
$15-10+9$	10	$7+4-1$
$7-4+9$	13	$10-5+7$
$8+9-4$	14	$3+5+6$
$18-10+7$	15	$7+9-1$

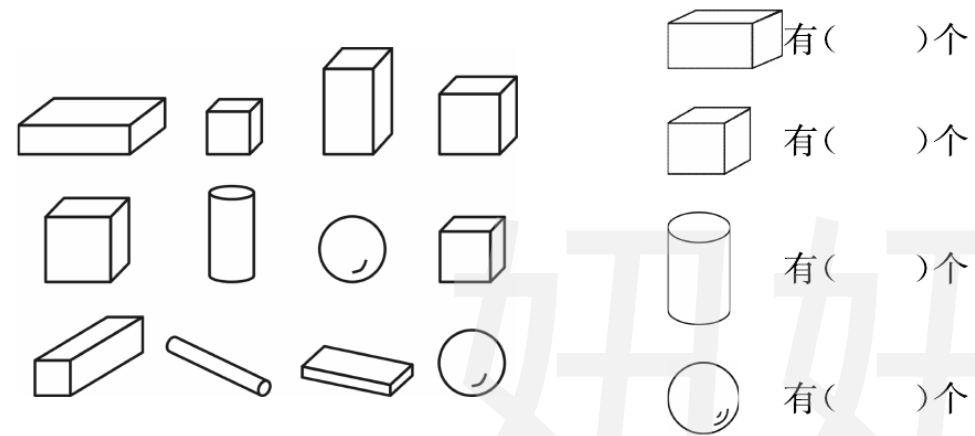
## 五、我给小花补叶子。(6分)



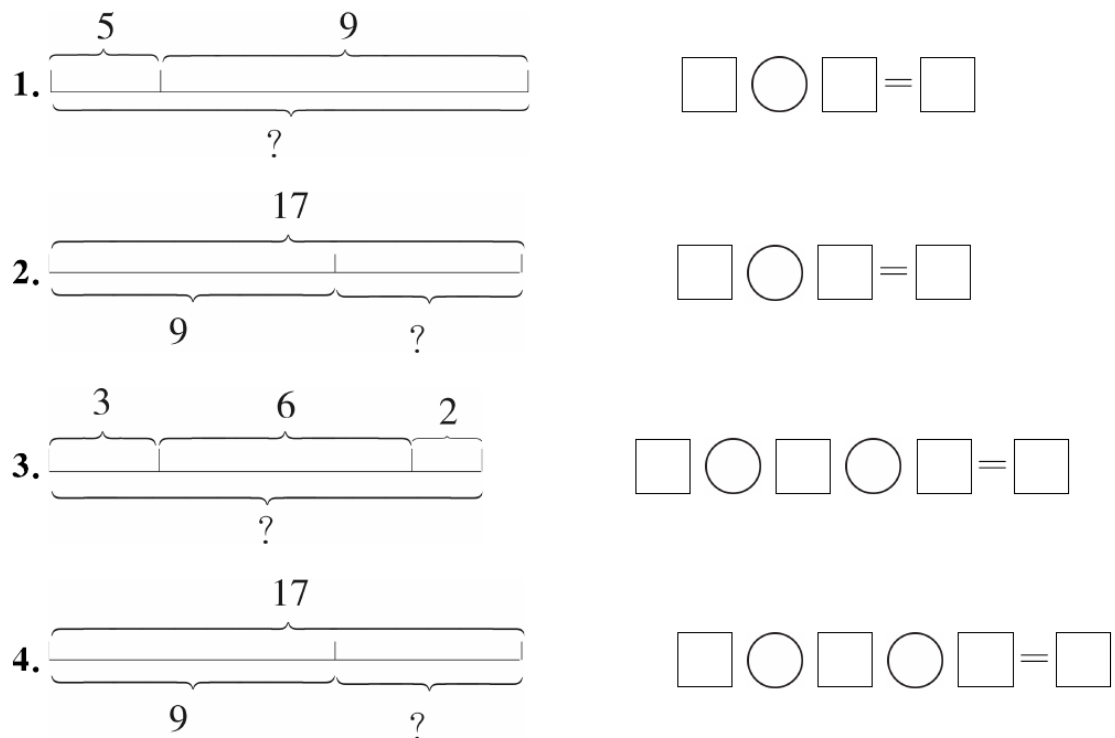
六、把每组中不同类的圈出来。(3分)



七、数一数,填一填。(4分)



八、我会看图列算式。(8分)



九、解决问题。(24分)

1. 篮球队有15名同学。(6分)

男同学有8名。



女同学有多少名?



2. 花园里先飞走了8只蝴蝶,又飞走了12只蝴蝶。(8分)

(1)两次共飞走了多少只蝴蝶?(4分)

(2)第二次比第一次多飞走了多少只?(4分)

3. 看图按要求提出数学问题,并解答。(10分)



5元



12元



7元

(1)提出一个加法问题。(5分)

(2)提出一个减法问题。(5分)





# 期末测试卷(五)

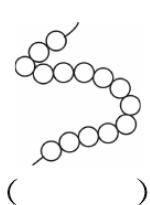
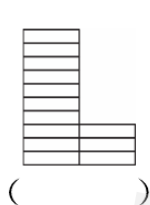
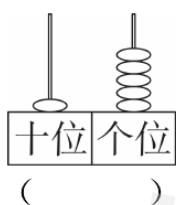
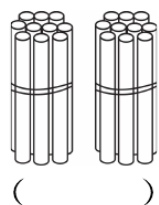
一本好卷

时间: 60分钟 满分: 100分

题号	一	二	三	四	五	六	七	总分	评卷人
得分									

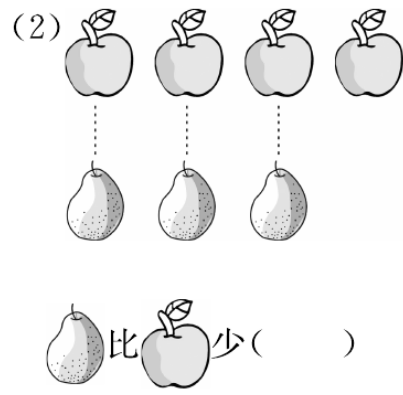
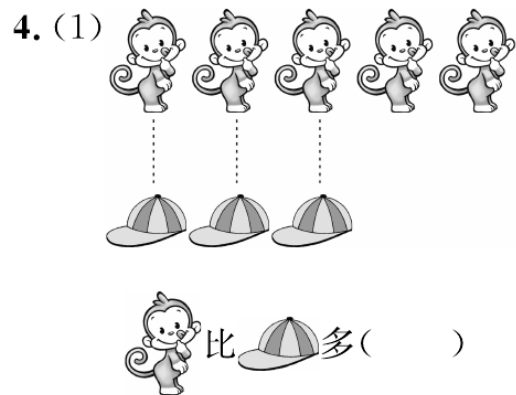
## 一、填空。(29分)

1. 看图数数。



2. 1个十和4个一合起来是( ); 18里面有( )个一和( )个十;  
2个十组成的数是( ), 它前面的那个数是( ); 在0到20中, 个位上的数比十位上的数大5的数是( )。

3. 13读作:( ); 20读作:( )。



5. 在○里填上“>”“<”或“=”。

16 ○ 6+9

9+3 ○ 17-5

19-6 ○ 15

16 ○ 8+8

12+3 ○ 16

19-5 ○ 12+5

6. 在( )里填上“+”或“-”。

9( )4=13

16( )3=13

8( )9=17

16( )6=10

8( )4=4

14( )4=2( )8

## 二、判断。(正确的在括号内打“√”,错误的打“×”)(5分)


- 与11相邻的两个数是12和13。 ( )
- 在一个队伍中,小亮的前面有5人,后面有4人,这个队伍一共有9人。 ( )
- 20里面有2个十。 ( )
- 最大的一位数是9。 ( )
- 小红比小明大3岁,也可以说小明比小红小3岁。 ( )

## 三、选择。(将正确答案的序号填在括号里)(5分)

- 是由( )小正方体组成。  
 ①7个                      ②8个                      ③9个
- 在一个队伍中,小红排在第4,小明排在第10,小红与小明之间有( )人。  
 ①4人                      ②6人                      ③5人
- 与5+6结果不相同的算式是( )。  
 ①6+5                      ②4+7                      ③8+2
- 1个十,2个一组成的数字是( )。  
 ①12                      ②21                      ③11
- 星期天我看《数学家的故事》,从第10页看到第16页。一共看了( )页。  
 ①6页                      ②7页                      ③8页

## 四、按要求做。(11分)

1. 按要求填空。(6分)



密

封

号

线

内

姓

不

得

班

答

学

题

校

①填表:

正方体	圆柱	长方体	球
( )个	( )个	( )个	( )个

②列算式:圆柱和球一共有多少个?  $\square \bigcirc \square = \square$  (个)

长方体比正方体少多少个?  $\square \bigcirc \square = \square$  (个)

2. 把下面的算式按结果从小到大排列(填算式的序号)。(5分)

①9+8 ②17-7 ③6+9 ④8+3 ⑤19-3

( ) < ( ) < ( ) < ( ) < ( )

五、计算。(20分)

1. 在( )内填上适当的数。(6分)

8+( )=12      9+( )=11      12-( )=8

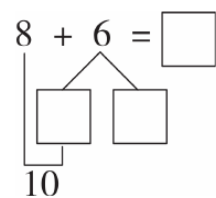
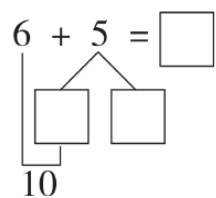
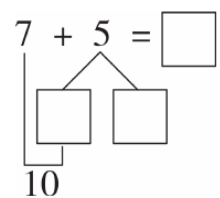
5+( )=9      ( )-4=3      ( )+5=12

2. 直接写出得数。(8分)


19-3-5=      14-4-6=      9-6+8=      7+5-8=

3+5+6=      10-1-8=      18-5-4=      17-9+3=

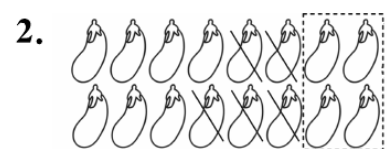
3. 凑十法。(6分)



六、看图列算式。(21分)



$\square \bigcirc \square = \square$  (只)



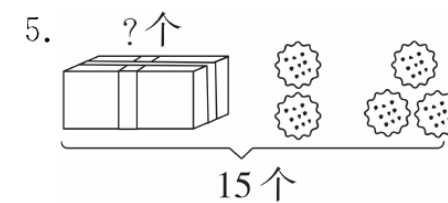
$\square \bigcirc \square \bigcirc \square = \square$  (个)



$\square \bigcirc \square \bigcirc \square = \square$  (人)



$\square \bigcirc \square = \square$  (个)




$\square \bigcirc \square \bigcirc \square = \square$  (个)

6. 一共有多少个水果?



$\square \bigcirc \square = \square$  (个)



$\square \bigcirc \square \bigcirc \square = \square$  (个)

七、解决问题。(9分)

1. 小猫吃了5条鱼,还剩7条,原来有多少条鱼?

$\square \bigcirc \square = \square$  (条)

答:原来有( )条鱼。

2. 给小朋友们分了8个苹果,盘子里还剩9个苹果。原来有几个苹果?

$\square \bigcirc \square = \square$  (个)

答:原来有( )个苹果。

3. 书店里有16人,走了8人,又来了4人,现在有几?

$\square \bigcirc \square \bigcirc \square = \square$  (人)

答:现在有( )人。

XS版一年级(上)参考答案

第1周测试卷

一、

	●●●○○○○○
	●●●●●○○○
	●●●●●○○○

二、

三、1.

2.

四、1.

2.

五、1.

2.

六、

第2周测试卷

一、

二、

3	△△△
5	△△△△△
2	△△
4	△△△△

三、2 3 1 0

四、2 4 1 3 4

五、

六、 $4 > 3$   $4 < 5$   $3 = 3$

七、 $> = <$  5 0 5

八、(答案不唯一)

```

    4       3
   / \   / \
  [2] [2] [3] [0] [5]
   \   /   \ /
    5       5
    
```

九、4 5 0

十、4 4

第3周测试卷

一、

二、1.

2.

3.

4.

三、4 5 3  $4 < 5$   $5 > 3$

四、3 1 4

五、3 3 4 4 2 5 4 3 4 2 5 0 2 1 1

六、 $< = > > < <$

七、 $2+3=5$   $1+3=4$   
 $3-2=1$   $3-1=2$   
 $4-3=1$   $4-1=3$

第4周测试卷

一、8 9 7 6

二、略

三、9 7 8

四、0 2 4 5 7 9 10

1. 10 0 2. 9, 10 4, 5 3. 10

五、 $> = <$  2 10 4 1

六、3 6 5 6 5 5 4 8 6 3

七、4 9 4 5 10

八、6 4 5

第5周测试卷

一、6 6 4 2 7 7 5 2

二、5 6 7 7 6 5 4 6 3 5

三、7 6 5 4 3 2 6 5 4 3 2 1

四、7 6 7 7 6 5 3 7 2 0  
7 6 0 1 3 2

五、 $> < > < > =$

六、2 6 2 5 (答案不唯一)

七、5 5 2 4 5 6 3 6

八、 $6+1=7$   $7-2=5$

第6周测试卷

一、 $2+6=8$   $6+2=8$   $8-2=6$   
 $8-6=2$   $4+5=9$   $5+4=9$   
 $9-4=5$   $9-5=4$

二、7 9 1 0 8 2 8 2 9 2 9  
3 9 6 4 9

三、6 9 5 0 6 4 1 9

四、 $< < < = > < <$   
 $> = < < = = <$

五、7 6

六、 $4+5=9$   $9-3=6$   $7+2=9$   
 $8-4=4$   $3+6=9$   $9-4=5$

第7周测试卷

一、 $2+8=10$   $8+2=10$   $10-2=8$   
 $10-8=2$   $4+6=10$   $6+4=10$   
 $10-6=4$   $10-4=6$

二、7 4 8 5 9 6 8 3 5 1

三、10 9 4 10 7 10 5 10 5  
6 9 3

四、 $> = = < > < > = <$   
 $+ + - +$

六、2 3 7 0 4 3

七、 $5+3=8$   $10-6=4$   $7+3=10$   
 $10-3=7$

八、6

第8周测试卷

一、0 10 1 10 8 3 5 1 5 9 10  
8 0 10 5 1 8 8 7 9 8

二、 $1+7=8$   $2+6=8$   $3+5=8$   
 $4+4=8$

三、8 9 5 1 4 8 6 4

四、

五、 $6+2=8$   $9-3=6$   $1+3+5=9$   
 $10-4-3=3$   $9-2-3=4$   
 $5+5-3=7$

六、 $7+3-6=4$

第9周测试卷

一、

二、1.

2.

三、2 2 2 1

四、

五、1.

2.

3.

六、裙子: ① ② ⑧  
 上衣: ③ ⑥  
 裤子: ④ ⑤ ⑦

第10周测试卷

一、1. 15 20 4 11  
 2. (1)个 十 (2)17 1 3  
 3. 10 12 14 16 18 20  
 (1)20 10 (2)17 19  
 (3)17 12  
 4. (1)16 17 18 (2)20 17 16 15  
 (3)13 11 9 7 (4)14 16 18 20

二、 $10+4=14$   $4+10=14$   $10+6=16$   
 $6+10=16$

三、17 18 19 16 15 13 14 17

四、 $< = > < = >$

五、9, 11 15, 18, 16

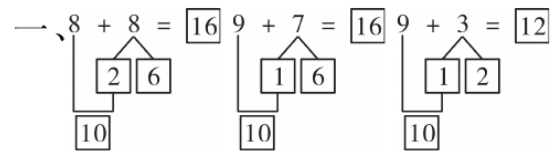
第11周测试卷

一、13 17



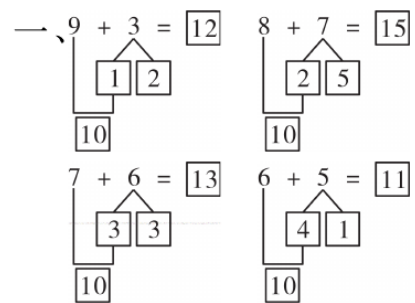
- 二、1. 14  
 2. 3 3个一 1 1个十  
 3. 1 9 17  
 4. (1)11 5 (2)15 17 (3)9 17  
 三、14 15 17 14 10 11 18 17  
 17 18 17  
 四、15+4=19 17-2=15  
 五、1. 16-4=12  
 2. (1)6+12=18 (2)3

第12周测试卷



- 二、15 15  
 三、
- 四、10 17 16 13 12 15  
 五、= > < = > =  
 六、9+9=18 8+4=12  
 七、1. 9+4=13 2. 8+7=15

第13周测试卷



- 二、11 15 12 13 11 14 15 14  
 12 13 11 11  
 三、= = > = < =  
 四、9+6=15 8+4=12  
 五、1. 6+7=13 2. 8+8=16  
 3. (1)8+6=14 (2)5+6=11

第14周测试卷

- 一、5+7=12 12-5=7 12-7=5  
 8+5=13 13-8=5 13-5=8  
 二、9 7 7 8 6 4 6 3 3 7 6  
 3  
 三、= > = < > >


- 四、3 7  
 五、12-9=3 13-9=4 11-9=2  
 12-8=4  
 六、1. 13-7=6 2. 12-5=7

第15周测试卷

- 一、7 5 9 13 8 6 6 8 6 4  
 3 9 9 9 5 5  
 二、4 6 8 7 8 7 5 9  
 三、> < > < = < = >  
 四、16-8=8 4+8=12 16-7=9  
 18-9=9  
 五、1. 15-6=9  
 2. (1)14-8=6 (2)14-6=8  
 3. 12-7=5

第16周测试卷

- 一、7 8 7 10 3 3 11 12 12  
 8 13 11 8 6 15 18 15 5  
 13  
 二、1. 14 14 19  
 2. 15 17 18 19 17 16 15 19  
 3. 1 8 20 4. > > < =  
 5. 12 1 9 10 10 1(答案不唯一)



- 四、8+8=16 13-6=7  
 五、1. 7+6=13 2. 13-8=5

第一单元测试卷

- 一、1. 3 1 5 4 1 0  
 2. 5 2 4  
 二、略  
 三、略  
 四、1. ○△ △○ 2. ○△ ○△  
 3. ○△ ○△  
 五、1. 0 1 2 3 4 5  
 2. 5 4 3 2 1 0

- 六、4 2 3  
 七、4 等于4 5 大于3 2<4  
 2 小于4 3=3 3 等于3  
 八、5 3 4 4 1 2 0 0 5 0 2  
 3 1 0 3 1 0 5 4 3  
 九、1. 3+1=4 或 1+3=4  
 4-1=3 或 4-3=1  
 2. 2+2=4 4-2=2  
 3. 3+2=5 或 2+3=5  
 5-3=2 或 5-2=3  
 4. 2+1=3 或 1+2=3  
 3-1=2 或 3-2=1  
 十、2 2 1

第二单元测试卷

- 一、1. 7 8 2. 2 10 5 5  
 二、< > = =  
 三、1. ②√ 2. ③√ 3. ③√ 4. ①√  
 四、7 10 8 6 5 10 10 1 7 3  
 9 6 9 9 0 10 0 9  
 五、1. 4+5=9 2. 8-5=3  
 六、6-1+2=7 8+2-5=5  
 3+5+2=10 9-4-3=2  
 七、4+3+1=8  
 八、6 10  
 九、1. 8 2. 9 5+4=9  
 十、5 7 2 4 6

月考巩固卷(一)

- 一、1. 3 8 6 6 10 5 10 7  
 2. 5 4 2 4  
 3. (1)0 2 3 5 (2)2 2  
 (3)图略 3 2 2 3 1 4  
 4. 5 3 0  
 1+6 2+5(答案不唯一)  
 5. 略  
 6. + - + - +(或-) -  
 - +  
 7. > > = = > <  
 二、略  
 三、1. 5 7 7 5 3 7 1 8 7 9 2

- 0 10 9 9 9 3 1 4 8  
 2. 9 9 0 1 5 9 1 5 9  
 四、1. 4+2=6 2+4=6 6-2=4  
 6-4=2  
 2. 6+3=9 3+6=9 9-3=6  
 9-6=3  
 3. 5+1+3=9 4. 8-3+2=7  
 5. 8-2=6 6. 5+4=9

五、略

第三单元测试卷

- 一、略  
 二、4 2 2 3  
 三、略  
 四、1. ①√ 2. ②√ 3. ②√ 4. ③√  
 五、1. 4 2. 7 3. 3 4. 5  
 六、略  
 七、2 2 3 2  
 八、略  
 九、②④⑥ ①③⑤  
 十、略

期中检测卷

- 一、6 3 7 2 10 1  
 二、1. 4 7 2. 8 10 10  
 3. 5 7 8 2  
 4. 1 3 4 6 7 8 10  
 5. 7 1 5 4 6 2 5  
 6. 8 1 10  
 10>9>8>7>5>4>2>1  
 三、略  
 四、①⑥ ②③⑨ ⑤⑩ ④⑦⑧  
 五、6 8 4 3 5 3 6 4  
 六、略  
 七、6 3 4 1 5 7 7 3  
 八、3 3 4 7 3 1 1 5 4 2 4  
 10 4 10 8 4 8 6 4  
 九、1. 3+7=10 2. 7-4=3  
 3. 10-3-2=5  
 4. 5+3=8 3+5=8 8-5=3  
 8-3=5  
 十、3 3 3 2

十一、略

第四单元测试卷

- 一、14 12 10 15 20  
 二、1. 16 13 1 8 2 12  
 2. 9 13 15 16 17 20  
 3. 17 19 20 18  
 11 15 13 10  
 4. 16 12 20 十八 十一 十七  
 5. 15 16 17 18  
 6. 6 17 11  
 7. 20 0

$0 < 7 < 11 < 12 < 18 < 20$

三、 $> < < > > < > =$   
 $= > = >$

四、+ - - - - + -  
+ -

五、16 19 9 8 18 10 6 16 14  
10 12 16 19 14 16

六、略

七、19 16 8 10 13 18 7 18  
17 5 15 19 11 11 9 17

八、1.  $17 - 10 = 7$  2.  $3 + 7 + 5 = 15$   
3.  $6 + 7 = 13$  4.  $15 - 6 = 9$

九、1.  $15 + 4 = 19$ (人)  
2.  $16 - 4 = 12$ (条)  
3.  $19 - 9 + 4 = 14$ (只)  
4. 15

十、略

第五单元测试卷

一、7 13 9 13 13 11 12 15 10  
15 15 18 14 13 12 19 14  
12 3 14

二、1. 略  
2. 1 4 1 5 2 3 2 4 3 2  
3 3(答案不唯一)  
3. 7 10 13 16 5 9 13 17

三、略

四、略

五、1.  $< < = = > = >$   
 $= < < < <$

2. + + - - + + -  
- + +

六、 $9 - 6 < 5 + 6 < 9 + 4 < 8 + 6 < 10 + 7$   
七、 $5 + 7 = 12$   $7 + 5 = 12$   $7 + 8 = 15$   
 $8 + 7 = 15$

八、略

九、1.  $7 + 5 = 12$  2.  $8 + 5 = 13$

3.  $13 - 6 + 7 = 13$

十、1.  $7 + 9 = 16$ (人)  
2. 12个 16根 9个

3.  $6 + 4 = 10$ (元)

4.  $8 + 6 + 1 = 15$ (个)

5. (1)  $8 + 5 = 13$ (页)  
(2)  $13 + 1 = 14$ (页)

月考巩固卷(二)

一、1. 14 十四 16 十六 20 二十  
2. 10 4 14 3. 11 12 13  
4. 16 1 6 10 13 2 3 10  
13 3 3 10

5. 16 12 10 8 0 6 15 18  
二、12 10 11 14 19 11 14 15  
12 13 12 20 16

三、略

四、1. 10 2 10 0 6 6 10 10  
2. - - + - + - + -

五、10 5 2 1

六、略

七、19 17 7 12 14 4  
八、1.  $6 + 10 = 16$  2.  $15 - 5 = 10$   
3.  $10 - 5 = 10$  4.  $8 + 6 = 14$

九、1.  $8 + 8 = 16$ (面)  
2. (1)  $8 + 5 = 13$ (头)  
(2)  $5 + 9 = 14$ (头) (3) 略

3.  $9 + 7 = 16$ (辆)

第六单元测试卷

一、11 9 5 8 9 13 15 7 8  
10 8 6 9 5 7 9 8 3

二、1. 略 2. 15 3. 14 4. 8

5. 2 2 2 7 7 7 8 3 3 8  
7 1 1 7

6. 13 10 7 4 1 14 10 6 2

三、 $< > = < < = < =$   
 $< = > >$

四、9 11 4 12 3 14 8 3 12  
7 5 14 8 15 6

五、 $8 + 9 = 17$   $9 + 8 = 17$   
 $17 - 8 = 9$   $17 - 9 = 8$

六、6 14 4 7 10 0

七、略

八、略

九、9 5 8 9 11 12 4 8 7 14

十、 $18 - 9 = 9$   $18 - 8 = 10$   $18 - 0 = 18$   
 $18 - 12 = 6$   $18 - 5 = 13$   $18 - 18 = 0$   
 $18 - 14 = 4$   $18 - 10 = 8$

十一、1.  $14 - 7 = 7$  2.  $16 - 8 = 8$   
3.  $12 - 4 - 3 = 5$

十二、1.  $15 - 6 = 9$ (个)  
2. (1)  $17 - 4 - 7 = 6$ (元)  
 $17 - 9 = 8$ (元)

$17 - 15 = 2$ (元)

$17 - 9 - 7 = 1$ (元)

(2) 不能同时买三种物品,任何三种物品的价格和都大于17元。

第七单元测试卷

一、1. 4 5 2 10 8 2. 略  
3. (1) 10 (2) 略 4. 3 5. 1 8

6. 16 7. 10 12 18 20  
二、9 17 7 10 5 10 10 14 7  
8 9 10 6 9 11

三、4 4 3 2  
四、16 5 3 10 12 10 13 10 3  
15 19 10 5 10 3 8 10 10  
15 7

五、1. 第一杯水最多,第二杯水最少  
2. 第三杯水最甜

六、14 15 17 19 20 11 13 17  
七、1. 长短 2. 条纹

八、1.  $13 - 3 = 10$  2.  $4 + 6 = 10$   
3.  $10 + 4 - 5 = 9$

4.  $5 + 7 + 3 = 15$

九、1.  $5 + 7 = 12$

2. (1)  $11 - 8 = 3$  (2)  $8 + 11 = 19$

专题训练卷(一)

一、1. 4 13 10  
2. 12 13 14 16 17 19 20 7  
8 9 11 12 14 15

3. 16 4. 1 9 5. 9 20 0 19  
6. 17 7. 1 2 8. 9 10 0  
9. 18 20 10 12 14

10. 4 8 3 8

二、 $< < > =$

三、略

四、1.  $\bigcirc \triangle$  少2 多2  
2. 略 3. 略

五、略

六、1. 7 2. 7 3 3. 4 1  
4. 略

七、略

八、16 十六 20 二十 12 十二  
图略

九、图略

专题训练卷(二)

一、9 10 9 17 0 1 14 0 15  
12 16 14 15 6 11 0 0 6  
17 9 10 8 16 7 10 2 6  
0

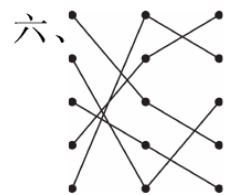
二、1. 12 1 2 10 13 2 3 10  
11 3  
2. 7 9 11 13 8 11 14 17  
3. 7 17 16 11 12 9  
4. 3 6 17 10 20 10 14 2  
5 6 9 16

三、 $10 - 9 < 4 + 5 < 13 - 3 < 9 + 6 < 8 + 8$   
 $< 13 + 7$

四、 $< > > < < > = >$   
 $> = = < = =$

五、15 8 13 10 13 3 7 8 17  
11 3 15 13 8





六、

七、17 20 10 9 15 10 16 12

17 19 13 17 20 15 19

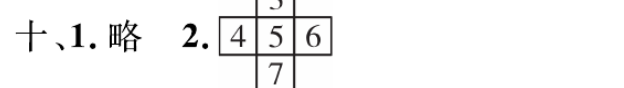
八、18 18 10 8

9+7=16 7+9=16 16-7=9

16-9=7 8+9=17 9+8=17

17-8=9 17-9=8

九、略



十一、1. 8+5=13 2. 11+8=19

3. 17-5=12

4. 18-9=9

5. 7+12=19 12-7=5

6. 7+4=11 11+5=16

**专题训练卷(三)**

一、2 1 4 2

二、1. 5 4 7 4

2. 2 2 6 8

三、略

四、1. ② √ 2. ① √

五、⑤⑧ ③⑦ ①⑥ ②④

六、1. ①③⑥ ②④⑤

2. ①③⑤ ②④⑥

七、3 3 3 4



八、

九、3 5 4 5 4 4

**期末测试卷(一)**

一、1. 4 6 7 9 10 20 18 17 15 14

2. 6 9

3. (1)6 (2)3 5

(3)2 苹果 4

4. < > > > = < >

< < < < =

二、1. 5 2. 7 3. 9

三、1 8 16 6 8

四、略

五、+ - - + + + + -

- - + + + + - +

+ +

六、10 10 13 9 7 13 5 7 9

12 15 14

七、①④⑥ ②③⑤

八、1. 4 8 2. 6 3

九、1. 5+7=12 2. 13-4=9

3. 9+8=17 8+9=17 17-8=9

17-9=8

十、略

十一、1. 8+6=14(个)

2. 13-5=8(个)

**期末测试卷(二)**

一、5 9 0 15

二、1. 6 8 12 14

2. 12 13 14 15 16

3. 7 5 11 9

4. 6 9 12 15

5. 8 5 7 三角形 长方体

6. 6 4 6 13

三、略

四、12 13 10 10 5 17 5 8 5

13 15 12 12 10 5 10

五、< = < > > < > <

= > = <

六、略

七、1. 17 16 15 14 13

2. 7 6 5 4 3

八、2 2 3 3

九、1. 8+8-6=10

2. 4+6+2=12

3. 17-4=13 4. 15-7=8

十、1. 7-4=3(个) 2. 9+8=17(只)

3. 10 15 8

4. 8+7=15 15<18 不够

**期末测试卷(三)**

一、8 11 6 11 3 11 12 16 15

8 8 8

二、1. 0 3 5 6 9 11 13 14

2. 6 10 3. 18 13 4. 12 7

5. 15 十五 6. 略

三、



四、1. 20>18>16>12>10>8

2. 13-9<2+4<12-4<5+6<8+7<

10+9

五、< < > = > = = <

< = > >

六、1 1 5 4

七、6+8=14 8+6=14 14-8=6

14-6=8

(答案不唯一)

八、1. 13-5=8 2. 8+6=14

3. 2+3+4=9 4. 12-3-4=5

九、1. 11-7=4(个) 11+7=18(个)

2. 6+8-5=9(张)

3. 18-4-7=7(个)

4. (1)5+7=12(元)

(2)7+9=16(元)

**期末测试卷(四)**

一、5 17 13 14 20 8 8 13 16

15 13 16 17 8 12 0 10

18 0 17

二、1. 4 0 9 13 12

2. 10 11 12 13 16 17 19

3. 十 1 个 5 4. 2 20

5. 9 11

6. 20 0

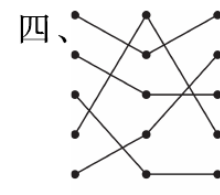
20>17>14>11>8>6>3>0

7. 5 8 13 5

8. 16 13 10 7 4

三、1. 略 2. 略

3. < = < > = =



四、

五、略

六、略

七、4 4 2 2

八、1. 5+9=14 2. 17-9=8

3. 3+6+2=11 4. 13-5-5=3

九、1. 15-8=7(名)

2. (1)8+12=20(只)

(2)12-8=4(只)

3. 略

**期末测试卷(五)**

一、1. 20 15 13 14

2. 14 8 1 20 19 16

3. 十三 二十 4. 2 1

5. > = < = < <

6. + - + - - - +

二、1. × 2. × 3. √ 4. √ 5. √

三、1. ② 2. ③ 3. ③ 4. ① 5. ②

四、1. ① 4 5 3 6

② 5+6=11 4-3=1

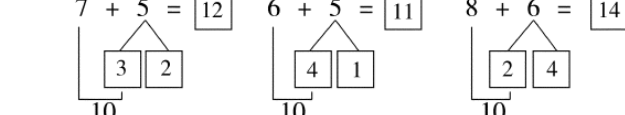
2. ② < ④ < ③ < ⑤ < ①

五、1. 4 2 4 4 7 7

2. 11 4 11 4 14 1 9 11

3.

7 + 5 = 12 6 + 5 = 11 8 + 6 = 14



六、1. 18-5=13

2. 16-4-5=7

3. 5+2-4=3

4. 14-6=8

5. 15-2-3=10

6. ① 9+5=14 ② 4+5+3=12

七、1. 5+7=12 12

2. 8+9=17 17

3. 16-8+4=12 12