

一本好卷子



妞妞爱学习

数学

1

一年级上册

SJ

严格遵循命题趋势，科学设计单元检测

- 周周测试基础练习
- 单元测试培优提升
- 专题训练各个击破
- 期末检测冲刺百分

扫一扫 安装APP

手机秒变学习机



天津出版传媒集团
天津人民出版社

更多免费网课请关注公众号：妞妞爱学习 或微信：190097716



第一~四单元测试卷

一本好卷

时间：60分钟 满分：100分

题号	一	二	三	四	五	六	总分	评卷人
得分								

一、数一数,填一填。(用“○”表示个数)(16分)










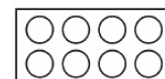
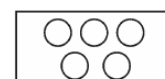

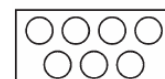
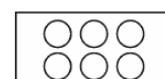


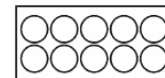
二、在最高的下面画“√”,最矮的下面画“△”。(8分)







三、数一数,连一连。(12分)



四、动动手。(30分)

1. 看图画○。(用“○”表示个数)(16分)










2. 把能在天上飞的动物圈出来。(8分)



密

封

学

线

内

姓

不

班

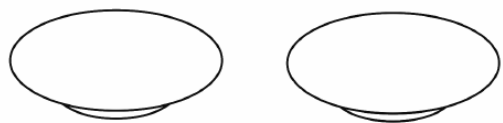
得

答

学

题

3. 你喜欢怎么分就怎么分,用线连一连。(6分)




五、想一想,填一填。(20分)



1. (1) 花在最()面, 鸟在最()面。

(2) 猴在猫的()边, 猫在松鼠的()面。

2. 看图填空。



(1) 西瓜的()边是苹果, 草莓的()边是桃子。

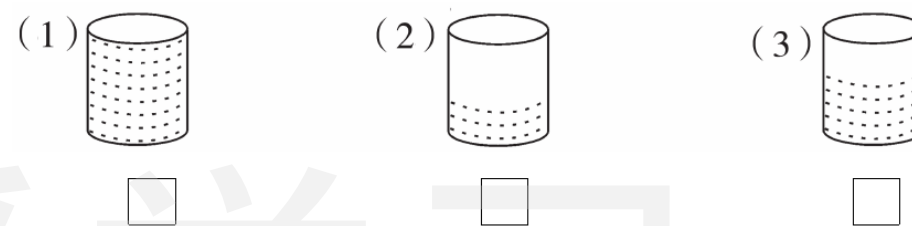
(2) 菠萝在桃的()边, 桃在苹果的()面。

(3) 苹果的()边是香蕉, 菠萝的()面是西瓜。

六、聪明屋。(14分)

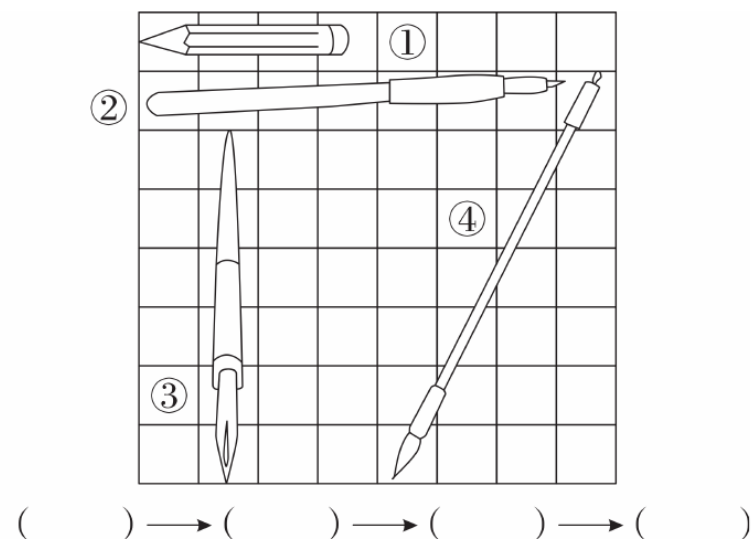
1. (变式题)三个同样大小的杯子中盛有同样多的水,喝了一些后如下图所示,选

择喝得最多的画“√”,最少的画“○”。(4分)



2. (实践题)小冬住在小明楼上,小明住在小亮楼上。谁在最上面? 谁在最下面? (6分)

3. 从长到短排一排。(4分)





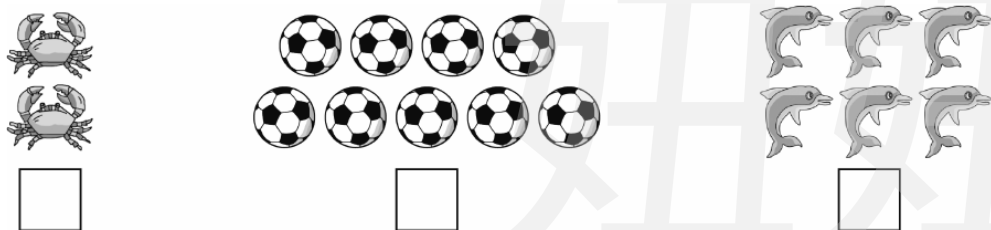

第五单元测试卷

一本好卷

时间：60分钟 满分：100分

题号	一	二	三	四	五	六	七	八	九	总分	评卷人
得分											

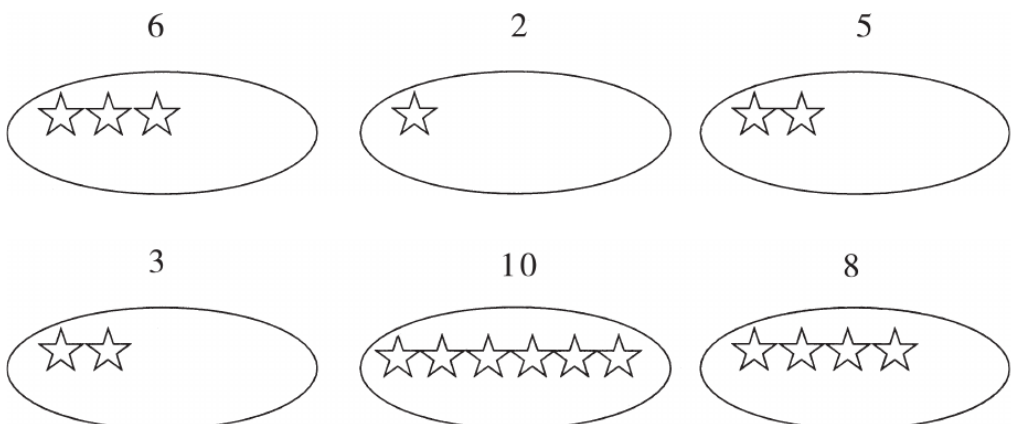
一、我会数，也会写。(12分)




二、照样子，看数画○。(6分)



三、看数画出○里缺少的☆。(12分)



四、数一数，比一比。(12分)




有()只, 有()只, 有()只。

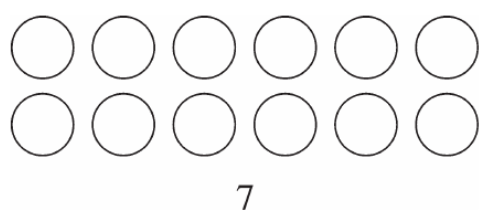
比 比, () < ()。

比 比, () > ()。

比 比, () < ()。

五、涂色游戏。(看数涂色)(10分)





六、圈一圈,涂一涂,填一填。(10分)


1. 把右边的4个△圈起来。(2分)



2. 从左往右数,把第4个△涂色。(2分)



3. 看图完成下列各题。(6分)



(1) 一共有()只小动物。

(2) 从左往右数,  排第1位。  排第()位, 它的前面有()

只小动物, 后面有()只小动物。

(3) 从右往左数, 给排在第3位的小动物头上画面红旗, 把排在第5位的小动物圈起来。

七、我给数字排长队。(6分)

1. 按从小到大的顺序排列。(3分)



2. 按从大到小的顺序排列。(3分)



八、想一想,填一填。(20分)

1.

1	10	5	7	3	0	2	4	8	6
---	----	---	---	---	---	---	---	---	---

(1) 上面共有()张卡片。

(2) 卡片上最大的数是(), 最小的数是()。

(3) 比5小的数有(), 比5大的数有()。

(4) 从左向右数,

3

 排在第()位, 从右向左数,

3

 排在第()位。

2. 填上所缺的数字。



九、在□里填数。(12分)

1. $\square > 5$ $\square < 10$ $8 > \square$ $3 = \square$

$\square < \square$ $\square > \square$ $\square = \square$ $\square < \square$

2. $\square > 5 > \square$

左边的□里还可以填_____。

右边的□里还可以填_____。



月考巩固卷(一)

一本好卷


时间: 60分钟 满分: 100分

题号	一	二	三	四	五	六	七	八	九	十	总分	评卷人
得分												

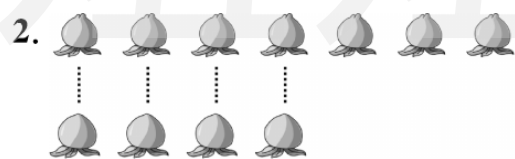
一、我会数,还会把字写漂亮。(8分)



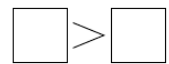
二、我来比一比,画一画。(14分)




4 比 5 _____




7 比 4 _____




3. 我能给最高的画“√”。




4. 我能给最重的画“√”。



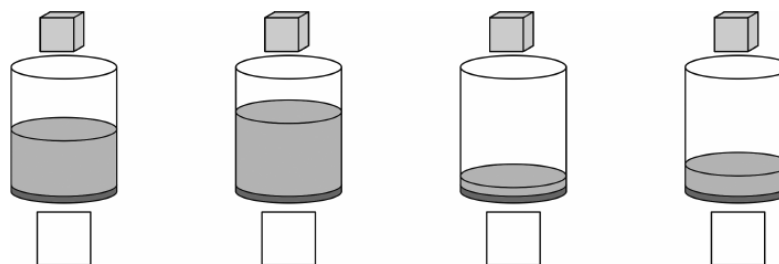
5. 我能给长的画“√”。



6. 在装水最多的下面画“△”。



7. 把方糖放入杯子后,哪杯水最甜?画“√”,哪杯水最淡?画“○”。



三、我会在○里填“>”“<”或“=”。(8分)


8 ○ 6 7 ○ 9 3 ○ 5 6 ○ 6
1 ○ 10 4 ○ 4 5 ○ 7 2 ○ 9

四、我来涂一涂,填一填。(12分)




- 一共有()个气球。
- 从左边起,给第3个气球涂上绿色,第6个气球涂上红色,最右边的两个气球涂上黄色。
- 红气球右边有()个气球。
- 绿气球左边有()个气球。

五、在水果下面的□里画“○”,在蔬菜下面的□里画“△”。(7分)



六、我会连。(9分)

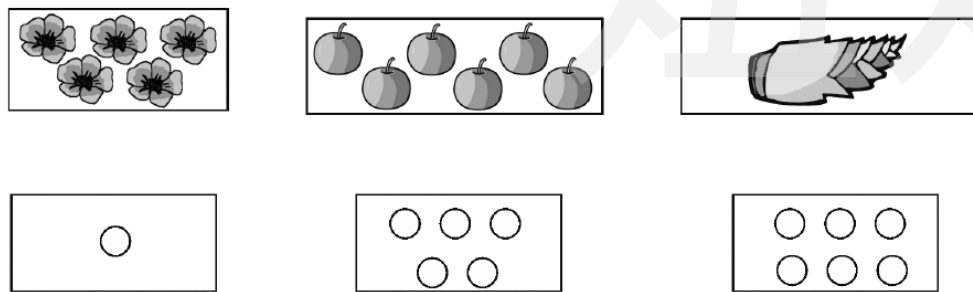
1. 把同类的物品连起来。(3分)



2. 把个数相同的物品连起来。(3分)



3. 把同样多的连起来。(3分)



七、按要求画一画。(12分)

1. 画△比○多2个。



2. 画☆比□少3个。



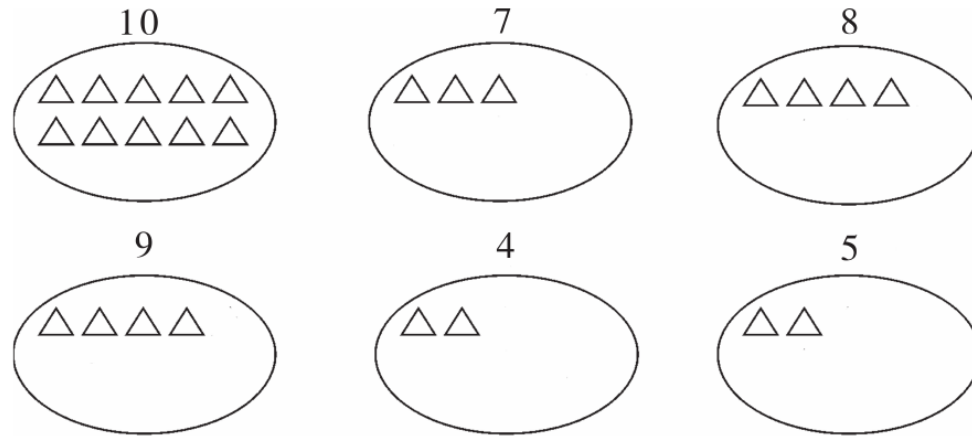
3. 画○与☆同样多。



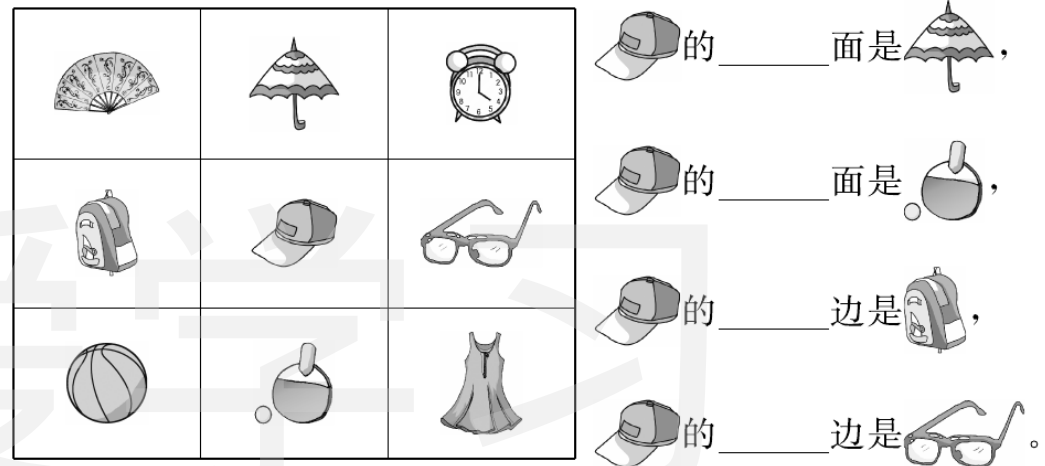
4. 画□比△少2个。



八、照样子,画一画。(把缺少的图补充出来)(10分)



九、认一认。(8分)



十、数学小能手。(12分)

0 8 2 4 7 9 6 5 10 1

1. 左数第一个数是(),第三个数是();右数第二个数是(),

第四个数是()。

2. 左边四个数是(),右边四个数是(),中间四个数是

()。

3. 上面一共有()个数,其中最大的是(),最小的是()。

4. 把上面各数按从大到小的顺序排列。(2分)



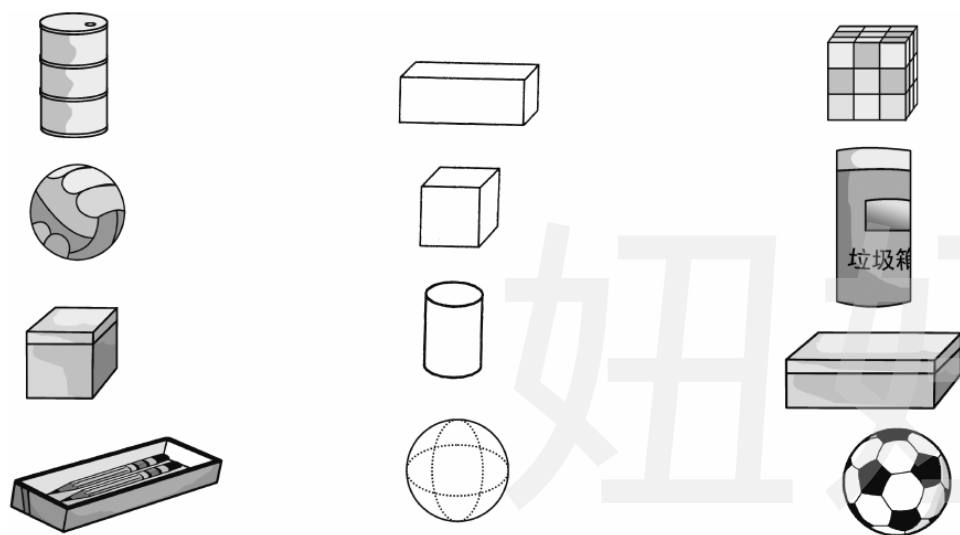
第六单元测试卷

一本好卷

时间：60分钟 满分：100分

题号	一	二	三	四	五	六	总分	评卷人
得分								

一、找朋友。(把形状相同的连在一起)(16分)



二、认一认,画一画,填一填。(22分)


1. 在下面图形中是正方体的,在括号里画“√”。(2分)




2. 在下面图形中是长方体的,在括号里画“√”。(2分)



3. 在下面图形中是圆柱的,在括号里画“√”。(2分)

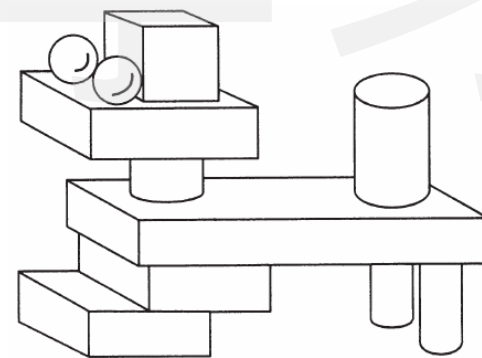


4. 数一数,填一填。(8分)



	()个
	()个
	()个
	()个

5. 仔细看,数一数。(8分)



	()个
	()个
	()个
	()个

三、想一想,选一选。(12分)

1. 用两个大小一样的正方体能拼成一个()。

- A. 正方体 B. 长方体 C. 圆柱

2. 圆柱的上下两个面大小()。

- A. 相同 B. 不相同 C. 不确定

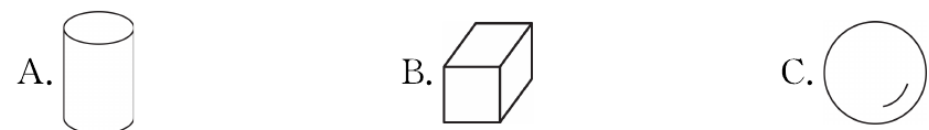
3. 长方体有()个面。

- A. 4 B. 2 C. 6

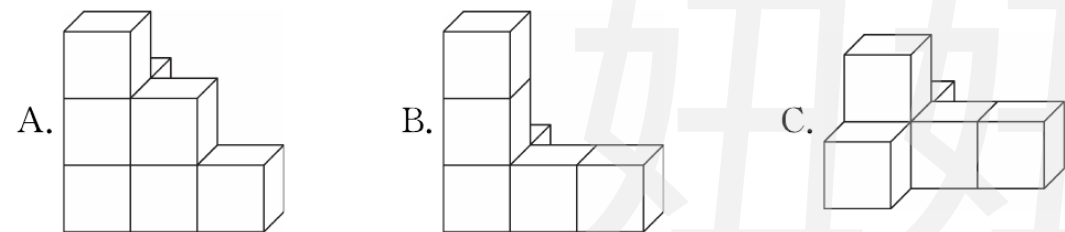
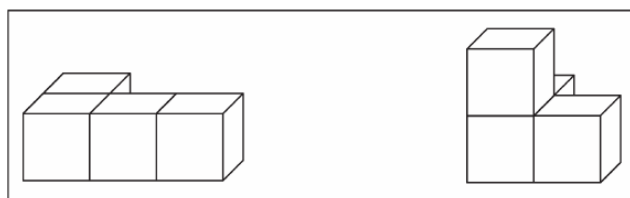
4. 正方体的 6 个面()。

- A. 一样大 B. 不一样大 C. 不能确定

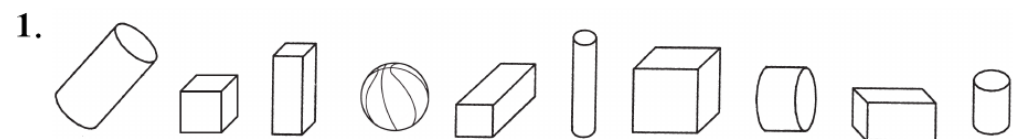
5. 用下列()图形可以画出○。



6. 用下面的两堆拼成的是()。





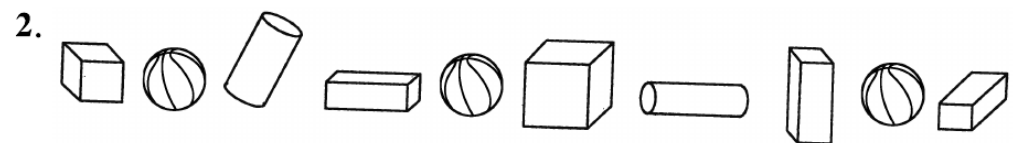
四、填一填。(32分)

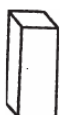






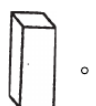
(1) 一共有()个立体图形。

(2) 从左边起,第()个是 , 第()个和第()个是 .

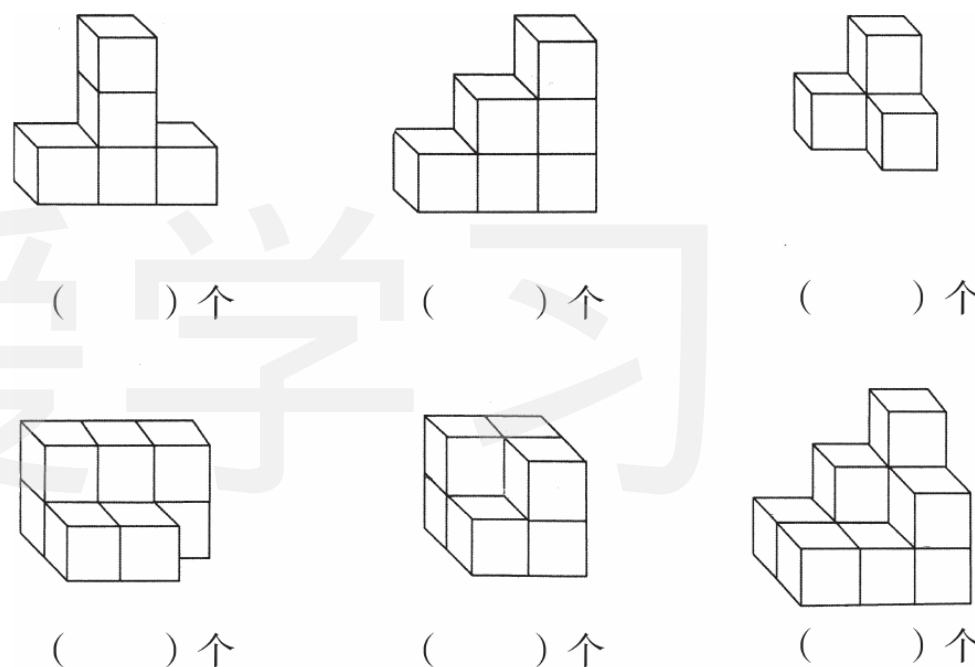
(3)  有()个,  有()个。



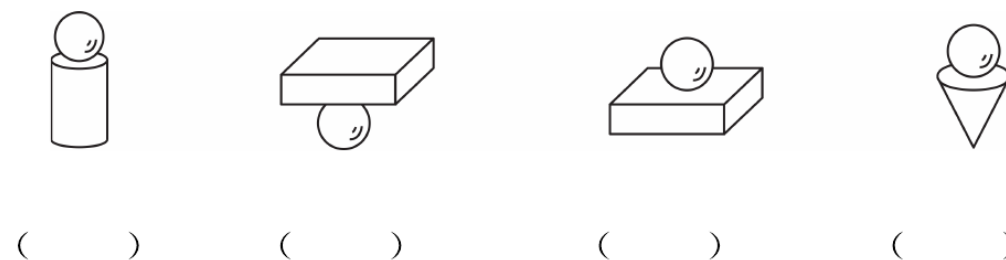
(1)  有()个,  有()个,  有()个,  有()个, 一共有()个立体图形。

(2) 从左边起,第()个和第()个是 , 第()个、第()个和第()个是 .

五、下面的图形由多少个小正方体组成呢? 请你仔细数一数, 填在括号里。(12分)



六、比一比, 看一看, 能站稳的在下面的括号里打“√”。(6分)





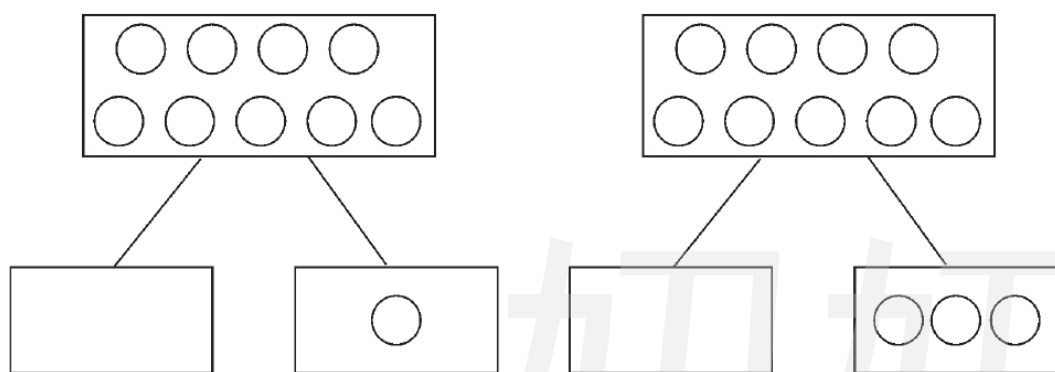
第七单元测试卷

一本好卷

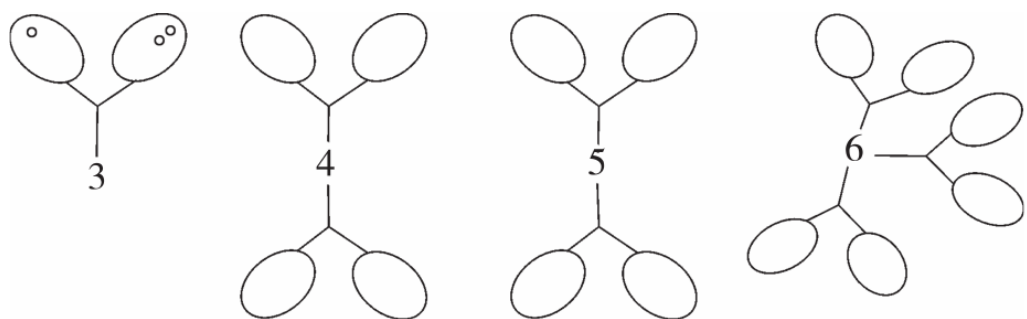
时间：60分钟 满分：100分

题号	一	二	三	四	五	六	七	八	九	总分	评卷人
得分											

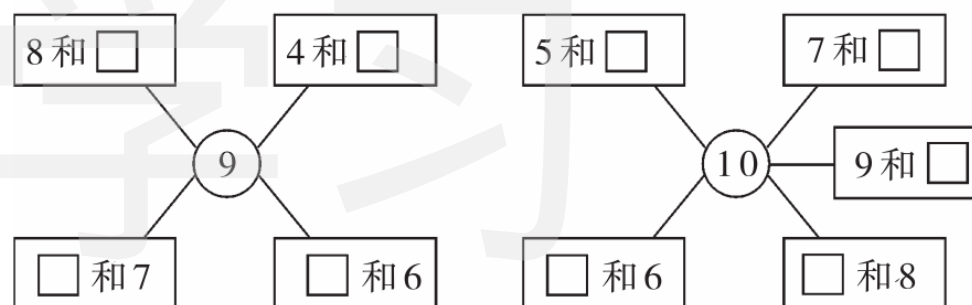
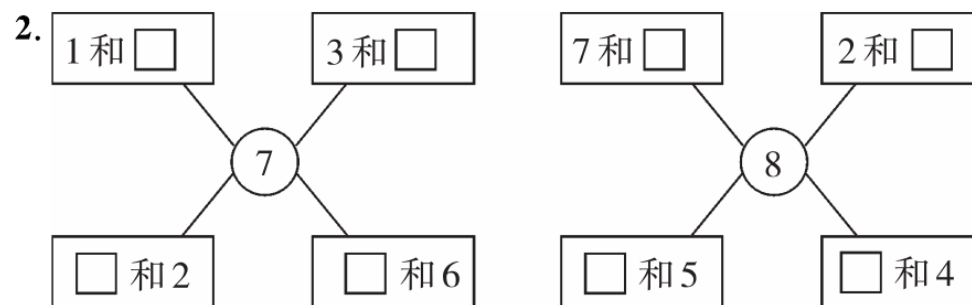
一、分一分，画一画。(4分)



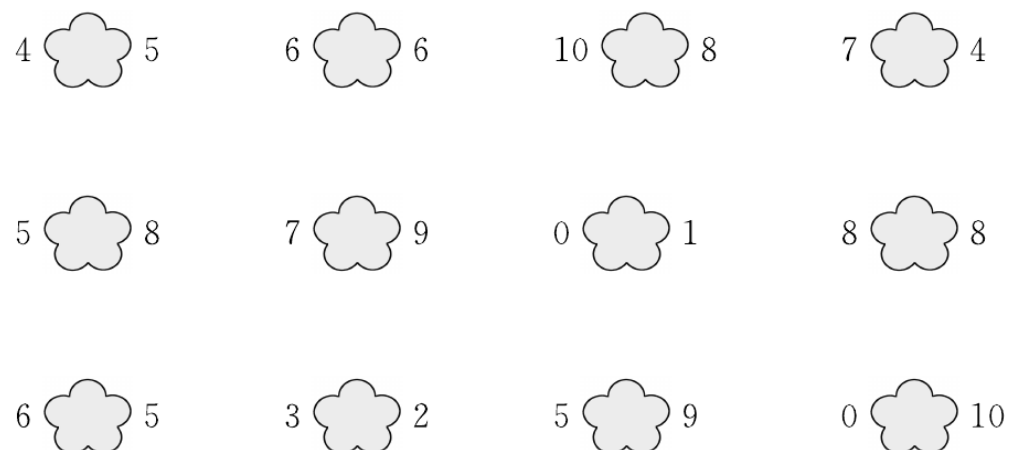
二、照例子，动脑动手画一画。(7分)



三、在□里填上合适的数。(30分)



四、>、<、= 会飞到哪朵花上?(12分)



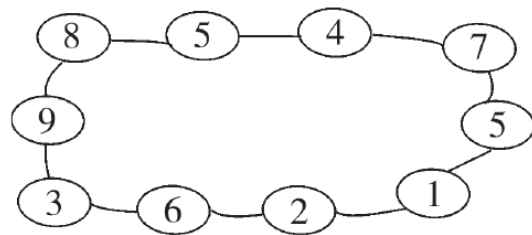
密 封 线 内 不 得 答 题

学 校 班 级 姓 名 号 学

五、画出每一行缺少的○,再填空。(10分)

6	○○	$\begin{array}{c} 6 \\ \diagdown \quad \diagup \\ \square \quad \square \end{array}$
9	○○○○	$\begin{array}{c} 9 \\ \diagdown \quad \diagup \\ \square \quad \square \end{array}$
5	○	$\begin{array}{c} 5 \\ \diagdown \quad \diagup \\ \square \quad \square \end{array}$
8	○○○○○	$\begin{array}{c} 8 \\ \diagdown \quad \diagup \\ \square \quad \square \end{array}$
10	○○○○○○	$\begin{array}{c} 10 \\ \diagdown \quad \diagup \\ \square \quad \square \end{array}$

六、幸福对对碰。(把合起来是10的两个数连起来)(5分)



七、填空。(10分)

3 10 6 0 7 2 5

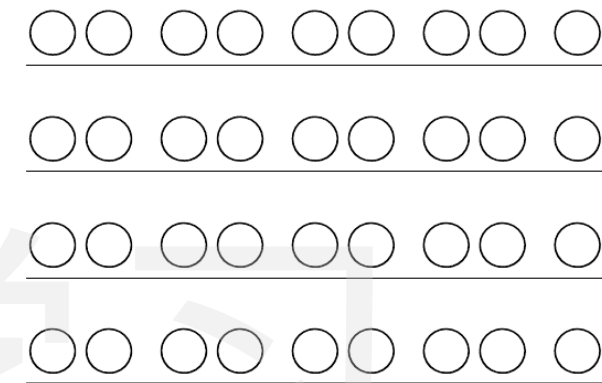
1. 一共有()张数字卡片。

2. 上面的卡片中,最大的数是(),最小的数是()。

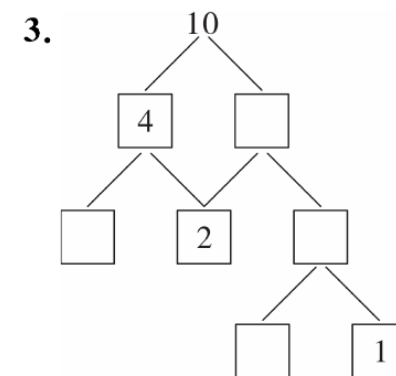
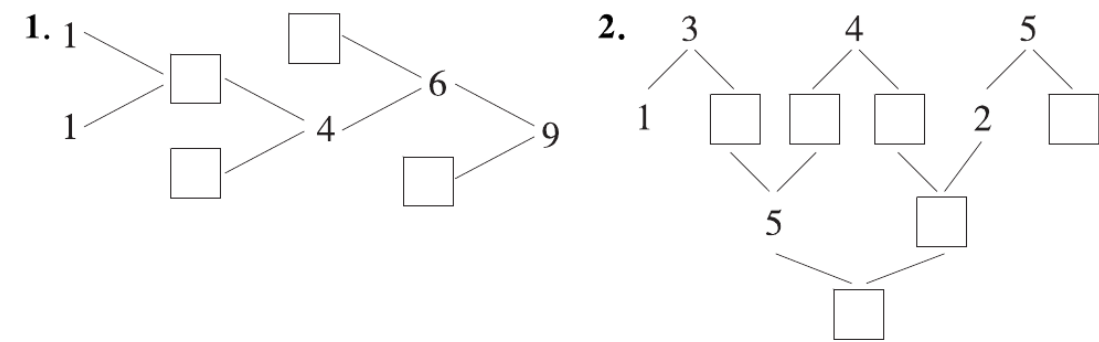
3. 从左边数,第1张卡片上的数字是(),第6张卡片上的数字是(),0在第()张卡片上。

4. 把这些卡片按从大到小的顺序排一排。(4分)

八、把每行中的9个圈分别涂成两种颜色,可以怎样涂?(8分)



九、填数游戏。(14分)





期中检测卷

一本好卷

时间：60分钟 满分：100分

题号	一	二	三	四	五	六	七	八	总分	评卷人
得分										

一、数学小能手。(19分)



(1)一共有()只兔。

(2)从左数 排在第()位。从右数 排在第()位。




(1)一共有()只小动物。

(2) 在 的()面, 在 的()面。

(3)从前往后数, 排在第(), 从后往前数, 排在第()。

(4)把前面3只小动物圈起来,给从后面数的第4只小动物涂上自己喜欢的颜色。



(1) 住在 的()面。

(2) 住在 的()面。

(3) 住在 的()面。

住在 的()面。

(4)()在最上面,()在最下面。

二、把同类的放在一起。(把序号写在一起)(8分)



三、比一比,画一画。(12分)

1. 水最多的画“√”,水最少的画“○”。

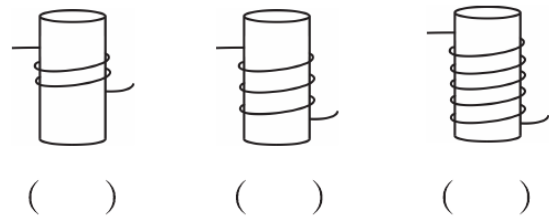


() () ()


不要看错了啊!



2. 线最长的画“√”,线最短的画“○”。



3. 最高的动物下画“√”,最矮的动物下画“○”。



四、按要求做题。(11分)

1. 数一数,比一比。(8分)



2. 把下列数字从大到小排列。(3分)

7 5 4 8 10 1

() > () > () > () > () > ()

五、我当画家画一画。(12分)

1. 在△下面画□,使□比△多。



2. 在□下面画○,使○和□同样多。



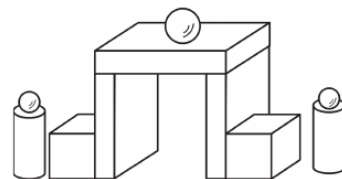
3. 在☆下面画△,使△比☆少。



4. 画一条比下面的线长的线。



六、数学小能手。(14分)



1. 有()个。

2. 有()个。

3. 有()个。

4. 有()个。

5. 比 多()个。

6. 比 多()个。

7. 比 多()个。

七、我能数出下面每个图形中各有几个小正方体。(16分)



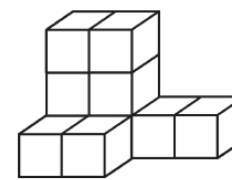
()个



()个



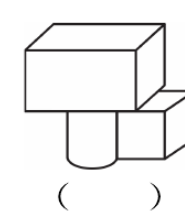
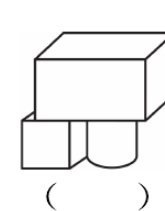
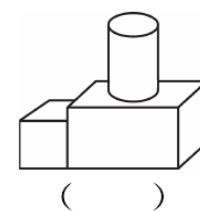
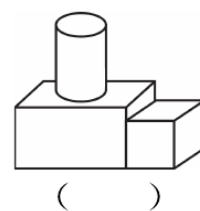
()个



()个

八、在正确摆法的下面画“√”。(8分)

先摆一个 , 在 的左边摆一个 , 再把 摆在 的上面。





第八单元测试卷

一本好卷

时间：60分钟 满分：100分

题号	一	二	三	四	五	六	七	总分	评卷人
得分									

一、填空题。(25分)

1. 照样子,先画上○再填得数。(4分)

$1+5=6$

$3+4=\square$

$6+2=\square$



2. 照样子,先划去○再填得数。(4分)



$5-2=3$



$7-5=\square$



$8-4=\square$

3. 在□里填上合适的数。(8分)

$5 \xrightarrow{+3} \square \xrightarrow{-2} \square \xrightarrow{+4} \square \xrightarrow{-1} \square$

$8 \xrightarrow{-7} \square \xrightarrow{+3} \square \xrightarrow{+5} \square \xrightarrow{-9} \square$

4. 在○内填上“>”“<”或“=”。(9分)

$7-4 \bigcirc 5-3$

$4-3 \bigcirc 7$

$0+7 \bigcirc 7-7$

$3+0 \bigcirc 5-2$

$2+4 \bigcirc 5+2$

$10-3 \bigcirc 6+2$

$10-5 \bigcirc 2+3$

$2+5 \bigcirc 10$

$4+3 \bigcirc 5+2$

二、计算题。(20分)

$1. 2+5=$

$3+7=$

$10-6-3=$

$8-4=$

$7-5=$

$5-2+4=$

$4+2=$

$9-2=$

$2+5+3=$

$3+5=$

$10+0=$

$8-2+4=$

$2. \begin{array}{|c|} \hline 1 \\ \hline \\ \hline 4 \\ \hline \\ \hline \end{array} + \begin{array}{|c|} \hline \\ \hline 7 \\ \hline \\ \hline 3 \\ \hline \end{array} = 9$

$10 - \begin{array}{|c|} \hline 4 \\ \hline 3 \\ \hline 8 \\ \hline 5 \\ \hline \end{array} = \begin{array}{|c|} \hline \\ \hline \\ \hline \\ \hline \end{array}$

三、把得数相等的算式连起来。(8分)

$6+1$

$10-2$

$5+4+1$

$4+0+2$

$4+4$

$9-4$

$10-7-3$

$2+5-0$

$2+3$

$3+4$

$8-5+4$

$8+2-10$

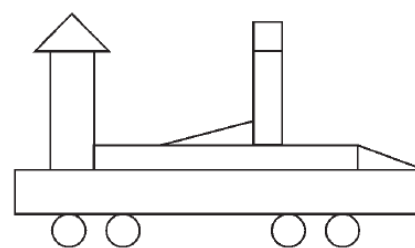
$0+6$

$8-2$

$7-4+3$

$9-4+5$

四、数一数,算一算。(9分)



1. 图中有()个○,有()个△,有()个□。

2. ○和△一共有多少个?

$\square \bigcirc \square = \square$

3. □比△多多少个?


$\square \bigcirc \square = \square$

五、看图写算式。(20分)




$$\square + \square = \square$$

$$\square + \square = \square$$



$$\square - \square = \square$$

$$\square - \square = \square$$



$$\square + \square = \square$$

$$\square + \square = \square$$

$$\square - \square = \square$$

$$\square - \square = \square$$

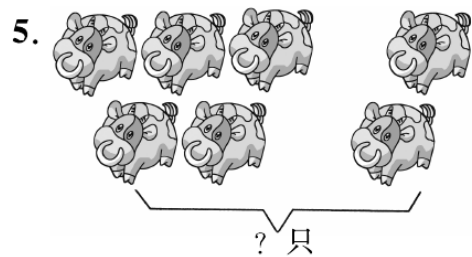


$$\square + \square = \square$$

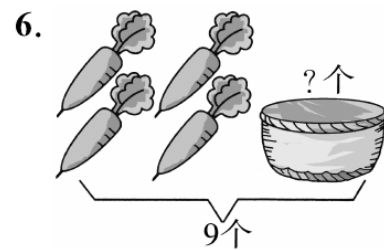
$$\square + \square = \square$$

$$\square - \square = \square$$

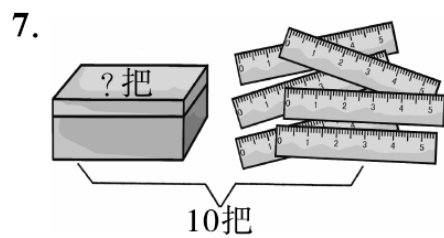
$$\square - \square = \square$$



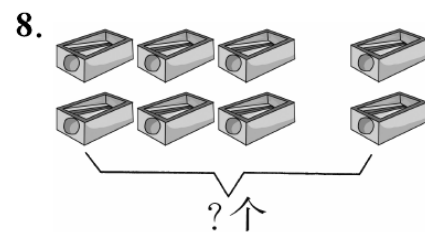
$$\square \bigcirc \square = \square$$



$$\square \bigcirc \square = \square$$




$$\square \bigcirc \square = \square$$



$$\square \bigcirc \square = \square$$



$$\square \bigcirc \square \bigcirc \square = \square$$



$$\square \bigcirc \square \bigcirc \square = \square$$

六、解决问题。(8分)

1. (生活情境题) 猴子吃 , 第一天吃了 5 个, 第二天吃了 4 个, 猴子两天一共吃了多少个 ?

$$\square \bigcirc \square = \square$$



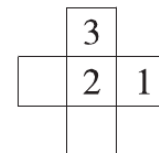
2. (生活实践题)

已经浇了 7 棵小树苗。

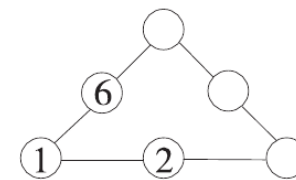


还有几棵小树苗没有浇? $\square \bigcirc \square = \square$

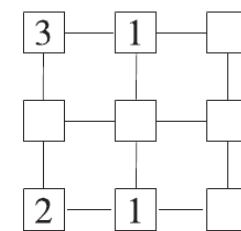
七、填一填, 使图形中的每一行各数的和等于给出的数。(10分)



9



8



7



月考巩固卷(二)

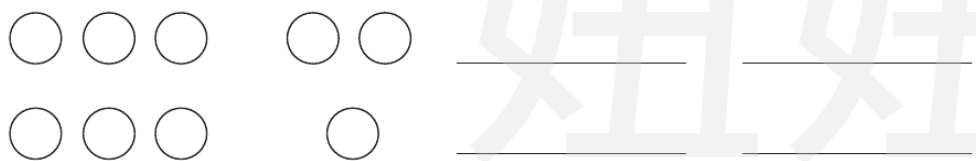
一本好卷

时间: 60分钟 满分: 100分

题号	一	二	三	四	五	六	七	总分	评卷人
得分									

一、我来填一填。(32分)

- 有一些卡片: $\boxed{2}$ 、 $\boxed{7}$ 、 $\boxed{5}$ 、 $\boxed{8}$ 、 $\boxed{9}$ 、 $\boxed{1}$ 、 $\boxed{6}$ 、 $\boxed{0}$ 、 $\boxed{4}$ 、 $\boxed{3}$, 第3张是5, 第5张是(), 第8张是(), 8排在第(), 4排在第(), 一共有()张卡片。
- 草地上有3只小鸟, 又飞来4只, 现在一共有()只。
- 在1~10中, 最小的数是(), 最大的一位数是()。
- 看图写出两道加法算式和两道减法算式。(4分)

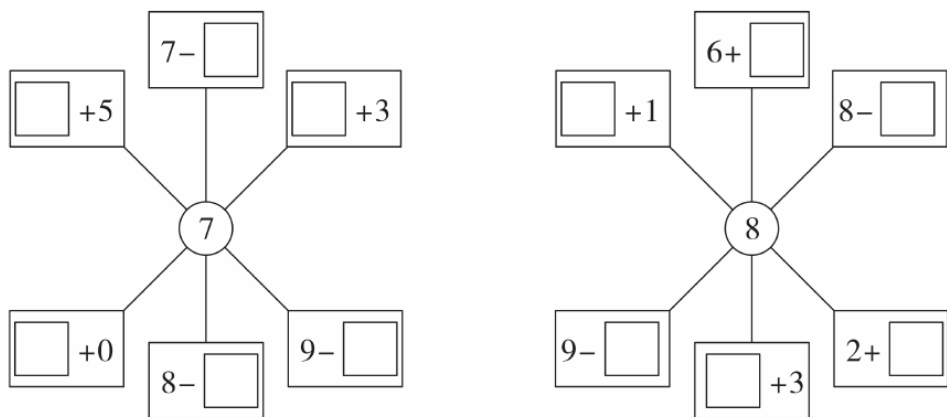


- 写出六道得数是5的算式。

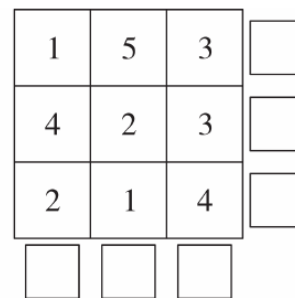
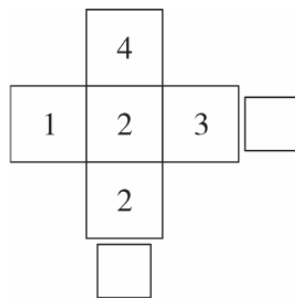
$$\square \bigcirc \square = \square \quad \square \bigcirc \square = \square \quad \square \bigcirc \square = \square$$

$$\square \bigcirc \square = \square \quad \square \bigcirc \square = \square \quad \square \bigcirc \square = \square$$

- 根据结果填数字, 使算式成立。(6分)



- 把横行、竖行上的数分别相加, 结果写在相应的□里。(8分)



二、算一算。(14分)

- 口算小能手。(8分)

$$9-7= \quad 7-2= \quad 8-8= \quad 10-5=$$

$$2+8= \quad 10-6= \quad 6+0= \quad 1+9=$$

$$7+2= \quad 8+1= \quad 5+4= \quad 9-9=$$

$$0+8= \quad 4+4= \quad 9-5= \quad 10-3=$$

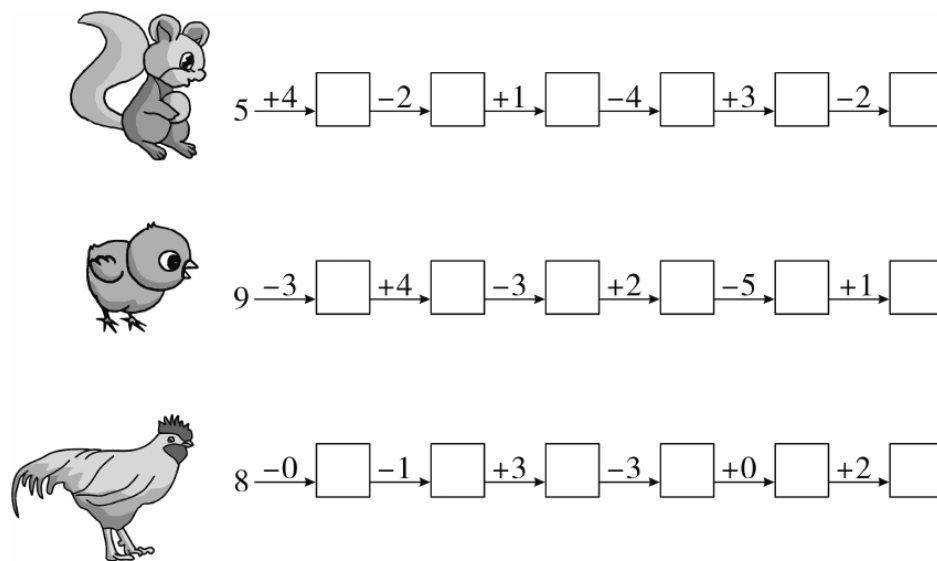
- 摘苹果。(6分)

$$4+4+1= \text{苹果} \quad 10-6-3= \text{苹果} \quad 5+1-4= \text{苹果}$$

$$5+2+3= \text{苹果} \quad 9-4-2= \text{苹果} \quad 7-2+5= \text{苹果}$$

三、按要求做题。(19分)


- 看谁跑得快。(9分)



2. 连线。(10分)



四、填一填。(18分)

1. 在  里填上“>”“<”或“=”。(6分)

7  9


8-1  3+4


6+2  9-7


9  10


10-4  4+2


9-2  10-4


2.  遮住的是几?(6分)


8+2= 


5+4= 

4+4-0= 

10-3= 

6+1= 

10-2-1= 

3. 在  里填上合适的数。(6分)

3+  =5

9-  =7

1+  +5=9

4+  =10

8-  =4

9-7-  =0

3+  =6

9-  =5


1+  +2=9

3+  =8

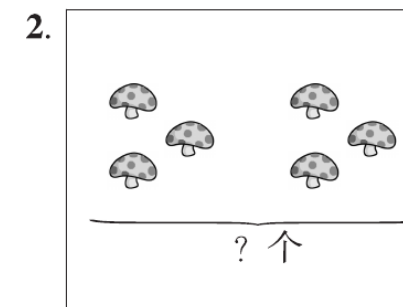
10-  =7

3+  +5=10

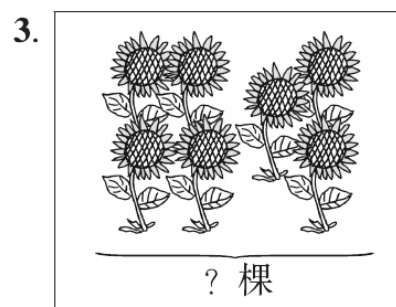
五、想一想,算一算。(8分)



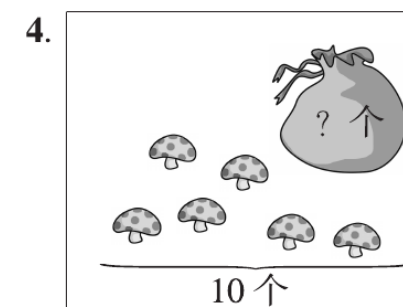
○ =



○ =



○ =



○ =

六、我问你答。(3分)

我有4个萝卜。

我有6个萝卜。



一共有多少个萝卜?

○ =

七、小超市。(6分)



3元



4元



6元



5元

1. 明明买可乐比买牛奶多用多少元?(3分)

○ =

2. 买哪两种东西花钱最少?是多少元?(3分)

○ =




第九单元测试卷

一本好卷


时间：60分钟 满分：100分

题号	一	二	三	四	五	六	七	八	总分	评卷人
得分										

一、先圈出10个，再写出一共有多少个。(6分)



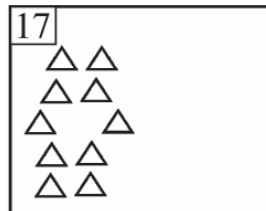
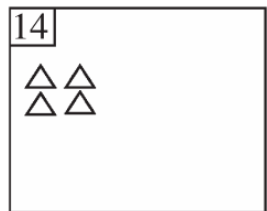




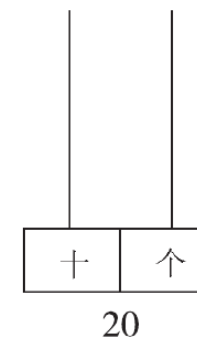
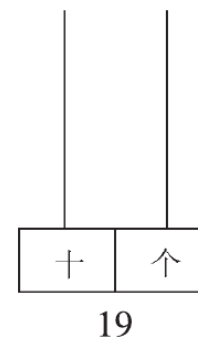
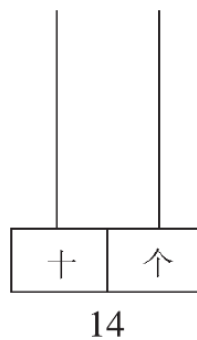


二、画一画。(10分)

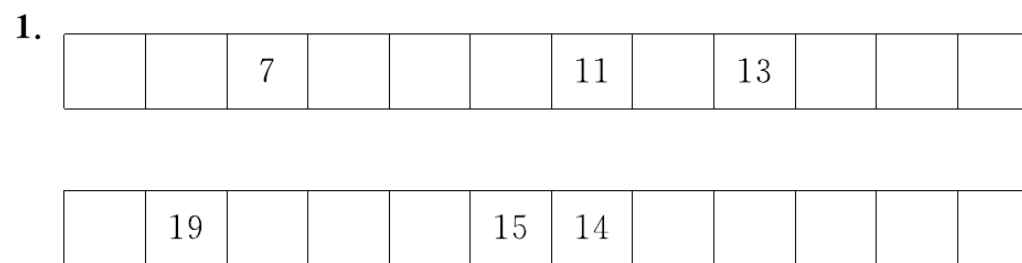
1. 根据每张图上的数补画上缺少的图形。



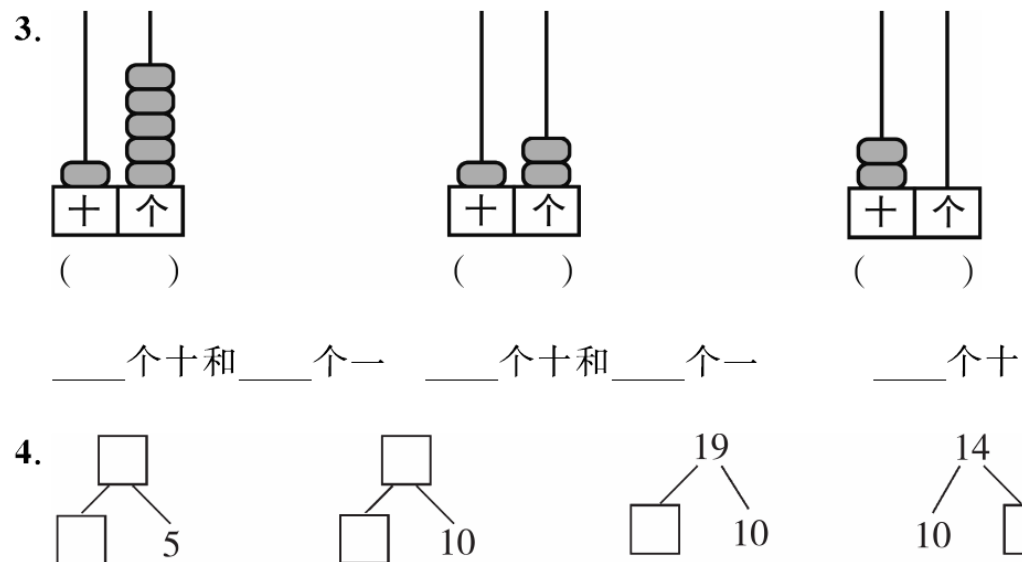
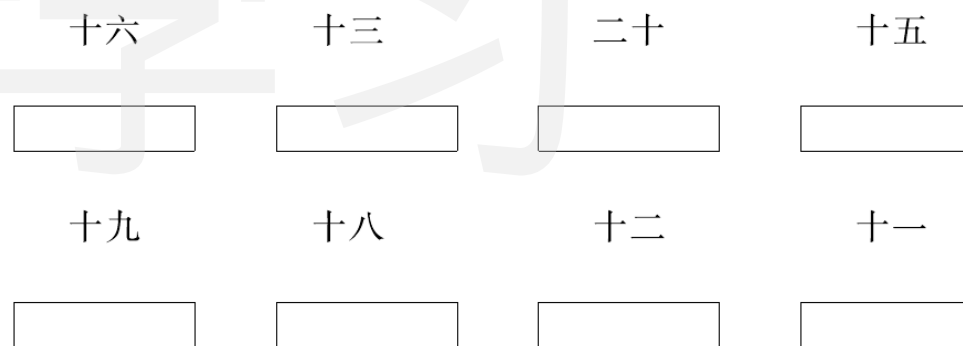
2. 看数画珠子。



三、小小空，我会填。(28分)



2. 写出下面各数。



5. 15 里面有()个十和()个一。

1 个十和 7 个一合起来是()。

9 个一和 1 个十合起来是()。

十位上是 1, 个位上是 2, 这个数是()。

个位和十位上都是 1 的数是()。

2 个十是(), 20 里面有()个一。

一个数, 比 13 大, 比 18 小, 这个数可能是()。

14 和 16 中间的数是()。

6. 在○里填上“>”“<”或“=”。

19 ○ 17

10 ○ 20

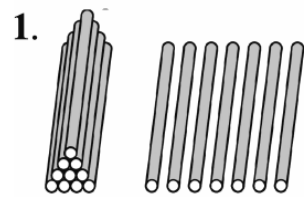
16 - 10 ○ 13

10 + 5 ○ 15

3 + 10 ○ 14

18 - 8 ○ 10

四、看图列式计算。(20 分)

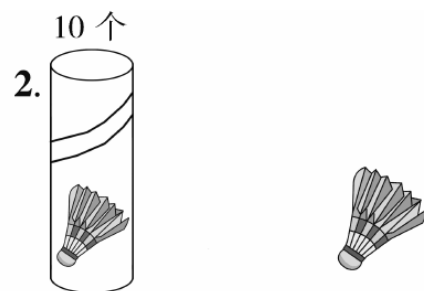


□ + □ = □

□ + □ = □

□ - □ = □

□ - □ = □

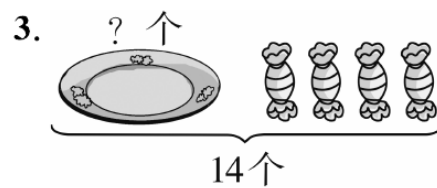


□ + □ = □

□ + □ = □

□ - □ = □

□ - □ = □



□ - □ = □



□ - □ = □

五、我是计算小能手。(6 分)

3 + 7 + 2 =

8 + 2 + 9 =

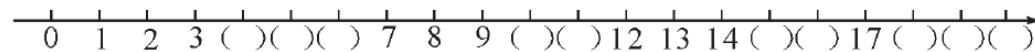
15 - 5 - 3 =

16 - 6 + 2 =

11 - 1 - 4 =

12 - 2 + 8 =

六、先把图补充完整,再填空。(16 分)



1. 写出比 10 小的三个数是()、()、()。

2. 写出比 10 大的三个数是()、()、()。

3. 和 8 相邻的两个数是()和()。

4. 12 和 17 这两个数,()接近 20。

5. 写出比 11 大比 17 小的数。_____

6. 你还知道什么? _____

七、□、△、○各代表几?(6 分)

△ + ○ = 10

□ - △ = 2

□ + 5 = 15

○ = ()

△ = ()

□ = ()

八、思考题。(8 分)

想一想,从第一行拿几个△到第二行,两行△的个数就同样多?

△ △ △ △ △ △ △ △ △ △

△ △ △ △ △ △



第十单元测试卷

一本好卷

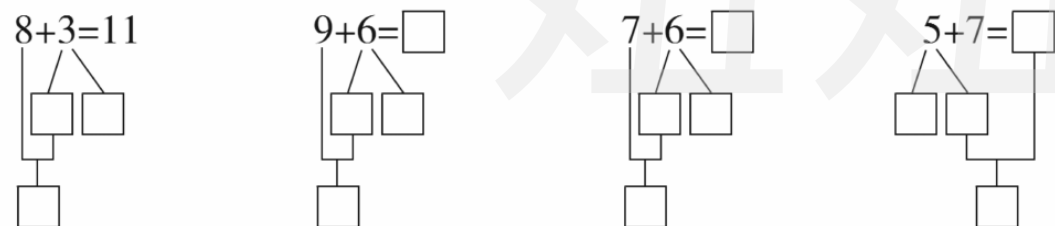
时间：60分钟 满分：100分

题号	一	二	三	四	五	六	七	总分	评卷人
得分									

一、在□里填上合适的数。(16分)

$9+4=\square$ 想 $9+\square+\square=\square$ $8+5=\square$ 想 $8+\square+\square=\square$
 (Note: Brackets under the squares in the original image indicate a strategy of making 10.)

$7+8=\square$ 想 $7+\square+\square=\square$ $6+8=\square$ 想 $\square+\square+\square=\square$
 (Note: Brackets under the squares in the original image indicate a strategy of making 10.)



二、填空题。(26分)

1. 在○里填上“>”“<”或“=”。(6分)

$9+7 \bigcirc 7$ $8+9 \bigcirc 9$ $10-9 \bigcirc 1$
 $4+7 \bigcirc 10$ $6+8 \bigcirc 15$ $4+8 \bigcirc 11$

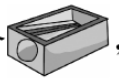
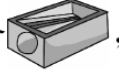
2. 在()里填上最大的数。(6分)

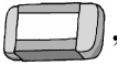
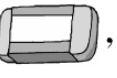
$6+9 > ()$ $() < 17-7$ $3+6 > ()$
 $7+5 > ()$ $4+7 > ()$ $() < 19-10$

3. 想一想,填一填。(6分)

$10+()=15$ $3+()=11$ $()+8=13$
 $()+9=13$ $7+()=14$ $()+3=12$

4. 算一算,填一填。(4分)

小红有 5 个 ,
 又买来 6 个 ,
 现在有()个。

小明有 19 块 ,
 用了 9 块 ,
 还剩()块。


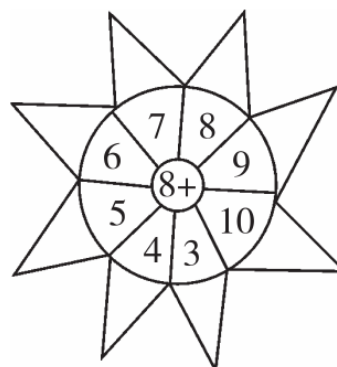
5. 选数写算式。(4分)

7 5 13 6 8

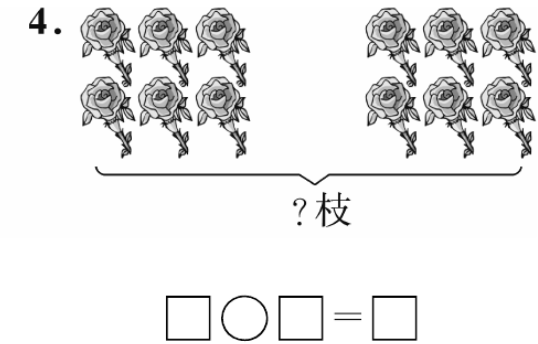
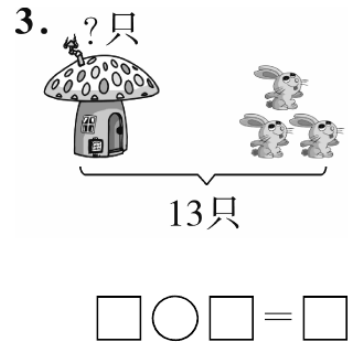
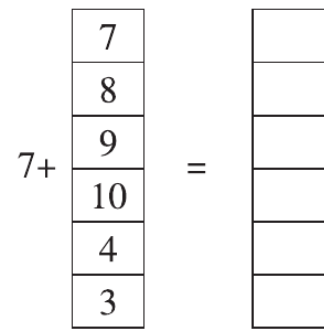
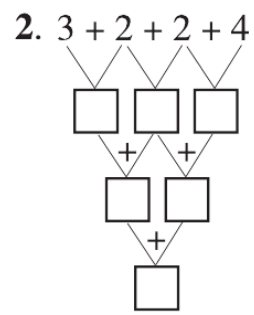
$\square \bigcirc \square = \square$ $\square \bigcirc \square = \square$
 $\square \bigcirc \square = \square$ $\square \bigcirc \square = \square$

三、算一算。(14分)

1. 在空格处写上两个数的和。(8分)



密 封 线 内 不 得 答 题



四、小马回家。(11分)

8+8= 4+7= 15-5= 3+8=

17-10= 9+2= 5+9=

10+6= 7+8= 5+6= 18-8=

五、看图写算式。(16分)

1.

□ + □ = □ □ + □ = □

□ - □ = □ □ - □ = □

2.

□ ○ □ = □ □ ○ □ = □

□ ○ □ = □ □ ○ □ = □

□ ○ □ = □ □ ○ □ = □

□ ○ □ = □ □ ○ □ = □

六、解决问题。(9分)

1.

一共有多少人放风筝? □ ○ □ = □ (人)

2.

一共拔了多少个萝卜? □ ○ □ = □ (个)

3.

原来有多少头大象? □ ○ □ = □ (头)

七、趣味数学。(8分)

1. □ + △ = 13 □ = ()

△ - 4 = 6 △ = ()

2. ○ + ○ + △ = 10 △ = ()

△ + △ + △ = 6 ○ = ()



专题训练卷(一)


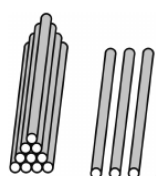

一本好卷

时间: 60分钟 满分: 100分

题号	一	二	三	四	五	六	七	总分	评卷人
得分									

一、基础达标巧填空。(24分)

1. 数一数, 写一写。



()

()

()

2. 里的数我知道。

<input type="text"/>	<input type="text"/>	<input type="text"/>	15	<input type="text"/>	<input type="text"/>	18	<input type="text"/>
----------------------	----------------------	----------------------	----	----------------------	----------------------	----	----------------------

<input type="text"/>	<input type="text"/>	<input type="text"/>	10	<input type="text"/>	<input type="text"/>	13	<input type="text"/>
----------------------	----------------------	----------------------	----	----------------------	----------------------	----	----------------------

3. 1个十和6个一组成的数是()。

4. 19里面有()个十和()个一。

5. 3 0 12 10 19 20 11 8 16

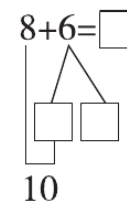
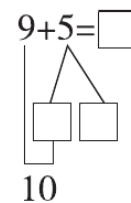
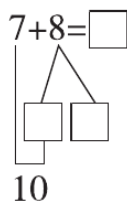
数一数, 一共有()张数字卡片。

其中最大的数是(), 最小的数是()。

左起第5张卡片上的数是()。

二、小小空, 我会填。(29分)

1. 分一分, 填一填, 算一算。(3分)



2. 开心算式。



3. 在()里填上合适的数。

$8 + () = 10$

$() + 4 = 8$

$() + 6 = 7$

$7 + () = 10$

$9 + () = 10$

$() + 6 = 9$

4. 在○里填上“>”“<”或“=”。

$6 + 6 \bigcirc 13$

$7 + 5 \bigcirc 11$

$11 - 1 \bigcirc 9$

$10 - 3 \bigcirc 8$

$7 + 2 \bigcirc 15 - 5$

$3 + 10 \bigcirc 4 + 9$

5. 在○里填上“+”或“-”。

$8 \bigcirc 8 = 0$

$7 \bigcirc 8 = 15$

$0 \bigcirc 4 = 4$

$5 \bigcirc 4 = 1$

$10 \bigcirc 5 = 5$

$6 \bigcirc 0 = 6$

三、计算我最棒。(13分)

1. 在得数大的算式后面画“√”。(4分)

$$\begin{cases} 8+8() \\ 8+7() \end{cases}$$

$$\begin{cases} 12-2() \\ 12-10() \end{cases}$$

$$\begin{cases} 10-4() \\ 10+4() \end{cases}$$

$$\begin{cases} 7+6() \\ 6+9() \end{cases}$$

2. 在得数等于 12 的算式后面打“√”。(3 分)

$7+4$ () $7+5$ () $7+6$ ()
 $12-2$ () $6+6$ () $10+2$ ()

3. ()里哪一个得数对? 把它圈起来。(6 分)

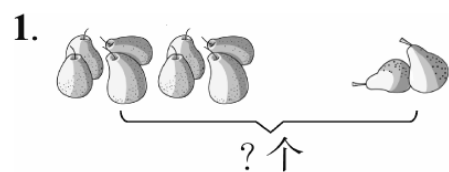
$8+6$ (20 14 11) $3+9$ (11 12 13) $7+10$ (20 17 15)
 $15-5$ (10 12 7) $10-2$ (6 7 8) $19-10$ (9 10 11)

四、夺红旗。(12 分)

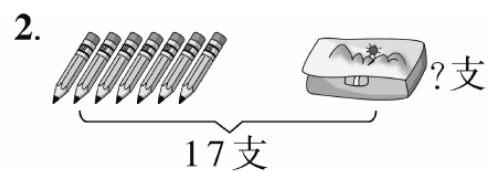


$3+5=$	$9+7=$	$5+3+10=$	$5+10=$
$4+6=$	$10+3=$	$18-8+2=$	$7+2=$
$7-3=$	$5+4=$	$2+8+5=$	$9-3=$
$6-2=$	$10-1=$	$10-7+10=$	$8-6=$
$5+2=$	$6+4=$	$10-7+5=$	$7+8=$
$6+10=$	$10-3=$	$10-8+7=$	$6-5+7=$

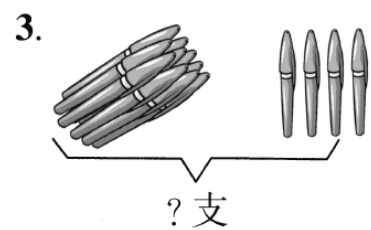
五、我会算。(8 分)



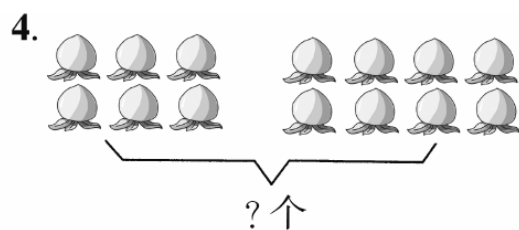
$\square \bigcirc \square = \square$



$\square \bigcirc \square = \square$

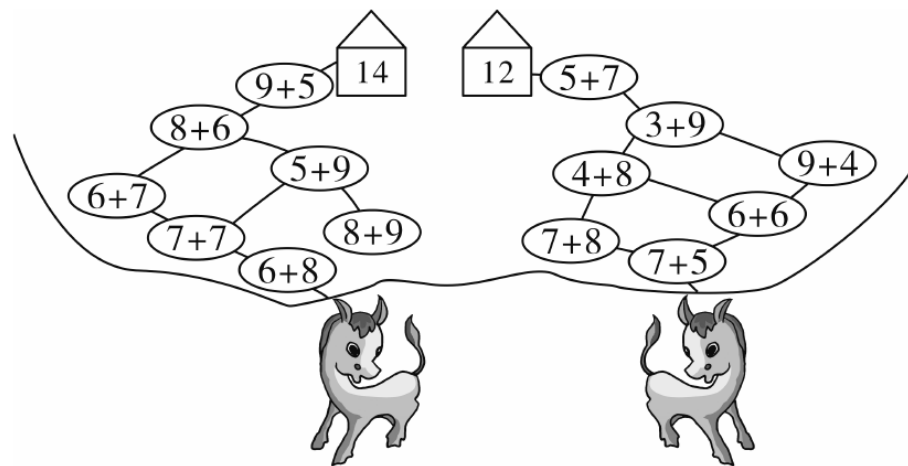


$\square \bigcirc \square = \square$



$\square \bigcirc \square = \square$

六、小马过河, 画出行走路线。(5 分)



七、列式计算。(9 分)

1. 船舱里有多少人?(3 分)



$\square \bigcirc \square = \square$ (人)

2. 猜猜我几岁了。(3 分)



我还要插 7 根蜡烛。



$\square \bigcirc \square = \square$ (岁)

3. 跳绳比赛。(3 分)



一年级有 19 个同学参加跳绳比赛, 其中男生有 9 人, 女生有多少人?

$\square \bigcirc \square = \square$



专题训练卷(二)

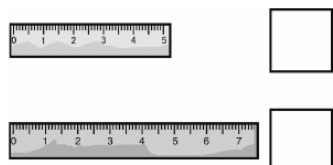
一本好卷

时间: 60分钟 满分: 100分

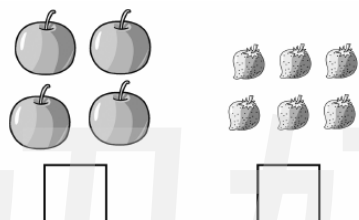
题号	一	二	三	四	五	六	七	八	总分	评卷人
得分										

一、比一比。(12分)


1. 长的画“√”, 短的画“△”。




2. 多的画“√”, 少的画“△”。




3. 大的画“√”, 小的画“△”。



4. 高的画“√”, 矮的画“△”。



5. 轻的画“△”, 重的画“○”。(4分)



二、把每行中不同类的划去。(9分)



三、我会画。(12分)

1. 画△比○少2个。



2. 画□比○多4个。




3. 画☆与△同样多。



4. 画比下面的线短一点的线。




四、我来给动物分分类。(12分)



天上飞的

地上跑的

水里游的



五、把“<”“>”和“=”放到合适的位置,并分类。(填序号)(18分)

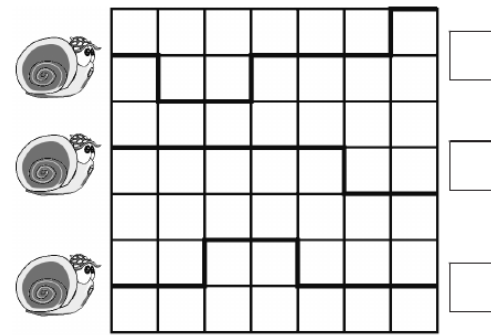
- ① $10 > 9$
- ② $18 > 20$
- ③ $5 + 4 > 19 - 10$
- ④ $8 - 7 > 10 - 4$
- ⑤ $17 - 7 > 5 + 6$
- ⑥ $8 + 8 > 10 + 6$
- ⑦ $8 + 5 > 7 + 4$
- ⑧ $10 + 6 > 7 + 3$
- ⑨ $10 - 8 > 8 - 4$

苹果中填“>”的是()。

苹果中填“<”的是()。

苹果中填“=”的是()。

六、谁走的路最近,画“√”。(12分)




七、按不同的标准分分类,看看你有几种方法。(16分)



第一种分法:

第二种分法:

八、请你想一想,第三块跷跷板上应有几只小鸭子?(9分)





专题训练卷(三)

一本好卷

时间: 60分钟 满分: 100分

题号	一	二	三	四	五	六	七	八	总分	评卷人
得分										

一、按要求填一填。(26分)

1.



- ()在最前面,()在最后面。
- 鸡的前面有()和()。
- 鸭的后面有()和()。

2.



- 把最前面和最后面的动物圈起来。
- 小马的前面是(),小马的后面是()。
- 小兔的后面是()和()。

3.



- 香蕉的右边是(),香蕉的左边是()。
- 从左数香蕉排第(),从右数香蕉排第()。
- 从左数梨是第()个,菠萝是第()个。

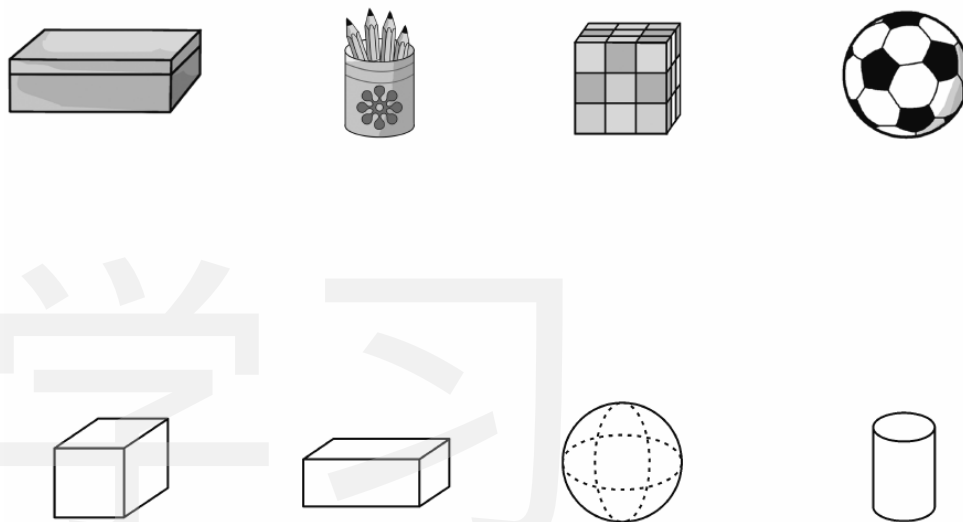
4. 在□里填数。(8分)

	5	

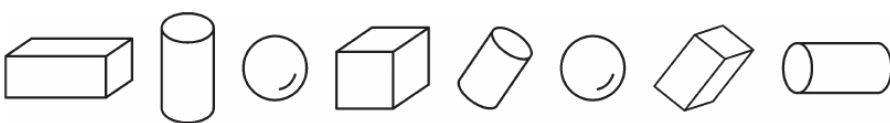
- 在5的左边写“3”,在“3”的下面写“10”。
- 在5的上面写“9”,在“9”的左边写“8”。
- 在5的右边写“0”,在“0”的下面写“2”。
- 在5的下面写“7”,在“0”的上面写“6”。

二、认识物体。(22分)

1. 连一连。(8分)

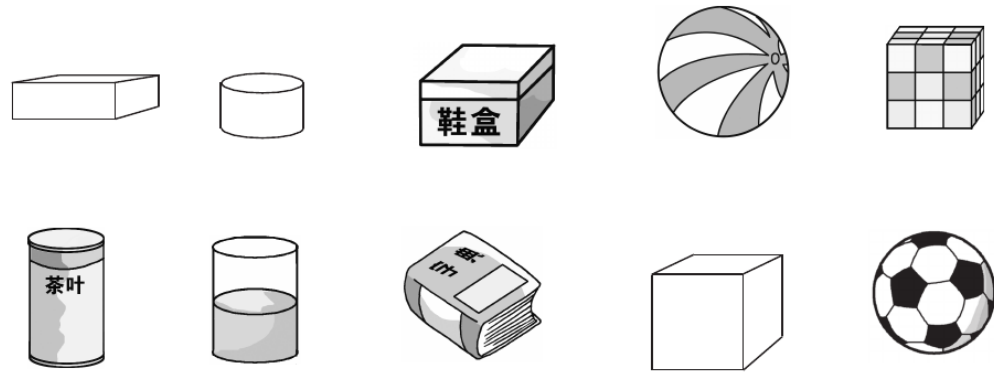


2. 数图形。(14分)



- 有()个,有()个,有()个,有()个。
- 从右边数起,第()个和第()个是。
- 请你将涂上颜色。

三、认一认,分一分,把序号填在对应的方框里。(10分)







长方体

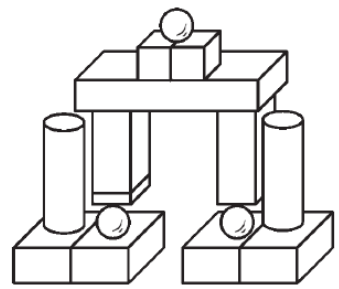
正方体

圆柱

球




四、搭城堡。(8分)



请看我的城堡,它是由()个 、
()个 、()个 、()
个 组成的。

五、看一看,圈一圈,涂一涂。(8分)



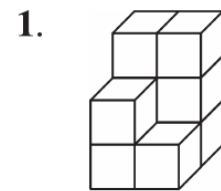
1. 把 左边的衣服和右边的衣服涂上你喜欢的颜色。
2. 把珍珍的裤子和背心圈出来。

六、看图填空。(6分)

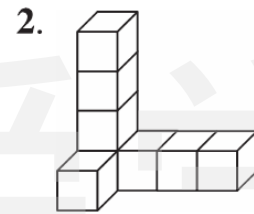
小明、小安、小雨三个人排成一排向前走,小明站在小雨的前面,小安也站在小雨的前面,且在小明的后面,()站在最前面,()站在最后面。



七、数一数,填一填。(12分)



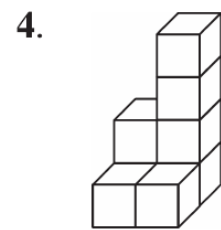
看见的 有()个,看不见的 有()个,一共有()个。



看见的 有()个,看不见的 有()个,一共有()个。

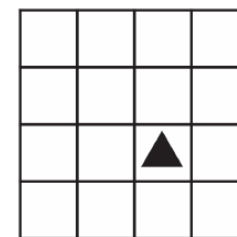


看见的 有()个,看不见的 有()个,一共有()个。



看见的 有()个,看不见的 有()个,一共有()个。

八、我会画:在▲的上面画○,下面画□,左边画☆,右边画△。(8分)





期末检测卷(一)

一本好卷

时间: 60分钟 满分: 100分

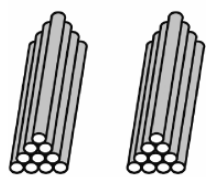
题号	一	二	三	四	五	六	七	八	九	总分	评卷人
得分											

一、看谁算得又对又快。(20分)

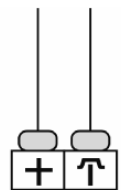
$2+7=$	$8-2=$	$4+4=$	$14-4-5=$
$9+5=$	$6+3=$	$6-2=$	$3+7-6=$
$4+3=$	$10+5=$	$9+9=$	$6+4+5=$
$3+5=$	$10-6=$	$5+7=$	$10-0-5=$
$8-8=$	$2+8=$	$7+8=$	$16-10+3=$

二、填空题。(28分)

1. 看图写数。



()



()



()

2. 在 8, 2, 11, 18, 16 这些数中, 最接近 20 的数是(), 最接近 0 的数是(), 最接近 10 的数是(), 最大的数是()。

3. 16 里面有()个十和()个一; 2 个十是()。

4. 十位上是 2, 个位上是 0, 这个数是()。

5. 一个数比 13 大, 比 15 小, 这个数是()。

6. ☆ ☆ ☆ ☆ ☆ ☆ ☆ ☆ ☆

∴ ∴ ∴ ∴ ∴ ∴ ∴



(1) ☆有()个, △有()个。

(2) ☆比△多()个, △比☆少()个。

7. 在○里填上“>”“<”或“=”。

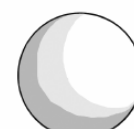
$5+8 \bigcirc 13$	$17-7 \bigcirc 10$	$8+3 \bigcirc 12$
$15-5 \bigcirc 12$	$4+8 \bigcirc 10$	$12 \bigcirc 3+9$

8. 在苹果里填上“+”或“-”。


$8 \text{ 苹果 } 1=9$	$7 \text{ 苹果 } 3=10$	$5 \text{ 苹果 } 9=14$
$15 \text{ 苹果 } 5=10$	$14 \text{ 苹果 } 4=10$	$6 \text{ 苹果 } 7=13$

三、画一画, 涂一涂。(10分)

1. 在最重的球下面画“√”, 最轻的球下面画“○”。(4分)



2. 把在水中生活的动物涂上颜色。(6分)




四、看谁填得又对又快。(7分)



一共有()只小动物。小猫的前面是(),后面是()。()在小鸭

子的前面,()在小狗的后面,从右数第3个是(),第5个是()。

五、先数一数,再填空。(8分)



长方体()个;正方体()个;
球()个;圆柱()个。

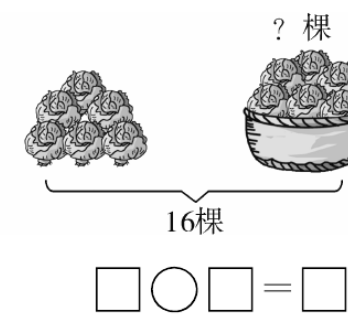
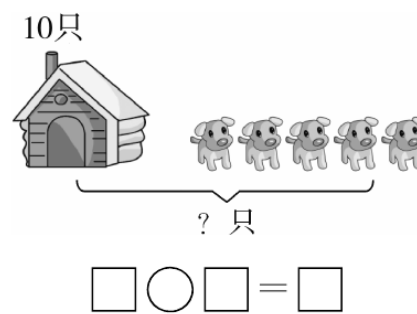
六、横行、竖行上的三个数相加,各得多少?(6分)

4	6	4	()
4	2	5	()
3	7	6	()
()	()	()	

七、填表。(6分)

	原来有	用了	还剩
	11支	1支	()支
	大班有	小班有	一共有
	8个	5个	()个

八、看图写算式。(6分)




九、解决问题。(9分)

1. 草丛中有9只蝴蝶,又飞来6只蝴蝶,现在有多少只蝴蝶?(4分)


□○□=□(只)

2. 拍球。(5分)



两人一共拍了多少下? □○□=□(下)

3. 房子里有几只小动物?(3分)



□○□=□(只)



期末检测卷(二)

一本好卷

时间: 60分钟 满分: 100分

题号	一	二	三	四	五	六	七	总分	评卷人
得分									

一、填空题。(30分)

- 在0~20这些数中,最小的数是(),最大的数是()。
- 19里面有()个十和()个一,1个十是()。
- 5个一和1个十合起来是(),2个十里面有()个一。
- 一个数,它的个位上是7,十位上是1,这个数是()。
- 把下面各数按从小到大的顺序排列。(3分)
13 6 10 17 11 20

6. 小动物排队,小狗前面有4只小动物,后面有5只小动物,一共有()只小动物在排队。

7. 在○里填上“>”“<”或“=”。

$$10 \bigcirc 9 \qquad 8+4 \bigcirc 14 \qquad 7+5 \bigcirc 6+6$$

$$18 \bigcirc 20 \qquad 16-10 \bigcirc 6 \qquad 10+4 \bigcirc 9+2$$

8. 在括号里填上恰当的数。


$$8+()=10 \qquad 4+()=4 \qquad ()+6=10$$

$$6+()=15 \qquad 5+()=10 \qquad ()+7=8$$

9. 下面一共有()个○,把左起第5个涂上色,把最右面的5个圈起来。



10. 看图填空。



- (1) 帽子在狗的()面。
- (2) 树枝在梨的()面。
- (3) 书在鱼缸的()面。

二、看谁算得又对又快。(12分)

$$4+2= \qquad 17-7= \qquad 9-3= \qquad 1+7=$$

$$10-7= \qquad 7+6= \qquad 4+7= \qquad 7+8=$$


$$9+4= \qquad 10-8= \qquad 11-1= \qquad 3+9=$$

$$9-9= \qquad 8+6= \qquad 3+5= \qquad 10-6=$$

$$5-3= \qquad 6+6= \qquad 7+5= \qquad 12-10=$$

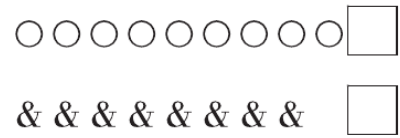
$$13-10+8= \qquad 14-4-5= \qquad 8+8-6= \qquad 10-0+1=$$

三、把每行中不同类的圈起来。(8分)

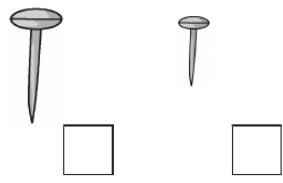


四、我会比较。(8分)

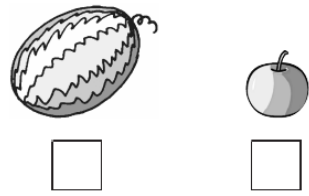
1. 在多的那一行后面打“√”。




2. 在长的下面画“√”。



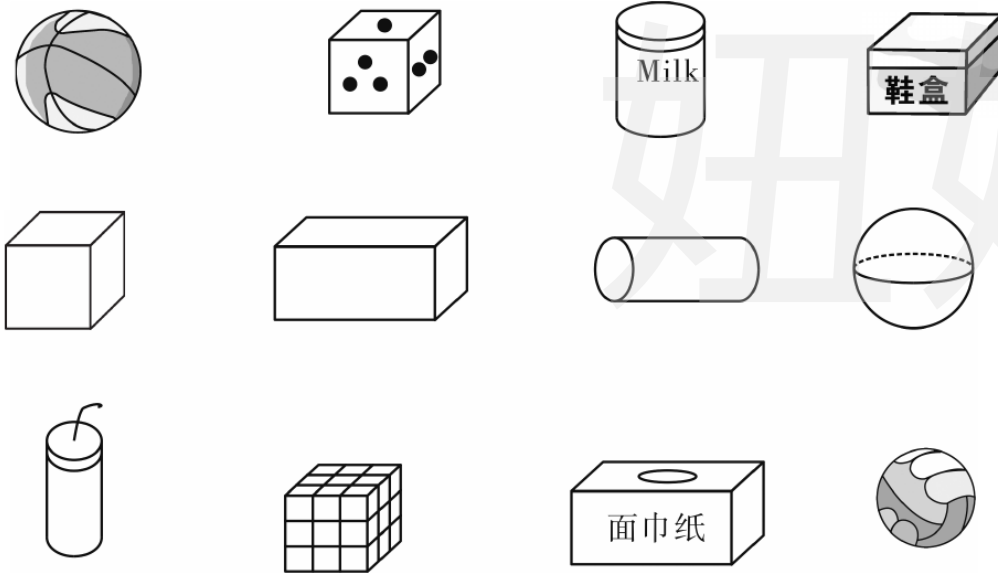
3. 在重的下面画“√”。



4. 在矮的后面画“√”。

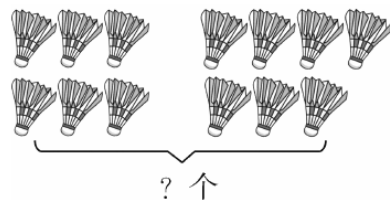


五、把形状相同的连起来。(8分)

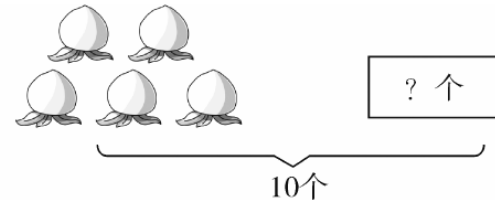


六、解决问题。(28分)

1. 看图列式。(8分)




$\square \bigcirc \square = \square$



$\square \bigcirc \square = \square$

2. 数兔子。(5分)



白兔有()只,灰兔有()只,一共有多少只兔子?

$\square \bigcirc \square = \square$ (只)

3. 踢毽子。(15分)



(1) 小丽和小刚一共踢了多少个?

$\square \bigcirc \square = \square$ (个)

(2) 小英和小刚一共踢了多少个?

$\square \bigcirc \square = \square$ (个)

(3) 小丽和小英一共踢了多少个?

$\square \bigcirc \square = \square$ (个)

七、智慧小屋。(6分)

把 3, 5, 7, 8, 10 和 13 分别填入下面的括号里(每个数只能用一次),使两个算式都成立。

() + () = ()

() - () = ()



期末检测卷(三)

一本好卷

时间: 60分钟 满分: 100分

题号	一	二	三	四	五	六	七	八	总分	评卷人
得分										

一、看谁算得又对又快。(8分)

$15-5=$	$8+4=$	$6+10=$	$3+3=$
$3+6=$	$9-5=$	$8+8=$	$7+6=$
$4+7=$	$4+9=$	$10+6=$	$3+9=$
$0+7+7=$	$10-2+6=$	$8-2+7=$	$6+9-10=$

二、填空题。(33分)

1. 1个十和5个一组成的数是(); 7个一和1个十组成的数是()。19里面有()个一和()个十; 2个十是()。

2. 写出下面各数的前一个数和后一个数。

() 10 () () 1 () () 19 ()

3. 比5大7的数是(), 比19小10的数是()。

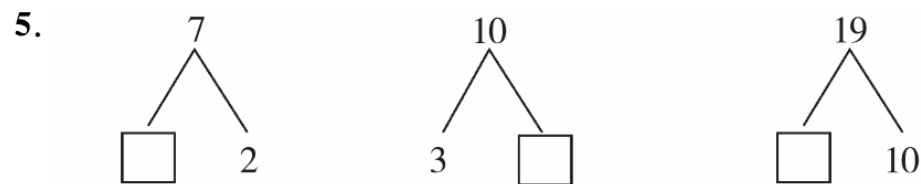
4. 18 11 10 7 20 12 5 16

(1) 这里一共有()个数, 最大的数是(), 最小的数是()。

(2) 从左边数, 10排在第()个, 第5个数是()。

(3) 从右边数, 第2个数是(), 20排在第()个。

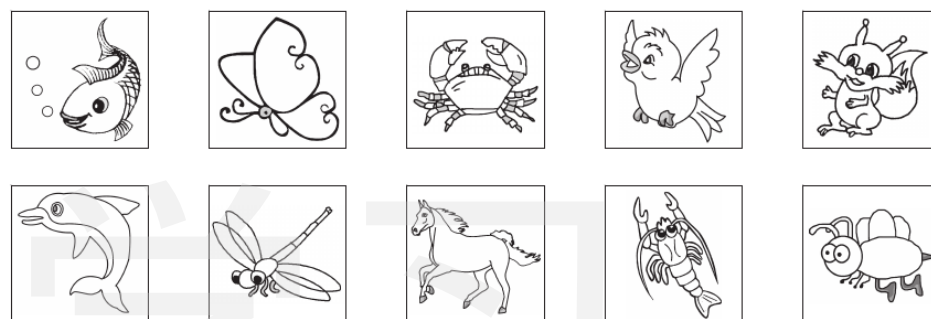
(4) 把这些数按从小到大的顺序排列。(4分)



6. 在○里填上“>”“<”或“=”。

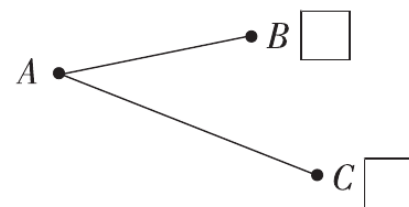
$10-5 \bigcirc 6$	$6+7 \bigcirc 14$	$3+9 \bigcirc 10+2$
$9+10 \bigcirc 20$	$8+8 \bigcirc 15$	$10+5 \bigcirc 10-5$

三、给会飞的动物涂上红色, 给能在水里生活的动物涂上绿色。(8分)



四、比一比, 画一画。(8分)

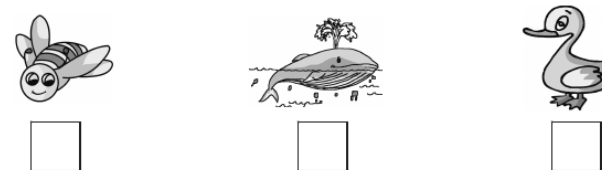
1. 在长的后面画“√”, 在短的后面画“△”。



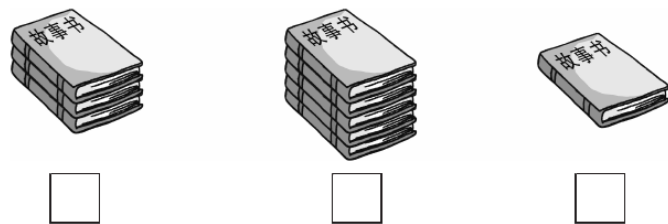
2. 在高的后面画“△”, 在矮的后面画“○”。




3. 在最轻的下面画“√”, 在最重的下面画“○”。



4. 在最多的下面画“☆”，在最少的下面画“△”。



五、信鸽送信。(用线连一连)(10分)




六、在□里填得数。(10分)

加数	1	3	8	6	6	5	6	10	0	8
加数	9	4	10	3	7	9	6	6	9	5
和										

被减数	10	15	17	12	10	10	8	9	19	8
减数	4	5	7	2	7	2	5	7	9	4
差										

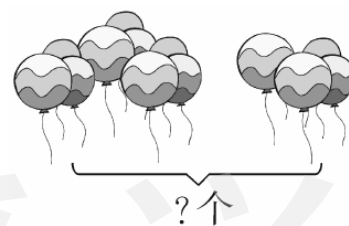
七、数一数,填一填。(8分)



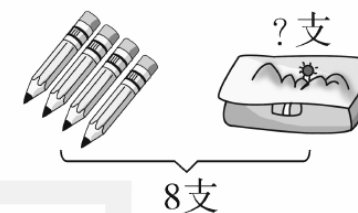
	() 个
	() 个
	() 个
	() 个

八、解决问题。(15分)

1. 看图写算式。(6分)

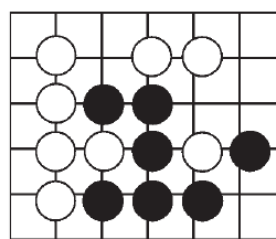


$$\square \bigcirc \square = \square$$



$$\square \bigcirc \square = \square$$

2. (生活运用题)下棋。(5分)



棋盘上○有()枚,●有()枚。

一共有多少枚棋子?

$$\square \bigcirc \square = \square \text{ (枚)}$$

3. (生活运用题)植树。(4分)



红星小学要植树 19 棵,已经栽了

9 棵,还有多少棵没栽?

$$\square \bigcirc \square = \square \text{ (棵)}$$



期末检测卷(四)

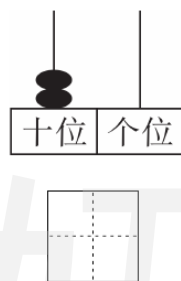
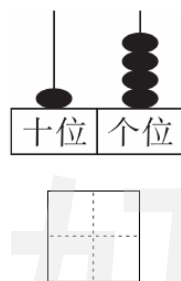
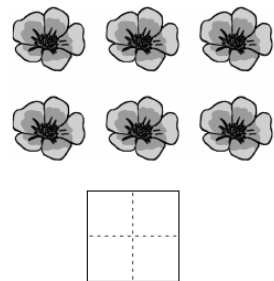
一本好卷

时间: 60分钟 满分: 100分

题号	一	二	三	四	五	六	七	八	九	总分	评卷人
得分											

一、填一填。(20分)

1. 看图写数。



2. 与11相邻的两个数分别是()和()。

3. 15里面有()个十和()个一。

4. 比10多6的数是(),比10少1的数是()。

5. 在 里填上“+”或“-”。

5 3 = 8

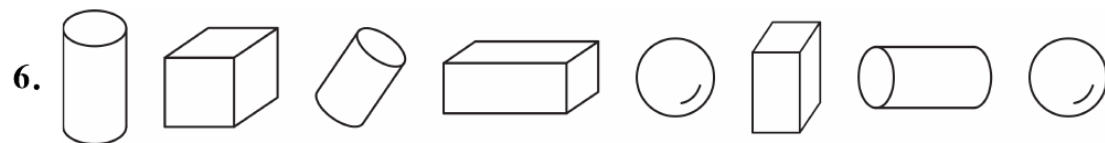
8 8 = 16

13 3 = 10

17 7 = 10

3 9 = 12

7 5 = 12



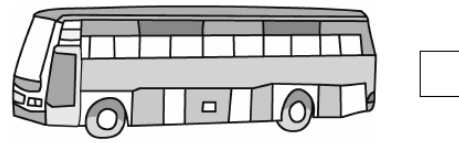
(1) 从左起,第三个是(),第五个是()。

(2) 从右起,第()个和()个是长方体。


(3) 从右起,正方体排在第()个。

二、比一比。(12分)

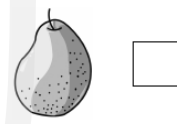
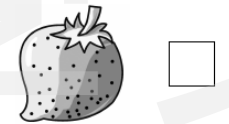
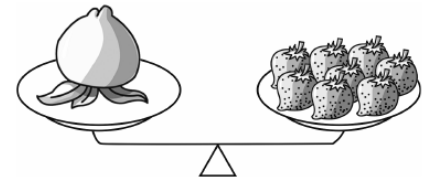
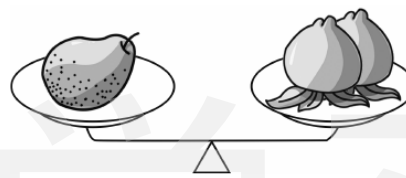
1. 在长的后面画“√”。




2. 最高的后面画“√”,最矮的后面画“×”。



3. 最轻的后面画“○”,最重的后面画“△”。



三、分一分,把序号写在对应的方框里。(10分)



















交通工具

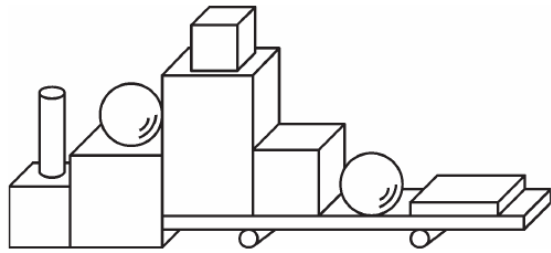
动物


蔬菜

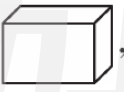
四、小星星亮晶晶。(16分)


$4+5=$ 	$10-3=$ 	$7+8=$ 	$5+0=$ 
$8+5=$ 	$15-5=$ 	$9+4=$ 	$3+4=$ 
$18-8+3=$ 	$6+8-4=$ 	$7+3+8=$ 	$12-2=$ 
$17-7+5=$ 	$10-5+4=$ 	$10-7+5=$ 	$4+6+7=$ 


五、数一数,填一填。(8分)



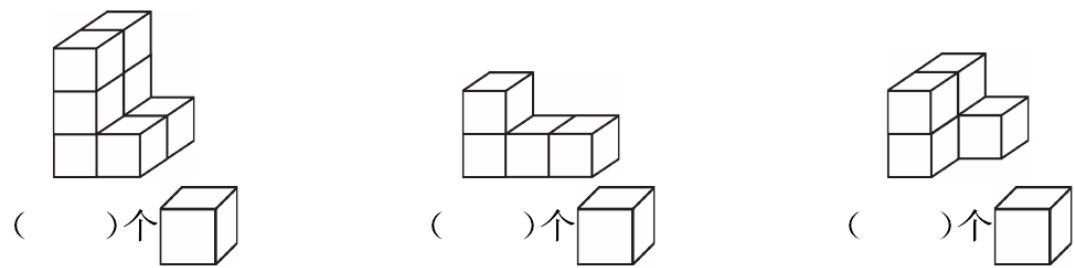
有()个 ,


有()个 ,


有()个 ,


有()个 .

六、数一数,填一填。(6分)



()个 

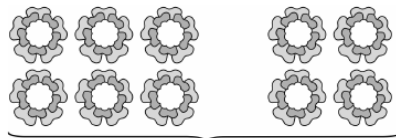
()个 

()个 


七、在 里填上合适的数。(6分)

$6+9=$ <input type="text"/>	$4+8=$ <input type="text"/>	$7+9-6=$ <input type="text"/>
-----------------------------	-----------------------------	-------------------------------

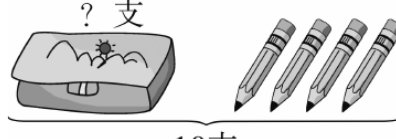
八、看图列算式。(12分)

- 


? 朵

\bigcirc $=$
- 

15个

\bigcirc $=$
- 

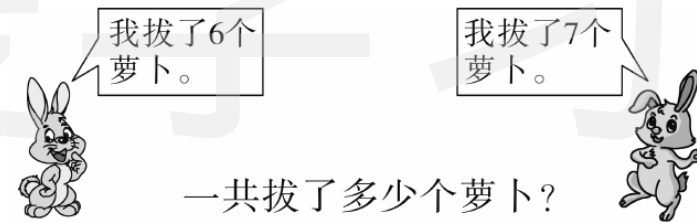
10支

\bigcirc $=$
- 

14只

\bigcirc $=$

九、解决问题。(10分)


- 

我拔了6个萝卜。

我拔了7个萝卜。

一共拔了多少个萝卜?

\bigcirc $=$

- 

一共有17个苹果。

我们一家吃了7个。

还剩下多少个苹果?

\bigcirc $=$



期末检测卷(五)

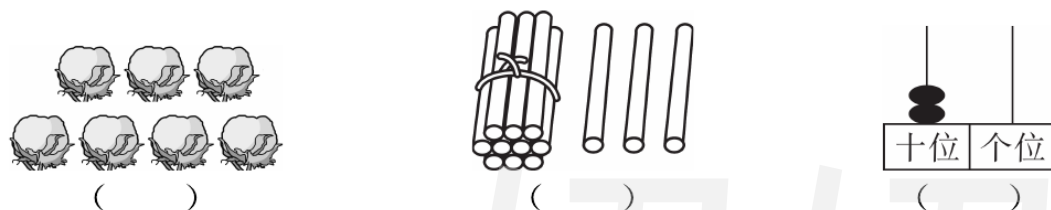
一本好卷

时间: 60分钟 满分: 100分

题号	一	二	三	四	五	六	七	八	总分	评卷人
得分										

一、填空。(24分)

1. 看图写数。



2. 1个十和4个一组成(), 16里面有()个十和()个一。

3. 从()边起, 第一位是个位, 第二位是()位。

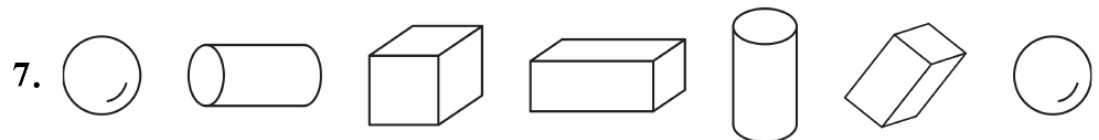
4. 一个数的十位上是1, 个位上的数比十位多6, 这个数是()。

5. 比14大, 而比16小的数是()。

6. 在○里填上“>”“<”或“=”。

$8+5 \bigcirc 14$ $10-6 \bigcirc 4$ $14-4 \bigcirc 10+3$

$6+5 \bigcirc 5+8$ $8+7 \bigcirc 7+6$ $15 \bigcirc 12-2$




(1) 上面一共有()个图形。

(2) 从左边数, 排在第()个, 它的右边是()。

(3) 球有()个, 圆柱有()个, 它们一共有()个。

(4) 从右边数, 排在第(), 它的左边是()。




二、分一分。(10分)



天上飞的

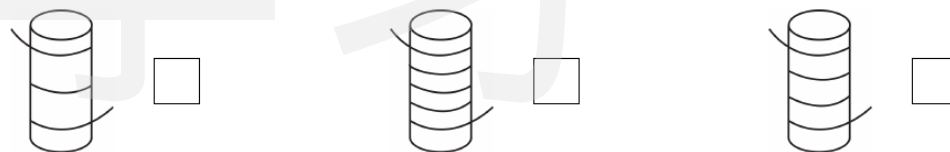
地上跑的

水里游的




三、比一比。(12分)

1. 最长的画“√”, 最短的画“×”。



2. 最轻的画“√”, 最重的画“×”。



3. 最高的画“√”, 最矮的画“×”。



四、按要求做题。(17分)

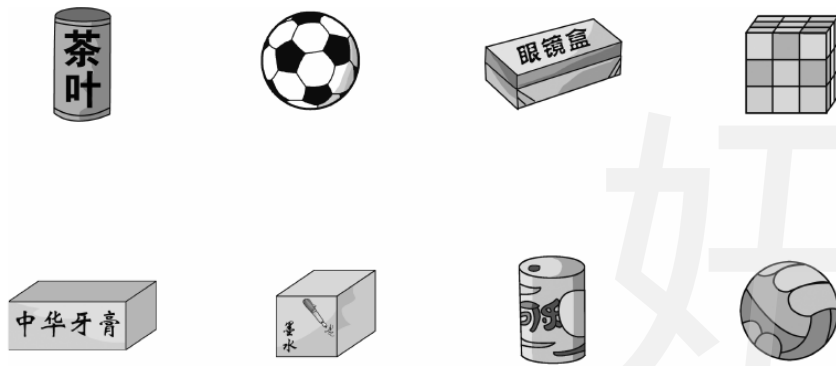
1. 在括号里填上适当的数。(9分)

$5 + () = 10$	$14 - () = 10$	$5 + () = 15$
$10 - () = 4$	$8 + () = 14$	$() + 6 = 16$
$() + 9 = 18$	$4 + () = 12$	$8 - () = 3$

2. 在○里填上“>”“<”或“=”。(8分)

$7 \bigcirc 17$	$15 \bigcirc 10$	$9 + 2 \bigcirc 8 + 8$	$6 + 9 \bigcirc 14$
$6 + 3 \bigcirc 9$	$5 + 5 \bigcirc 8$	$17 - 10 \bigcirc 8$	$5 + 9 \bigcirc 6 + 8$

五、把形状相同的连起来。(4分)



六、小动物们回家。(10分)

$6 + 4 =$	$6 + 7 =$	$3 + 2 =$	$5 + 4 =$
$10 + 8 =$	$15 - 5 =$	$5 + 9 =$	$7 + 8 =$
$10 - 5 =$	$8 + 9 =$	$13 - 3 =$	$7 + 9 =$
$8 + 6 =$	$10 - 2 =$	$10 - 4 =$	$8 - 3 =$
$15 - 5 - 1 =$	$5 + 3 + 7 =$	$8 + 2 - 3 =$	$15 - 5 + 4 =$

七、看图列算式。(12分)

1.

$\square \bigcirc \square = \square$

2.

$\square \bigcirc \square = \square$

3.

$\square \bigcirc \square = \square$

4.

$\square \bigcirc \square \bigcirc \square = \square$

八、解决问题。(11分)

1.

(1) 小女孩比小男孩多几张图书卡片?(3分)

$\square \bigcirc \square = \square$ (张)

(2) 他们两人一共有多少张图书卡片?(3分)

$\square \bigcirc \square = \square$ (张)

2.

两人一共做了多少朵花?(5分)

$\square \bigcirc \square = \square$ (朵)

SJ 一年级(上)部分参考答案

第一~四单元测试卷

- 五、1. (1)下 上 (2)左 下
2. (1)右 左 (2)左 上 (3)右 下
- 六、1. (1)○ (2)√
2. 小冬在最上面,小亮在最下面。
3. ④ ② ③ ①

第五单元测试卷

- 一、8 5 3 2 9 6
四、6 9 8 少 6<9
多 9>8 少 6<8
六、3. (1)6 (2)4 3 2
七、1. $0<3<4<5<7<9$
2. $10>8>6>5>2>1$
- 八、1. (1)10 (2)10 0
(3)1、3、0、2、4 10、7、8、6 (4)5 6
2. (1)1 2 4 5 7 9
(2)8 7 5 4 2 1 0

月考巩固卷(一)

- 一、5 3 4 9
二、1. 小 4<5 2. 大 7>4
三、> < < = < = < <
四、1. 10 3. 4 4. 2
九、上 下 左 右
十、1. 0 2 10 6
2. 0、8、2、4 6、5、10、1 4、7、9、6
3. 10 10 0

4. $10>9>8>7>6>5>4>2>1>0$

第六单元测试卷

- 二、4. 3 3 5 2 5. 1 4 4 2
三、1. B 2. A 3. C 4. A 5. A 6. A
四、1. (1)10 (2)4 2 7 (3)3 4
2. (1)3 2 2 3 10
(2)1 6 4 8 10
五、5 6 4 8 7 10

第七单元测试卷

- 三、1. 2 8 8 1 9 4 5 3 7
3 7 3 7(后两空答案不唯一)
2. 6 4 1 5
1 6 4 3
1 5 3 2
5 3 1 2 4

- 四、< = > > < < <
= > > < <

五、2 4 4 5 1 4 5 3 6 4

七、1. 7 2. 10 0 3. 3 2 4

4. $10>7>6>5>3>2>0$

九、1. 2 2 2 3

2. 2 3 1 3 3 8

3. 6 2 4 5

期中检测卷

一、1. (1)10 (2)5 6 2. 7 5 3

3. (1)6 (2)前 后 (3)3 5

4. (1)上 下 (2)下 上

(3)小鸟 蚂蚁

二、1. ①③⑤ ②④

2. ①②⑤ ③④

3. ①②③ ④⑤

4. ① ③ ②④⑤

四、1. $5<7$ $8>4$

2. $10>8>7>5>4>1$

六、1. 2 2. 3 3. 3 4. 2 5. 1 6. 1

7. 1

七、10 7 8 10

第八单元测试卷

一、3. 8 6 10 9 1 4 9 0

4. > < > = < < = < =

二、1. 7 10 1 4 2 7 6 7 10

8 10 10

四、1. 4 3 4 2. $4+3=7$

3. $4-3=1$

五、1. $6+3=9$ $3+6=9$

2. $7-2=5$ $7-5=2$

3. $6+4=10$ $4+6=10$

$10-6=4$ $10-4=6$

4. $3+5=8$ $5+3=8$

$8-3=5$ $8-5=3$

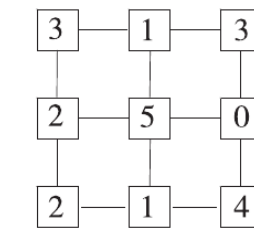
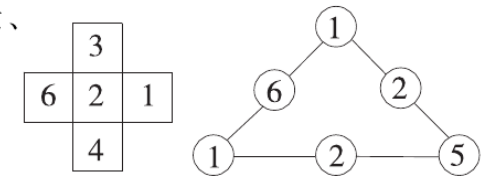
5. $5+2=7$ 6. $9-4=5$

7. $10-6=4$ 8. $6+2=8$

9. $3+2+3=8$ 10. $10-4-4=2$

六、1. $5+4=9$ 2. $10-7=3$

七、



月考巩固卷(二)

一、1. 9 0 4 9 10

2. 7 3. 1 9

3. 1 9

4. $6+3=9$ $3+6=9$ $9-3=6$

$9-6=3$

二、1. 2 5 0 5 10 4 6 10

9 9 9 0 8 8 4 7

2. 9 1 2 10 3 10

三、1. 9 7 8 4 7 5 6 10 7 9 4

5 8 7 10 7 7 9

四、1. < = > < = >

2. 10 9 8 7 7 7

3. 2 2 3 6 4 2 3 4 6 5 3 2

五、1. $8-2=6$ 2. $3+3=6$

3. $4+3=7$ 4. $10-6=4$

六、 $4+6=10$

七、1. $6-3=3$

2. $3+4=7$

牛奶和松脆饼

第九单元测试卷

一、12 18 15 19

三、1. 5 6 8 9 10 12 14 15

16 20 18 17 16 13 12

11 10 9

2. 16 13 20 15 19 18 12

11

3. 15 1 5 12 1 2 20 2

5. 1 5 17 19 12 11 20

20 14、15、16、17 15

6. > < < = < =

四、1. 10+7=17 7+10=17

17-10=7 17-7=10

2. 10+1=11 1+10=11

11-10=1 11-1=10

3. 14-4=10 4. 10+5=15

五、12 19 7 12 6 18

六、4 5 6 10 11 15 16 18 19 20

1. 2 3 4 2. 11 12 13

3. 7 9 4. 17

5. 12 13 14 15 16

(1、2 题答案不唯一)

七、○=2 △=8 □=10

八、2 个

第十单元测试卷

二、1. > > = > < >

2. 14 9 8 11 10 8

3. 5 8 5 4 7 9

4. 11 10

三、2. 5 4 6 9 10 19

14 15 16 17 11 10

四、16 11 10 11 7 11

14 16 15 11 10

五、1. 10+2=12 2+10=12

12-2=10 12-10=2

2. 9+1=10 1+9=10

10-1=9 10-9=1

4+5=9 5+4=9

9-4=5 9-5=4

3. 13-3=10 4. 6+6=12

六、1. 9+4=13 2. 8+8=16

3. 7+5=12

七、1. 3 10 2. 2 4

专题训练卷(一)

一、1. 4 13 10

2. 12 13 14 16 17 19 20

7 8 9 11 12 14 15

3. 16 4. 1 9 5. 9 20 0 19

二、1. 3 5 15 1 4 14 2 4 14

2. 12 2 7 14 8 16 6 0

3. 2 4 1 3 1 3

4. < > > < < =

5. - + + - - +(或-)

三、1. 8+8 12-2 10+4 6+9

2. 7+5 6+6 10+2

3. 14 12 17 10 8 9

四、按竖列排: 8 10 4 4 7 16

16 13 9 9 10 7

18 12 15 13 8 9

15 9 6 2 15 8

五、1. 8+2=10 2. 17-7=10

3. 10+4=14 4. 6+8=14

七、1. 13-3=10 2. 7+7=14

3. 19-9=0

专题训练卷(二)

四、天上飞的: ①④⑦⑨

地上跑的: ②③⑤⑩

水里游得: ⑥⑧⑪⑫

五、①> ②< ③= ④< ⑤<

⑥= ⑦> ⑧> ⑨<

填“>”的是: ① ⑦ ⑧

填“<”的是: ② ④ ⑤ ⑨

填“=”的是: ③ ⑥

七、第一种方法: ①③⑦⑬ ②⑤⑨⑭

⑥⑩⑫⑯ ④⑧⑪⑰

第二种方法: ①③⑥⑩⑫⑯

②④⑤⑦⑧⑨⑪⑬⑭⑰

(答案不唯一)

八、4 只

专题训练卷(三)

一、1. (1)鸭 鸡 (2)鸭 鹅

(3)鹅 鸡

2. (2)小兔 小猴

(3)小马 小猴

3. (1)苹果 桃 (2)2 4

(3)4 5

二、2. (1)1 2 3 2 (2)3 6

三、长方体: ①③⑧ 正方体: ⑤⑨

圆柱: ②⑥⑦ 球: ④⑩

四、2 8 2 3

六、小明 小雨

七、1. 7 2 9 2. 7 1 8

3. 7 1 8 4. 7 1 8

期末检测卷(一)

一、9 6 8 5 14 9 4 4

7 15 18 15 8 4 12 5

0 10 15 9

二、1. 20 11 9 2. 18 2 11 18

3. 1 6 20 4. 20 5. 14

6. (1)9 7 (2)2 2

7. = = < < > =

8. + + + - - +

四、5 小兔 小松鼠 小松鼠 小兔

小猫 小狗

五、3 2 2 2

六、横行得数是 14, 11, 16

竖行得数是 11, 15, 15

七、10 13

八、10+5=15 16-6=10

九、1. $9+6=15$ 2. $8+8=16$

3. $11-1=10$

期末检测卷(二)

一、1. 0 20 2. 1 9 10 3. 15 20

4. 17 5. $6<10<11<13<17<20$

6. 10 7. $> < = < = >$

8. 2 0 4 9 5 1

9. 14 10. (1)右 (2)上 (3)左

二、6 10 6 8 3 13 11

15 13 2 10 12 0 14

8 4 2 12 12 2 11

5 10 11

六、1. $6+7=13$ $10-5=5$

2. 5 10 $5+10=15$

3. (1) $9+5=14$ (2) $7+5=12$

(3) $9+7=16$

七、 $5+8=13$ $10-3=7$

期末检测卷(三)

一、10 12 16 6 9 4 16 13 11 13

16 12 14 14 13 5

二、1. 15 17 9 1 20

2. 9 11 0 2 18 20

3. 12 9

4. (1)8 20 5

(2)3 20 (3)5 4

(4) $5<7<10<11<12<16<18<20$

5. 5 7 9

6. $< < = < > >$

六、10 7 18 9 13 14 12 16

9 13 6 10 10 10 3 8 3

2 10 4

七、1 1 5 4

八、1. $9+4=13$ $8-4=4$

2. 8 7 $8+7=15$

3. $19-9=10$

期末检测卷(四)

一、1. 6 14 20 2. 10 12

3. 1 5 4. 16 9

5. $+ + - - + +$

6. (1)圆柱 球 (2)3 5 (3)7

三、交通工具:①③⑦⑨

动物:②⑤⑥ 蔬菜:④⑧⑩

四、9 7 15 5 13 10 13 7 13 10

18 10 15 9 8 17

五、4 3 2 3

六、8 4 5

八、1. $6+4=10$ 2. $15-5=10$

3. $10-4=6$ 4. $14-4-3=7$

九、1. $6+7=13$ 2. $17-7=10$

期末检测卷(五)

一、1. 7 13 20 2. 14 1 6

3. 右 十 4. 17 5. 15

6. $< = < < > >$

7. (1)7 (2)3 长方体

(3)2 2 4 (4)2 圆柱

二、④⑥⑩ ②③⑤⑧ ①⑦⑨

四、1. 5 4 10 6 6 10 9 8 5

2. $< > < > = > < =$

六、10 13 5 9 18 10 14 15

5 17 10 16 14 8 6 5

9 15 7 14

七、1. $10-3=7$ 2. $8+6=14$

3. $14-4=10$ 4. $10-4+3=9$

八、1. (1) $9-4=5$ (2) $9+4=13$

2. $9+9=18$

第1周测试卷

二、1. \checkmark \bigcirc

2. \checkmark \bigcirc

3. 西瓜最重,香蕉最轻

第2周测试卷

二、③⑥⑧⑩⑫ ④⑤⑨ ①②⑦⑩

三、1. 苹果 梨

2. 香蕉 菠萝

3. 黄瓜 草莓 梨 桃子

四、1. 小汽车 大卡车

2. 小汽车 大客车 大卡车

3. 前面 后面

五、1 2 4 3

六、按颜色分:黄色 ①⑦⑨

蓝色 ②④⑥

紫色 ③⑤⑧

或按形状分: \square ①③⑧

\triangle ②④⑦

\bigcirc ⑤⑥⑨

第3周测试卷

一、2 3 0 5

三、5 5 3 2

四、2 4

五、1. 5 2. 4 3. 梨 4. 5

六、3 4

七、2. 0 4. 没有

第4周测试卷

一、1. 少 $3<5$ \square \triangle $5>3$

2. \bigcirc \triangle $4>2$ \triangle \bigcirc $2<4$

二、10 5 9 6 10 8

三、9 10 8 6 7

四、(1) $6>5$ (2) $7>4$

(3) $4<5$ (4) $5<7$

五、 $> > < = < = > >$

六、1. 6 8

2. 9 8 7

3. 6

第5周测试卷

三、1. \checkmark 2. \times 3. \checkmark 4. \checkmark

5. \times

四、1. 3 1 6

2. 4 1 3 6

五、1 4 2 2

六、8 5 5 6

第6周测试卷

三、5 2 5 4 6 2

四、4 4 5 5

1. 4 4 1 2

2. 5 5 4 3

3. 6 6 6 7

4. 6 5 3 4

五、2 5 2 2(最后两空答案不唯一)

六、5种

第1种:小红分5个,小丽分1个;

第2种:小红分1个,小丽分5个;

第3种:小红分4个,小丽分2个;

第4种:小红分2个,小丽分4个;

第5种:每人分3个。

每人分3个最公平。

第7周测试卷

一、6 4 6

三、3 3 3 5 5 3 4 5 5 4

四、5 4 7 1 7 4 5 6 8

五、2 5 3 4 6 1 1 7 2 6

3 5 4 4 1 8 2 7 3 6

4 5 1 9 2 8 3 7 4 6

六、6 3 7 2 3 5(后4个空答案不唯一)

七、8

第8周测试卷

一、3+1=4 4+1=5

3-1=2 5-2=3

三、> > = < > < >

< >

四、2 2 1 1 1 3 0 5 4 4

(后两空答案不唯一)

五、1 4 4 3 5 3

六、1. 5 3 2. 2 3. 1

第9周测试卷

二、4+3=7 3+4=7 7-3=4

7-4=3 2+4=6 4+2=6

6-2=4 6-4=2

三、6 8 8 7 7 6 7 5 2 1

6 3

五、5 7 4 8 6 2 7 3 8 2

8 4 7 2 6

六、1. 7-2=5 2. 8-3=5

第10周测试卷

二、4+5=9 5+4=9 9-4=5

9-5=4 4+6=10 6+4=10

10-4=6 10-6=4

三、3 5 5 8 2 1 6 7 7

四、< = > > < =

五、1. 7+2=9 2. 9-4=5

3. 7+3=10 4. 10-2=8

六、○=3 △=4 □=6

第11周测试卷

一、5 10 6 3 10 7

二、7 7 9 3 4 4 7 4 7

四、- - + + + - + -

- + + -

五、= < = > = >

六、1. 3+4+2=9 2. 10-2-5=3

3. 7-2+3=8

第12周测试卷

一、1. 15 2 2. 7 1 3. 13 15

4. 18 11 13 5. 10 6. 个 十

二、11 12 13

四、10+4=14 14-4=10

10+6=16 16-6=10

六、> < < < = < >

< =

七、5+10=15 10+5=15

15-5=10 15-10=5

第13周测试卷

一、1 5 15 1 2 12

1 3 13 1 7 17

二、> < < > = =

三、8 2 5 7 6 4 3 9 10

四、11 12 13 14 15 16 17 18

五、9+6=15 4+9=13

六、9+2-1=10(人)

第14周测试卷

三、> = < < > >

四、14 13 13 15 11 12 11 10 12 14

五、7+4=11 7+7=14

8+5=13 8+4=12

六、8+7+1=16(页)

第15周测试卷

一、13 14 15 11 12 13

13 12 11 11 12 13

二、15 11 12 13 12 12 11

13 14

三、= < < = = >

四、1. 5+6=11

2. 3+8=11

3. 4+7=11

4. 6+6=12

五、1. 7+7=14

2. 8+5=13

第16周测试卷

一、1. 6 8 12 14 16 20

15 13 9 7 5 3

2. 15 1 7 10 20 18

3. □ ○ ○ □

4. + + + + - - - -

二、9 8 9 3 4 0 6 14 13

15 10 10

三、5+8=13 6-2+3=7

四、1. 4 1 3 3

2. (1)长方体 正方体 1

(2)圆柱 球

(3)4+1+3+3=11(个)