

# 一本好卷子



妞妞爱学习

数学

1

RJ

一年级上册

严格遵循命题趋势，科学设计单元检测

- 周周测试基础练习
- 单元测试培优提升
- 专题训练各个击破
- 期末检测冲刺百分

扫一扫 安装APP

手机秒变学习机



天津出版传媒集团  
天津人民出版社

更多免费网课请关注公众号：妞妞爱学习 或微信：190097716

# 第一单元测试卷

一本好卷

时间：60分钟 满分：100分

题号	一	二	三	四	五	六	七	八	总分	评卷人
得分										

## 一、数一数，在方框里画“○”。(12分)














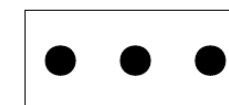


















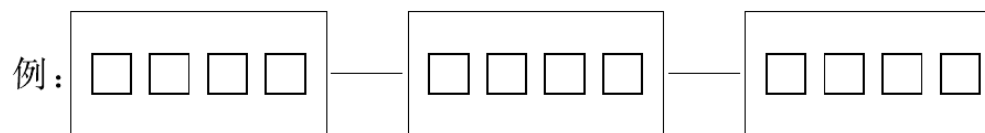

## 二、把数量同样多的用线连起来。(12分)



## 三、多的在○里画“√”。(15分)




## 四、照样子，画一画。(12分)




密 封 线 内 不 得 答 题

姓名 班级 学校

五、看图圈数。(12分)



1 2 3 4 5




0 1 2 3 4



3 4 5 6 7



1 2 3 4 5



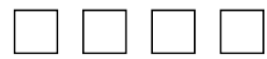
0 1 2 3 4



4 5 6 7 8

六、我会比,还会画。(12分)

1. 画△,要和□同样多。



2. 画○,要和◇同样多。



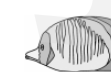

3. 画○,比△少。




4. 画□,比☆多。



七、我来数一数。(用○表示一个数)(16分)



八、从1出发,一笔画。(9分)



数学·RJ·一年级上册

# 第二单元测试卷


一本好卷

时间：60分钟 满分：100分

题号	一	二	三	四	五	六	七	八	总分	评卷人
得分										

### 一、看图填空。(19分)

1.



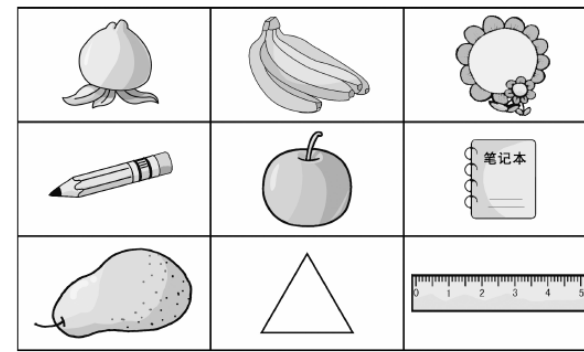
- (1) 小刚的左边是( ), 小伟的右边是( )。
- (2) 小红在小涛的( ), 小涛在小红的( )。
- (3) ( )在( )的左边, ( )在( )的右边。

2. 看图填一填。

- (1) 书在桌子的( )面, 小猫在桌子的( )面。
- (2) 花瓶在书的( )边, 笔筒在书的( )边。
- (3) 《故事会》在《一千零一夜》的( )面。



3.



- (1) 香蕉的左边是( ), 右边是( )。
- (2) 橙子在笔记本的( )边, 铅笔在橙子的( )边。
- (3) ( )在橙子的上面, 三角形在橙子的( )面。

### 二、按要求做题。(15分)


1. 圈一圈, 涂一涂。



- (1) 笑笑的帽子在( )的右边, 把它圈起来。
- (2) 淘气的帽子在( )的左边, 把它涂上红色。
- (3) 给右数第3顶帽子涂上黄色。

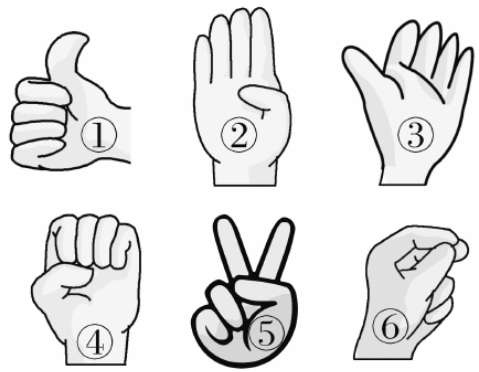
2. 找一找, 画一画。

- (1) 王红的左边是戴帽子的男孩, 在王红的下面画一个“△”。
- (2) 李涛右边的女孩没有小辫, 在李涛的下面画一个“○”。





三、动动脑筋。(12分)



在左图中


\_\_\_\_\_号是左手,

\_\_\_\_\_号是右手。

四、标一标。(12分)

猫在树的左边,羊在树的右边,松鼠在树的上面,狗在树的下面。

请你用“左”“右”“上”“下”把树下方的动物标一标。

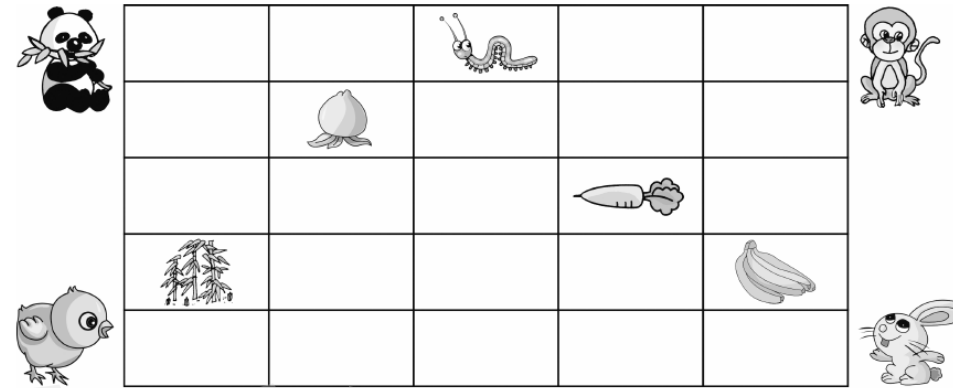


六、我是小小画家。(9分)

1. 最下边的一行涂上红色。
2. 红色上面分别涂黄色和蓝色。
3. 黄色在蓝色的下面。




七、动动脑筋。(17分)



1. 熊猫要吃到 需先向( )走( )格,再向( )走( )格。(3分)
2. 兔子要吃到 需先向( )走( )格,然后向( )走( )格。(3分)
3. 小鸟要吃到 需先向( )走( )格,然后向( )走( )格。(3分)  
还可以怎样走?(3分) \_\_\_\_\_
4. 猴子要吃到 ,应该怎么走?(5分)  
\_\_\_\_\_

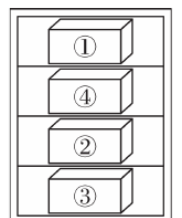
五、你能帮小动物找到家吗?(连一连)(12分)



八、我是小小侦探。(4分)

欢欢把手表放在了盒子里,但她忘记了是哪个盒子,只记得这个盒子在①号盒子的下面,但不是②号盒子,也不是最下面的盒子。你知道手表在哪个盒子里吗?填一填。

1. ①号盒子的下面有( )号盒子。
2. 最下面的是( )号盒子。
3. 手表在( )号盒子里。



# 第三单元测试卷


一本好卷


时间：60分钟 满分：100分

题号	一	二	三	四	五	六	七	八	九	总分	评卷人
得分											

## 一、基础达标巧填空。(18分)


1. 它们各有几个, 看图写数。(3分)








2. 它们的组成我知道。(4分)



3. 请把下面的数排排队。(6分)

2、1、3、0、5、4

 >  >  >  >  > 

4. 我会比它们的多少。(1分)



比 多( )个。

5. 按顺序填数。(4分)

<input type="text"/>	1	<input type="text"/>	3	<input type="text"/>	<input type="text"/>
----------------------	---	----------------------	---	----------------------	----------------------

## 二、按要求涂上你喜欢的颜色。(8分)

1. 从左数, 涂第2个。

2. 从左数, 涂第3个。

3. 从右数, 涂第4个。

4. 从右数, 涂第2个。

## 三、在○里填上“+”或“-”。(16分)

4 ○ 1 = 5      4 ○ 2 = 2      3 ○ 3 = 0      0 ○ 3 = 3

1 ○ 2 = 3      5 ○ 4 = 1      3 ○ 2 = 5      4 ○ 1 = 5

## 四、轻松比较, 准确选择。(正确的在○里画“√”)(9分)

1.

①  多 ○      ② 多 ○      ③  和 同样多 ○

2.  4  , 按顺序填数,  里分别填几?

① 2 和 3 ○      ② 3 和 4 ○      ③ 3 和 5 ○



3. 和“3+2”得数相同的是:



- ①  $3+1$  ○      ②  $2+3$  ○      ③  $4+0$  ○



五、基础训练我会算。(24分)



- |        |        |        |        |
|--------|--------|--------|--------|
| $1+4=$ | $3+0=$ | $5-2=$ | $2+3=$ |
| $4-2=$ | $2-2=$ | $3-1=$ | $3+1=$ |
| $1+2=$ | $4+0=$ | $0+0=$ | $2+2=$ |
| $5-4=$ | $1+1=$ | $4-3=$ | $4+1=$ |
| $4-4=$ | $2+1=$ | $3-1=$ | $2+0=$ |
| $2-1=$ | $0+5=$ | $5-3=$ | $3+2=$ |

六、生活中的数学。(16分)


1.    $1 \bigcirc \square = \square$





2.    $5 \bigcirc \square = \square$

3.    $2 \bigcirc \square = \square$

4.    $\square \bigcirc \square = \square$   
5支

七、火眼金睛。(2分)

哪几张图中的  只数同样多? 在○里画“√”。

① 	② 	③ 	④ 
○	○	○	○

八、小兔子吃胡萝卜。(3分)



兔妈妈给了小白兔和小黑兔同样多的胡萝卜。它们吃了一些(图中是吃剩下的),谁吃得多呢? 在○里画“√”。

			
○		○	

九、用自己的方式画出下面算式的意思。(4分)

$2+3=$

$5-2=$





# 月考巩固卷(一)


一本好卷

时间: 60分钟 满分: 100分


数学 · RJ · 一年级上册

题号	一	二	三	四	五	六	七	八	九	十	十一	总分	评卷人
得分													

## 一、看图写数。(4分)











## 二、连一连。(4分)











## 三、看图填一填。(4分)



- ( ) 游在最前面。
- 游在第三的是( ), 她的后面还有( )个人。
- 一共有( )人在游泳。

## 四、比一比。(18分)



1. 熊猫比羊少\_\_\_\_\_只。

羊比 giraffe 多\_\_\_\_\_只。

熊猫比 giraffe 多\_\_\_\_\_只。

熊猫和 giraffe 一共\_\_\_\_\_只。

## 2. 在正确答案下面的□里画“√”。(14分)

(1) 比4小的数有:  $\overset{4}{\square}$   $\overset{5}{\square}$   $\overset{0}{\square}$

(2) 比5小但比2大的数有:  $\overset{1}{\square}$   $\overset{3}{\square}$   $\overset{4}{\square}$   $\overset{5}{\square}$   $\overset{0}{\square}$

(3) 比3大的数有:  $\overset{0}{\square}$   $\overset{1}{\square}$   $\overset{2}{\square}$   $\overset{4}{\square}$   $\overset{3}{\square}$   $\overset{5}{\square}$

## 五、□里最大可填几。(8分)

- $5 > \square$        $3 > \square$        $1 > \square$        $4 > \square$   
 $2 > \square$        $3 + \square < 5$        $2 + \square < 4$        $4 + \square < 5$


## 六、填空我最棒。(16分)



从左边数起, 第5个图形是( )。

图中共有( )个 , ( )个 , ( )个 。





- (1) 从左边数起, 商店是第( )家。  
 (2) 从右边数起, 鞋店是第( )家。  
 (3) 菜市场在( )的左边, 在( )的右边。

九、连连看。(8分)

$2+3$	4	$5-2$	$4-4$
$4-1$	5	$0+0$	$0+3$
$5-3$	2	$4-2$	$1+4$
$1+3$	3	$2+3$	$5-3$

七、看算式, 先用○画一画, 再填得数。(12分)

$2+1=\square$	$1+1=\square$	$1+3=\square$
_____	_____	_____
$2+3=\square$	$4+1=\square$	$2+2=\square$
_____	_____	_____
$3-2=\square$	$4-1=\square$	$2-2=\square$
_____	_____	_____

八、看图写算式。(8分)

1.  $4 \bigcirc \square = \square$

2.  $3 \bigcirc \square = \square$

3.  $5 \bigcirc \square = \square$

4.  $4 \bigcirc \square = \square$

十、我能根据图片列算式并计算。(8分)

1.  $\square \bigcirc \square = \square$   
 $\square \bigcirc \square = \square$   
 $\square \bigcirc \square = \square$   
 $\square \bigcirc \square = \square$

2.  $\square \bigcirc \square = \square$   
 $\square \bigcirc \square = \square$   
 $\square \bigcirc \square = \square$   
 $\square \bigcirc \square = \square$

十一、从小到大排排队。(10分)

$3+1$     $5-2$     $3+2$     $5-4$     $2+0$

$<$   $<$   $<$   $<$

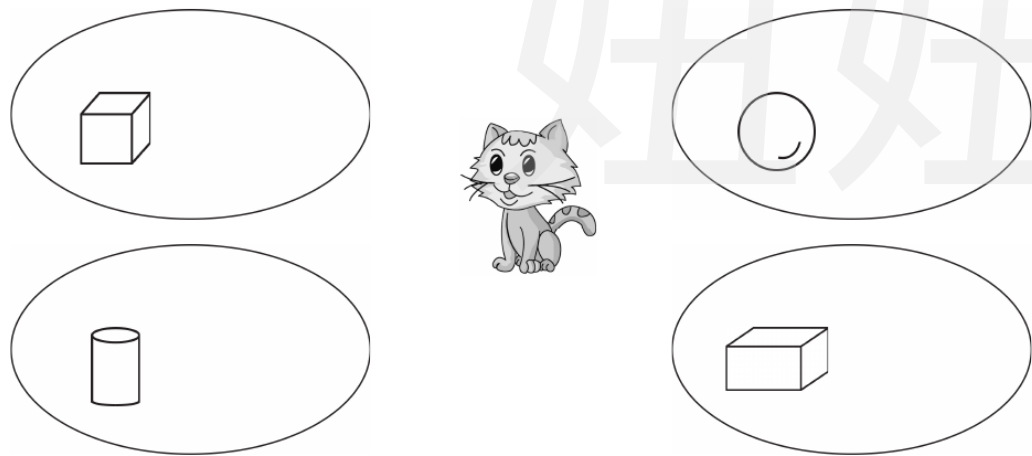
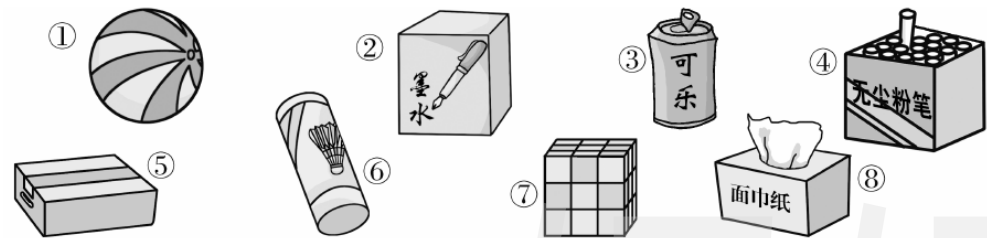
# 第四单元测试卷

一本好卷

时间：60分钟 满分：100分

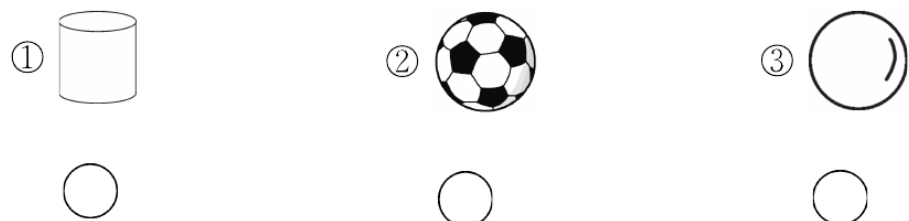
题号	一	二	三	四	五	六	七	总分	评卷人
得分									

## 一、帮小猫将各种图形分开放好，并把编号写在圆圈里。(16分)

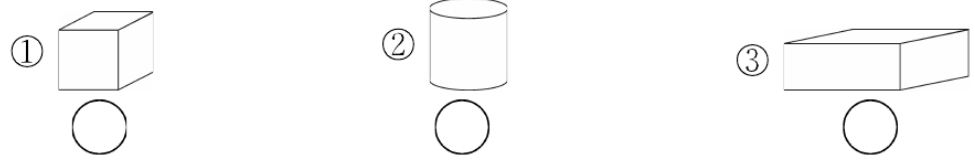


## 二、轻松比较，准确选择。(正确的在○里面画“√”)(15分)

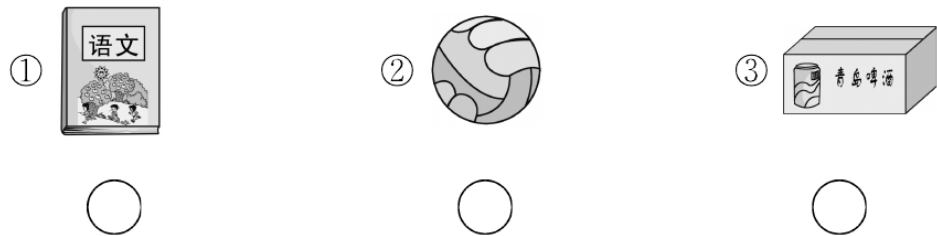
1. 下列图形中不是球体的是：



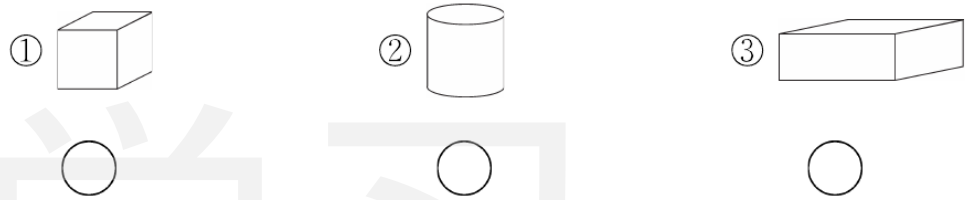
2. 下面含有○的图形是：



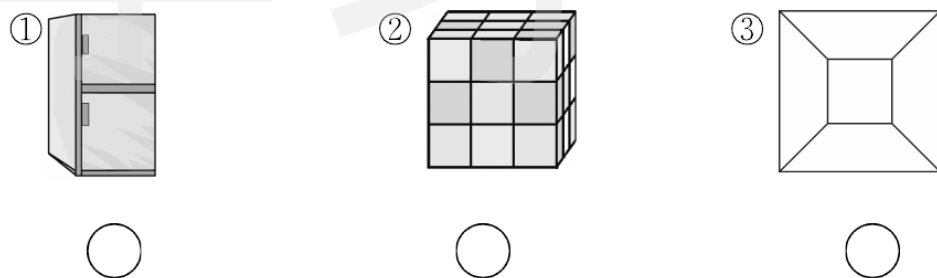
3. 下面的图形不是长方体的是：



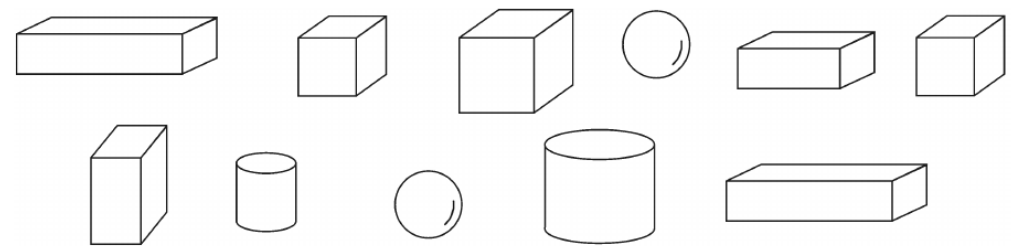
4. 含有□的图形是：



5. 下面物体的形状是正方体的是：



## 三、你认识下面的图形吗？(12分)



上面图中有( )个 ；有( )个 ；有( )个 ；有( )个 。

密 封 线 内 不 得 答 题


学 号

姓 名

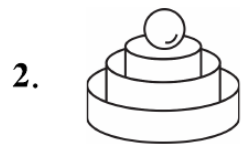
班 级

学 校

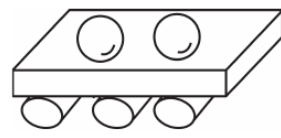
四、数一数，填一填。(22分)



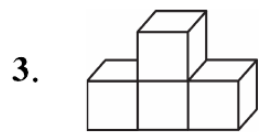
○有( )个  
 □有( )个  
 长方体有( )个  
 圆柱有( )个



( )个圆柱



( )个球

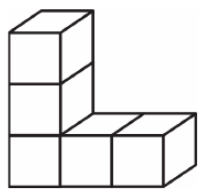


( )个

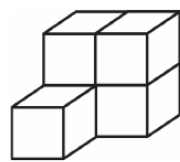


( )根

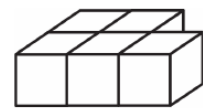
4. 数一数，下面各由几个小正方体组成?(6分)



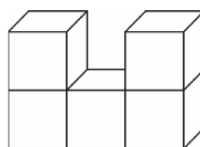
( )个



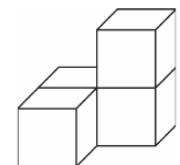
( )个



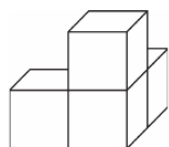
( )个



( )个



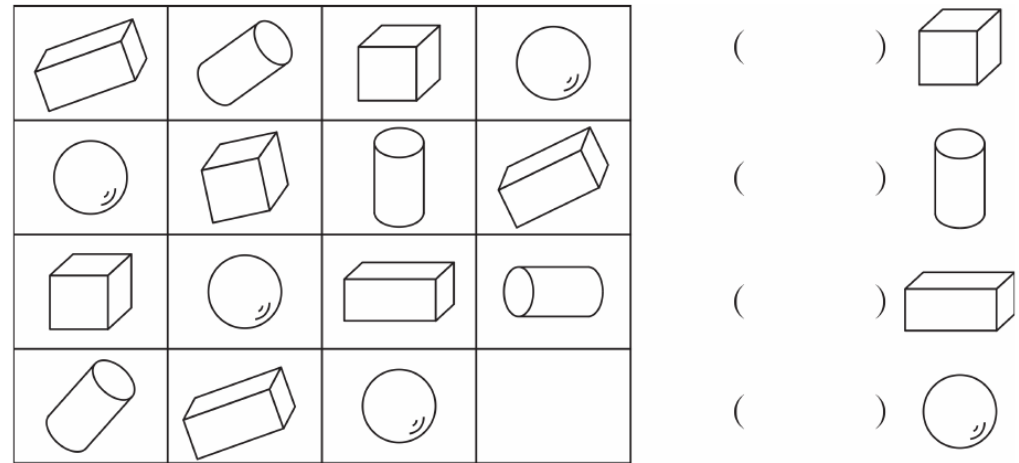
( )个



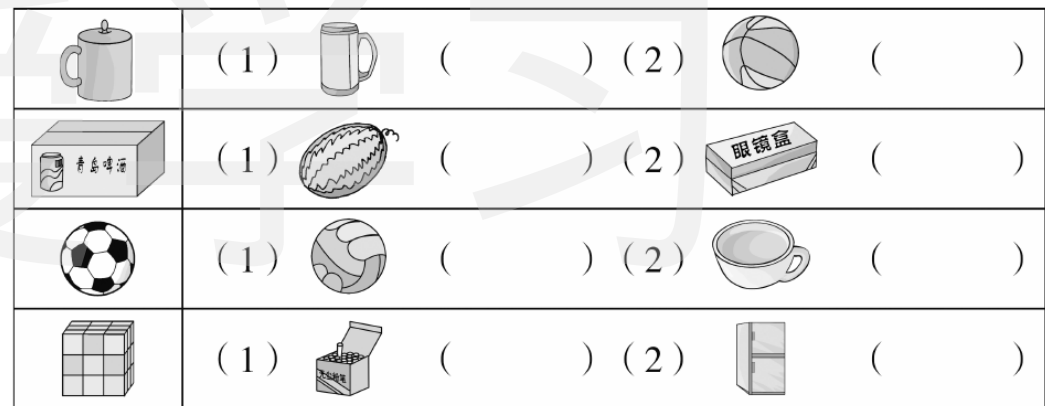
( )个

五、小兔乐乐的玩具柜里有规律地放了一些积木，你能猜出柜里的积木少了哪一块吗? 请你在图形左边的括号里画“√”。(10分)

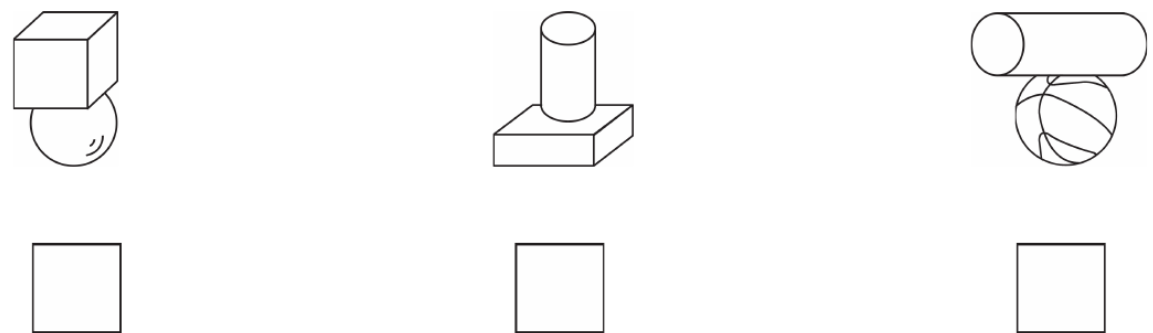
吗? 请你在图形左边的括号里画“√”。(10分)



六、右边的两样物品中，哪一个同左边形状相同? 在括号里打“√”。(16分)



七、哪组能站稳? 在能站稳的那组下面打“√”。(9分)



# 第五单元测试卷

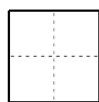

一本好卷

时间：60分钟 满分：100分

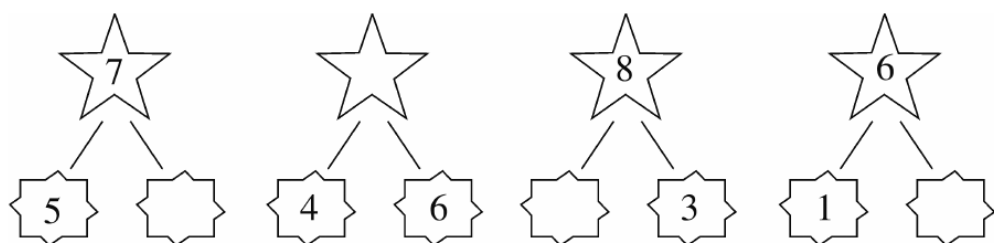
题号	一	二	三	四	五	六	七	八	总分	评卷人
得分										

## 一、基础达标巧填空。(18分)


1. 我会数, 看图写数。(6分)



2. 它们的组成我知道。(12分)



## 二、谁拿的卡片里的数大?(在○里填上“>”“<”或“=”)(8分)



## 三、轻松比较, 准确选择。(在正确答案下面的☀里画“√”)(12分)

1. 与“2+6”得数相同的是:

- ① 1+5                      ② 6+2                      ③ 3+6
- 

2.  $6 + \square = 10$ ,  $\square$ 里应填:

- ① 2                              ② 3                              ③ 4
- 

3. 下面比8大, 比10小的数是:

- ① 7                              ② 8                              ③ 9
- 





4. 根据下图, 列式正确的是:




- 
- ①  $8 - 3 = 5$                       ②  $8 - 2 = 6$                       ③  $5 - 3 = 2$
- 



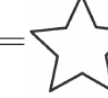
## 四、小星星亮晶晶。(18分)

$2+5 = \star$                        $6+4 = \star$                        $3+5 = \star$                        $9-3 = \star$   
 $10-5 = \star$                        $2+8 = \star$                        $1+9 = \star$                        $7-6 = \star$




$4+3=$      
  $8-5=$      
  $5+4=$      
  $8-2=$  


$3+2+4=$      
  $3+7-1=$      
  $7-5-2=$  

$9-3+4=$      
  $8-2-6=$      
  $10-5+4=$  


五、生活中的数学,看图填算式。(18分)



$\square + \square = \square$  (只)







$\square - \square = \square$  (只)




$\square + \square = \square$  (朵)

六、  会落到哪朵花上?(8分)

6  1  2=7

8  2  5=5


3  5  2=10

9  4  3=2

七、几个小朋友排队去参观科技馆。(10分)




$\square \bigcirc \square \bigcirc \square = \square$  (个)



原来有( )个球,又送来了( )个球,现在一共有( )个球。

$\square \bigcirc \square = \square$  (个)

八、想一想,填一填。(8分)



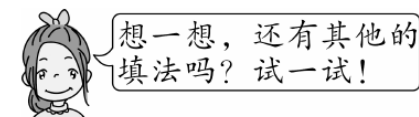
小小

丫丫

小小原来有( )辆,丫丫原来有( )辆。

2. 请你将 3、9、1、5 这四个数填入下面的方框里,并组成两个得数相等的算式。

$\square + \square = \square - \square$



$\square + \square = \square - \square$

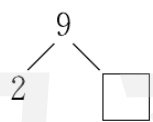
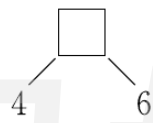
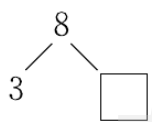
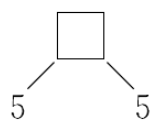
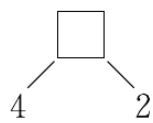
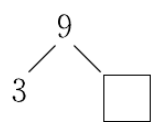
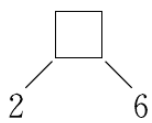
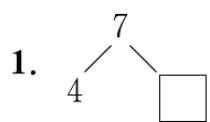
# 期中检测卷

一本好卷

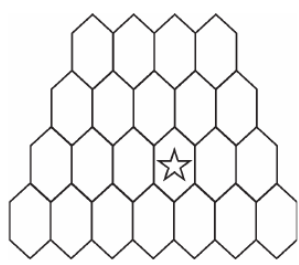
时间：60分钟 满分：100分

题号	一	二	三	四	总分	评卷人
得分						

## 一、填一填。(34分)



2.



从下往上数,第3层有( )个 ,第( )层有4个 。  
 ☆ 在第( )层,从左往右数,在第( )个 中。

3. 仔细观察下面一组数,按要求填空。(4分)

7 5 8 1 6 3 9 4 10 2

一共有( )个数,最小的数是( ),最大的数是( )。其中哪两个数相加,和正好是10? 把它们填在下面括号里。

( ) + ( ) = 10                      ( ) + ( ) = 10

( ) + ( ) = 10                      ( ) + ( ) = 10

把上面的那组数从小到大排一排。

\_\_\_\_\_



4. 从左起,第( )个是 ,第( )个和第( )个是 ,把 涂上你喜欢的颜色。

5. 在  里填数,使两边的得数相等。(4分)

$6+3$                        $4+ \square$

$8-5$                        $\square$

$\square+7$                        $10-3$

$\square+\square$                        $\square+\square$

6. 写出6道得数是8的算式。(6分)

$\square \bigcirc \square = 8$                        $\square \bigcirc \square = 8$                        $\square \bigcirc \square = 8$

$\square \bigcirc \square = 8$                        $\square \bigcirc \square = 8$                        $\square \bigcirc \square = 8$

7. 在  $\bigcirc$  里填上“+”或“-”。(6分)

$2 \bigcirc 4 = 6$                        $7 \bigcirc 2 = 5$                        $5 \bigcirc 4 = 10 \bigcirc 1$

$6 \bigcirc 0 = 6$                        $9 \bigcirc 3 = 6$                        $10 \bigcirc 5 = 2 \bigcirc 3$

8. 在  $\bigcirc$  里填上“>”“<”或“=”。(6分)

$4+6 \bigcirc 9$                        $1+6 \bigcirc 9-3$                        $2+4 \bigcirc 5+1$

$8-4 \bigcirc 4$                        $10 \bigcirc 6+3$                        $9-4 \bigcirc 6+1$

密

封

学

线

内

姓

不

班

得

答

题

校

二、计算大比拼。(29分)

1.  $3+2=$        $4+3=$        $9-2=$        $1+4=$

$8-5=$        $10-3=$        $8-7=$        $5+3=$

$2+5=$        $4+5=$        $10-8=$        $4-4=$

$3+7=$        $6+3=$        $8+1=$        $0+9=$


$9-6=$        $7-6=$        $8-4=$        $10-2=$

2.  $3+2+4=$        $5-2+6=$        $8-2-6=$

$8-2-5=$        $3+4-2=$        $4+2+3=$

$5+3-7=$        $9-6+2=$        $7-2+4=$

三、看图写算式。(1、2 每题 4 分,其余每题 3 分,共 20 分)




$4+\square=\square$

$\square\bigcirc\square=\square$

$6-\square=\square$

$\square\bigcirc\square=\square$

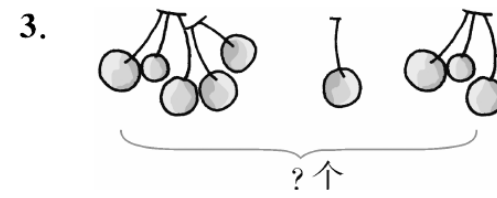


$\square\bigcirc\square=\square$

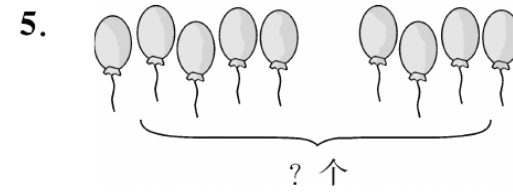
$\square\bigcirc\square=\square$

$\square\bigcirc\square=\square$


$\square\bigcirc\square=\square$



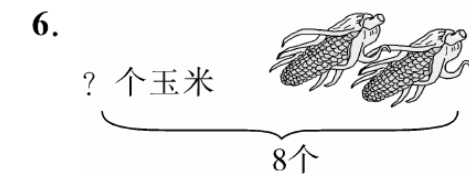
$5+\square+\square=\square$ (个)



$\square\bigcirc\square=\square$ (个)



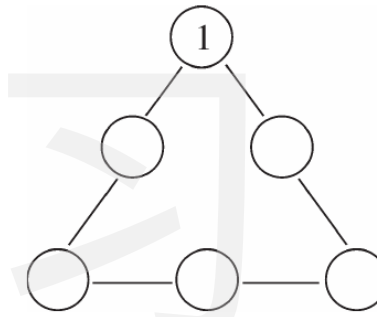
$8-3+\square=\square$




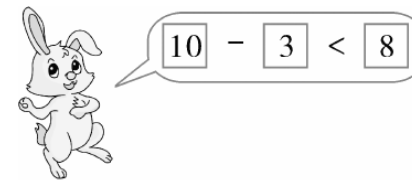
$\square\bigcirc\square=\square$ (个)

四、想一想,填一填。(17分)

1. 在○里填上 2、3、4、5、6,使每条线上的三个数相加都为 10。(5分)



2. 聪明的小朋友,你能帮助小兔和小狗解决下面的问题吗?(选择合适的数字填入方框,不能与例子重复)(12分)



$\square$  0  $\square$  3  $\square$  4  $\square$  6  $\square$  8

$\square$  1  $\square$  2  $\square$  5  $\square$  7  $\square$  10

$\square-\square<8$

$\square-\square<8$

$\square-\square<8$

$\square-\square>6$

$\square-\square>6$

$\square-\square>6$

# 第六单元测试卷

一本好卷

时间：60分钟 满分：100分

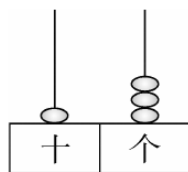
题号	一	二	三	四	五	六	七	八	总分	评卷人
得分										

## 一、基础达标巧填空。(24分)

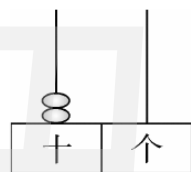
1. 里的数我会填。

12		14		17	18		
----	--	----	--	----	----	--	--

2.




( )个十和( )个一



( )个十,是( )

3. 看图写算式。(6分)



+  =

+  =

-  =

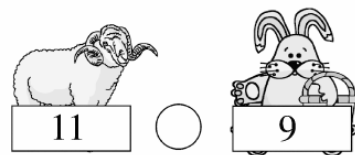

4. 18 里面有( )个十和( )个一。

5. 一个数是由 1 个十和 6 个一组成的,这个数是( )。

6. 这些数我会写。

十七	二十	十一	十六	十四	十九
<input type="text"/>	<input type="text"/>	<input type="text"/>	<input type="text"/>	<input type="text"/>	<input type="text"/>

## 二、谁拿的卡片里的数大?(在○里填上“>”、“<”或“=”)(4分)




## 三、轻松比较,准确选择。(在正确答案后面的○里画“√”)(6分)


1.  15  与 15 相邻的两个数是:

- ① 13 和 14     ② 14 和 16     ③ 16 和 17

2. 谁拿的算式和 10+7 得数相等?



3. 谁拿的数最接近 20?



## 四、看谁得的红花多。(21分)

10+5=

14-10=

3+10=



$7+0=\text{☁}$

$12-2=\text{☁}$

$19-9=\text{☁}$

$1+10=\text{☁}$

$2+7=\text{☁}$

$6+4=\text{☁}$

$8+2=\text{☁}$

$9-3=\text{☁}$

$16-10=\text{☁}$

$19-10=\text{☁}$

$1+2+5=\text{☁}$

$3+4+1=\text{☁}$

$4+3-2=\text{☁}$

$18-8+3=\text{☁}$


$12-10-1=\text{☁}$

$10+7+1=\text{☁}$


$10-6+5=\text{☁}$

$12-2-6=\text{☁}$

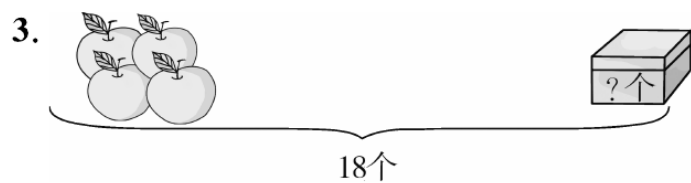
### 五、生活中的数学。(24分)



$\square \bigcirc \square = \square \text{ (个)}$



$15 \bigcirc \square = \square \text{ (朵)}$



$\square \bigcirc \square = \square \text{ (个)}$

4.



我们班原来有13名男生。

这学期又转来2名男生。



现在有多少名男生?

$\square \bigcirc \square = \square \text{ (名)}$

### 六、仔细观察巧填空。(9分)

1. 下面等式中的三个□里的数都相同,这个数是( )。

$9 - \square - \square = \square$

2. 下面□中最大能填几?

$6 - \square > 4$

$10 > 5 + \square$

$7 + \square < 10$

$\square - 3 < 6$

$2 + \square < 8$

$9 - \square > 1$

### 七、数字排排队。(5分)

12、9、8、10、14、19、6、20、5、2

$\square > \square > \square > \square > \square > \square > \square > \square > \square > \square$

### 八、我帮小动物排排队。(7分)



排在第( )位。一共有( )只小动物。

$\square \bigcirc \square = \square \text{ (只)}$

# 第七单元测试卷

一本好卷

时间：60分钟 满分：100分

题号	一	二	三	四	五	六	七	八	九	十	总分	评卷人
得分												

## 一、钟面上的时刻我会写。(12分)



\_\_\_\_\_

⋮

\_\_\_\_\_

⋮

\_\_\_\_\_

⋮

## 二、下面钟表的时刻是多少？连一连。(12分)



- 7时刚过    10时刚过    快10时了    2时    4时    12时



## 三、我来写一写。(12分)




过3小时是\_\_\_\_\_。 过2小时是\_\_\_\_\_。 1小时前是\_\_\_\_\_。

## 四、谁的说法正确呢？在○里画“√”。(12分)



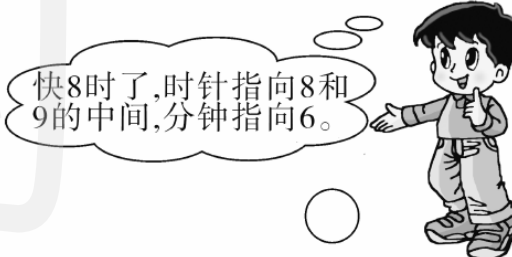
12时, 时针和分针都指向12。



6时, 时针和分针都指向6。



12时刚过, 时针指向12, 分针指向12和1之间。




快8时了, 时针指向8和9的中间, 分针指向6。

## 五、轻松比较, 准确选择。(在正确答案下面的○里画“√”)(8分)

1.




你知道下面哪个钟是坏的吗?



①




②



③

八、丽丽早上 8:00 上课,中午 12:00 放学,中间经过了多少个小时?(5分)



上课

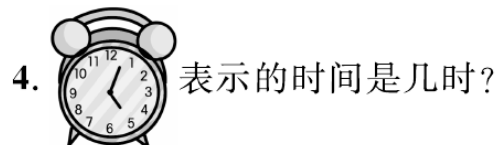
放学



- ① 2 时       ② 3 时       ③ 4 时




- ① 6 时       ② 12 时       ③ 12 时半



- ① 正好是 5 时       ② 快五时了       ③ 5 时过一点儿

六、根据时刻画出时针和分针。(12分)



9 时

7 时半

12 时半

11 时


七、我来画。(6分)



根据前面钟表上的时间,请接着画出后面钟表上的时间。




九、连一连。(9分)



十、实践应用。(12分)

为自己设计星期天一天的作息时间表。



我 8:00 起床

\_\_\_\_\_





# 月考巩固卷(二)


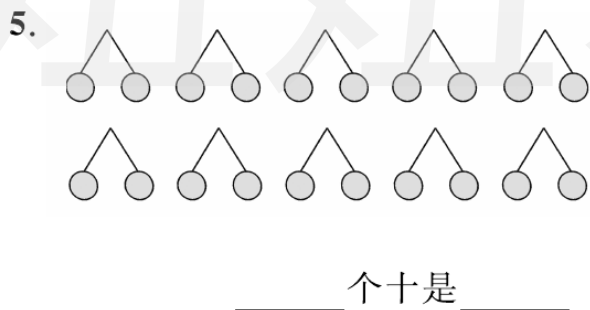
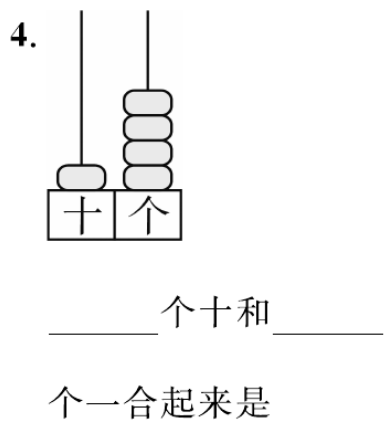
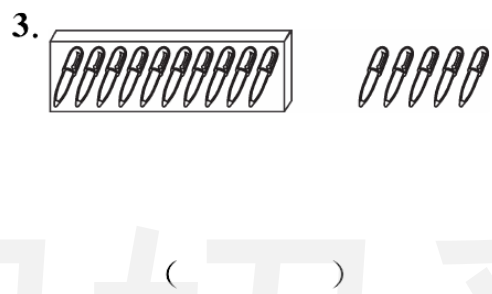

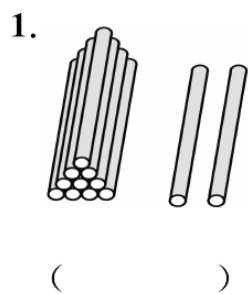
一本好卷

时间: 60分钟 满分: 100分

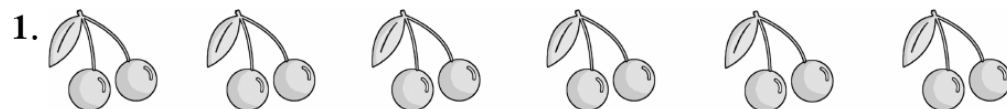
数学 · RJ · 一年级上册

题号	一	二	三	四	五	六	七	八	总分	评卷人
得分										

## 一、看一看,写一写。(18分)



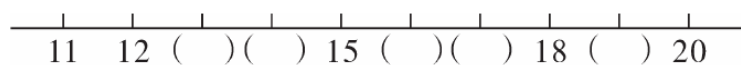
## 二、开心填空。(20分)



两个两个地数,有( )组,一共有( )个。



五个五个地数,有( )组,一共有( )个。



3. 1个十和5个一合起来是( )。

7个一和1个十合起来是( )。

2个十是( )。

14里面有( )个十和( )个一。

18里面有( )个一和( )个十。

10里面有( )个一,20里面有( )个十。

4. 13前面一个数是( ),后面一个数是( )。

5. 比18小1的数是( ),( )比19大1。

6. 比13大而且比17小的数有:( )。

7. 和19相邻的两个数是( )和( )。

8. 把下列各数从小到大排列。(2分)

3 18 20 11 9 19 10

9. 钟面上,长针是( )针,短针是( )针,钟面上的数字是从( )到( )。

10. 10:00时,时针指向( ),分针指向( )。



三、在○里填上“>”“<”或“=”。(9分)

$14 \bigcirc 15$        $12 \bigcirc 20$        $20 \bigcirc 10$   
 $13-3 \bigcirc 10$        $17 \bigcirc 1$  个十和  $6$  个一       $20 \bigcirc 2$  个十  
 $15+2 \bigcirc 18$        $15-10 \bigcirc 5$        $18-4 \bigcirc 16$

四、在○里填上“+”或“-”。(9分)

$14 \bigcirc 3 = 11$        $7 \bigcirc 10 = 17$        $11 \bigcirc 2 = 13$   
 $15 \bigcirc 4 = 11$        $14 \bigcirc 4 = 10$        $13 \bigcirc 10 = 3$   
 $19 \bigcirc 3 = 16$        $5 \bigcirc 13 = 18$        $10 \bigcirc 9 = 19$

五、将小明一天的活动与时刻连起来。(8分)



六、看图写算式。(15分)

1.  $10 + 8 = \square$        $18 - \square = \square$   
 $\square + \square = \square$        $\square - \square = \square$

2. ? 支  
 $\square \bigcirc \square = \square$  (支)

七、想一想,做一做。(16分)

1. 吃了 2 块, 还剩几块?  
 $\square \bigcirc \square = \square$  (块)

2. 又跑来了 6 只, 现在有几只?  
 $\square \bigcirc \square = \square$  (只)

3. 小红画 10 个 , 小华画 9 个 , 两个人共画多少个 ?  
 $\square \bigcirc \square = \square$  (个)

4. 小玉要折 15 个 , 已经折了 5 个 , 还要折几个 ?  
 $\square \bigcirc \square = \square$  (个)

八、回答问题。(5分)

一天中午,小山羊出去散步,正好遇到小猴,小山羊问小猴:“再过 20 小时,月亮该升起来了吧?”小猴笑着摇了摇头。你知道为什么吗?

# 第八单元测试卷

一本好卷

时间：60分钟 满分：100分

题号	一	二	三	四	五	六	七	八	九	十	总分	评卷人
得分												

## 一、基础达标巧填空。(11分)

1. ( )里的数我知道。

$3 + ( ) = 10$       $7 + ( ) = 10$       $( ) + 4 = 10$

$5 + ( ) = 10$       $9 + ( ) = 10$       $( ) + 8 = 10$

2. 15减9的差是( )。

3. 一个加数是4,另一个加数是9,和是( )。









4. 在下面选出合适的数组成算式。

2、6、9、7、8、15

把你想到的式子写在下面。(写出三个)

\_\_\_\_\_

## 二、谁拿的卡片里的数大?(在○里填上“>”“<”或“=”)(8分)

 $9+6$ ○	 $16$	 $8+7$ ○	 $7+9$
 $4+9$ ○	 $8+5$	 $8+9$ ○	 $14$

## 三、我知道○里填“+”还是填“-”。(16分)

$8 \bigcirc 8 = 16$       $9 \bigcirc 9 = 0$       $9 \bigcirc 3 = 12$       $7 \bigcirc 5 = 12$

$10 \bigcirc 6 = 4$       $12 \bigcirc 4 = 16$       $10 \bigcirc 1 = 11$       $10 \bigcirc 3 = 7$

## 四、请你帮 找 和 。(10分)




## 五、轻松比较,准确选择。(在正确答案后的○里画“√”)(8分)

1. 与  $7+5$  得数相同的算式是:

①  $7+6$  ○     ②  $5+8$  ○     ③  $8+4$  ○

2. 两个加数都是9,和是:

① 10 ○     ② 18 ○     ③ 19 ○



根据上图,正确列式是:

①  $7+3=10$  ○     ②  $7-3=4$  ○     ③  $4-3=1$  ○

4.  $9 + \square = 16$ ,  $\square$ 里应填几?

① 6

② 7

③ 8

六、小星星亮晶晶。(15分)

$8 + 9 =$

$3 + 8 =$

$9 + 1 =$

$2 + 9 =$

$7 + 9 =$

$10 - 6 =$

$6 + 5 =$

$8 + 4 =$

$4 + 9 =$

$5 + 7 =$

$3 + 9 =$

$9 + 6 =$

$5 + 8 =$

$10 + 2 =$

$7 + 7 =$

七、生活中的数学,看图填算式。(9分)

1. ? 只

$\square \bigcirc \square = \square$  (只)

2. ? 个

14个

$\square \bigcirc \square = \square$  (个)

3.



一共有多少人放风筝?

$\square \bigcirc \square = \square$  (人)

八、巧计算,下面每种图形代表一个数字,它们各代表什么数?(9分)

+ = 18

$\square + \triangle = 15$

- = 0

$\square - \triangle = 1$

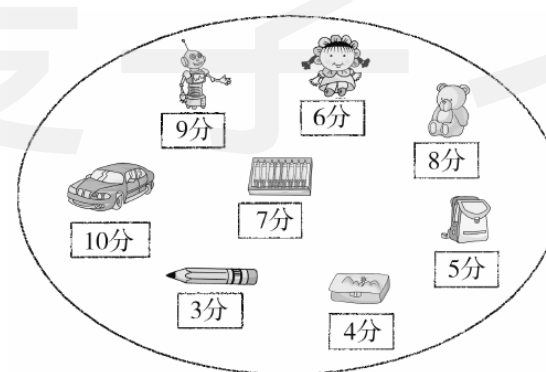
= ( )

$\square =$  ( )

$\triangle =$  ( )

九、玩套(tào)圈。(10分)

小明和小强一起玩套圈游戏,每人套两个。小明得了11分,小强想得13分,他可以套哪两个?



有几种不同的方法,写出来。

十、填表。(4分)

借出	8个	7根	5个	7个
还剩	7个	9根	6个	8个
原有	( )个	( )根	( )个	( )个



# 专题训练卷(一)


一本好卷

时间: 60分钟 满分: 100分

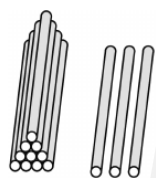
题号	一	二	三	四	五	六	七	总分	评卷人
得分									

## 一、基础达标巧填空。(24分)

1. 数一数, 写一写。



( )



( )



( )

2. 里的数我知道。

<input type="text"/>	<input type="text"/>	<input type="text"/>	15	<input type="text"/>	<input type="text"/>	18	<input type="text"/>	<input type="text"/>
----------------------	----------------------	----------------------	----	----------------------	----------------------	----	----------------------	----------------------

<input type="text"/>	<input type="text"/>	<input type="text"/>	10	<input type="text"/>	<input type="text"/>	13	<input type="text"/>	<input type="text"/>
----------------------	----------------------	----------------------	----	----------------------	----------------------	----	----------------------	----------------------

3. 1个十和6个一组成的数是( )。

4. 19里面有( )个十和( )个一。

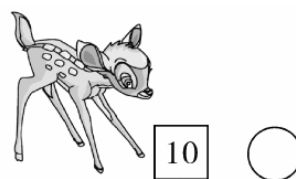
5.  3  0  12  10  19  20  11  8  16

数一数, 一共有( )张数字卡片。

其中最大的数是( ), 最小的数是( )。

左起第5张卡片上的数是( )。


## 二、谁拿的卡片里的数大?(在○里填上“>”“<”或“=”)(4分)




○



○




○



○



○



○



○




○

## 三、轻松比较, 准确选择。(在正确答案后的○里画☺)(12分)


1. 谁的数比19多1?



○




○



○


2. 它们谁拿的数比15小?



○



○



○


3. 一个数, 个位上的数比十位上的数大2, 这个数可能是:



○




○



○


4. 1个十和8个一组成的数是:



○



○




○



5. 与 15 相邻的两个数是：



6. 谁拿的算式得数最大？



四、送 回家。(6分)

8 4 = 4

9 2 = 11

16 10 = 6

7 5 = 12

6 1 = 5

9 8 = 17

五、计算小能手。(28分)


- |        |         |        |        |
|--------|---------|--------|--------|
| 8+3=   | 14-10=  | 19-9=  | 8+0=   |
| 6+7=   | 5+5=    | 2+8=   | 3+9=   |
| 7+4=   | 9+9=    | 8+9=   | 2+7=   |
| 6-0=   | 0+8=    | 7-4=   | 10-5=  |
| 7+9=   | 9+2=    | 4+8=   | 10-1=  |
| 3+4+9= | 13-3-6= | 7-4+8= | 5+5-4= |
| 8+7-5= | 3+7+5=  | 9-5-4= | 3+9+7= |

六、里的数我会填。(15分)

12 = <input type="text"/> + <input type="text"/>	16 = <input type="text"/> + <input type="text"/>	18 = <input type="text"/> + <input type="text"/>
9 + 4 = $\left\{ \begin{array}{l} \square + \square \\ \square + \square \\ \square + \square \end{array} \right.$	5 + 6 = $\left\{ \begin{array}{l} \square + \square \\ \square + \square \\ \square + \square \end{array} \right.$	
7 + 3 = $\left\{ \begin{array}{l} \square + \square \\ \square + \square \\ \square + \square \end{array} \right.$	7 + 7 = $\left\{ \begin{array}{l} \square + \square \\ \square + \square \\ \square + \square \end{array} \right.$	


七、列式计算。(11分)

1. 船舱里有多少人？(5分)



○  =  (人)

2. 猜猜我几岁了。(6分)



○  =  (岁)

# 专题训练卷(二)

一本好卷

时间: 60分钟 满分: 100分

题号	一	二	三	四	五	六	七	总分	评卷人
得分									

## 一、比一比。(6分)

1. 在多的后面画“○”。







2. 在少的后面画“√”。







## 二、看图填空。(26分)



- 一共有( )种水果。
- 从左往右数, 桃子是第( )个, 苹果是第( )个。
- 从右往左数, 菠萝是第( )个, 西瓜是第( )个。
- 把左边的四种水果圈起来, 把右数第4个涂上黄色。

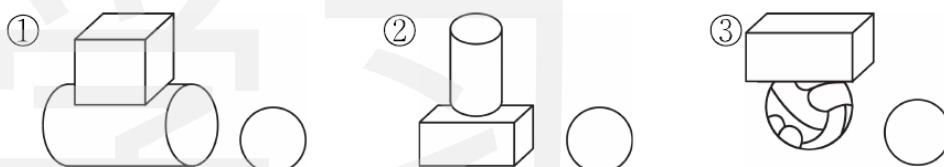


小华 小军 小明 小刚

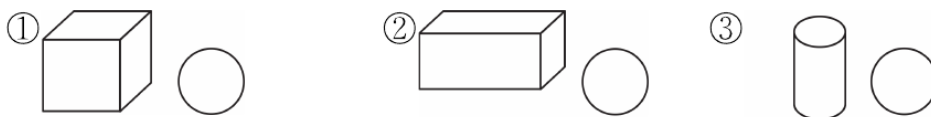
- 一共有( )个小朋友在排队。
- 从前往后, 排在第二的是( ); 排在最后一位的是( )。
- 小明在小军的( )面, 在小刚的( )面。小军后面的小朋友是( )。

## 三、轻松比较, 准确选择。(在正确答案后面的○里画“√”)(12分)

1. 哪组物体能站稳?



2. 哪个图形含有□?

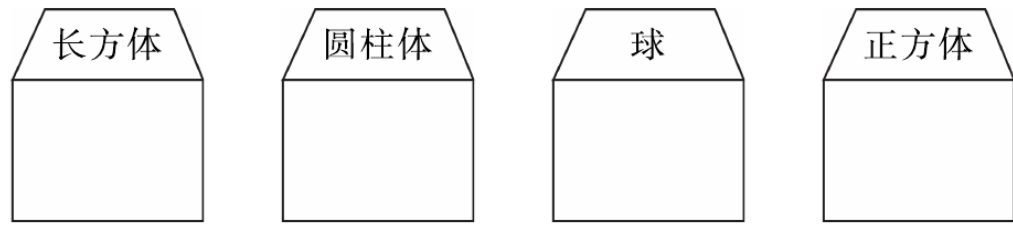
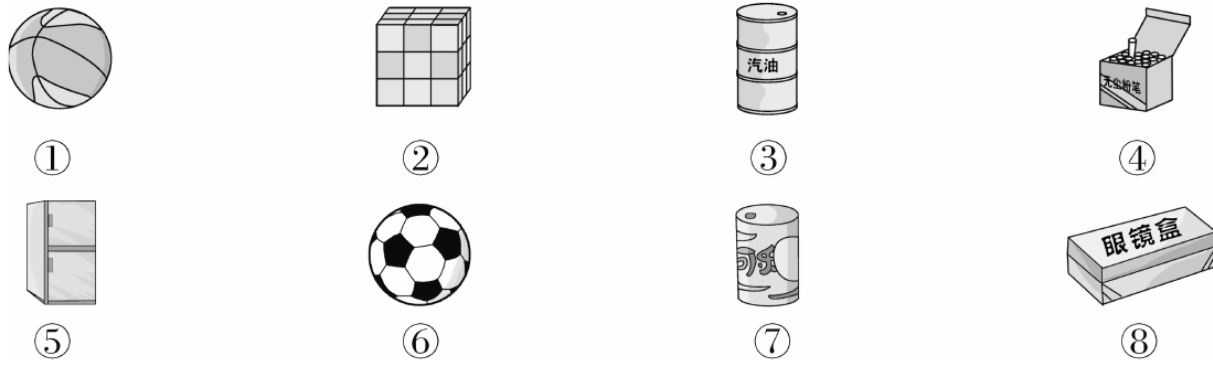


- 5时刚过, 钟面上时针指向哪儿?  
 ① 5 ○  
 ② 4 和 5 之间 ○  
 ③ 5 和 6 之间 ○


4. 再过1小时是8时的钟表是:



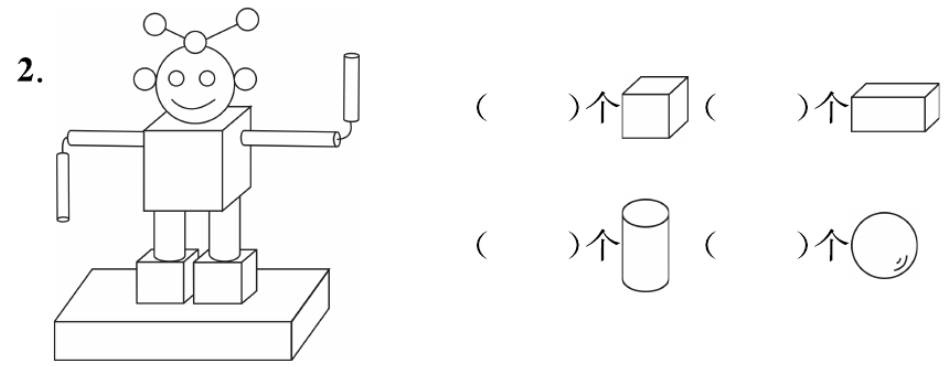
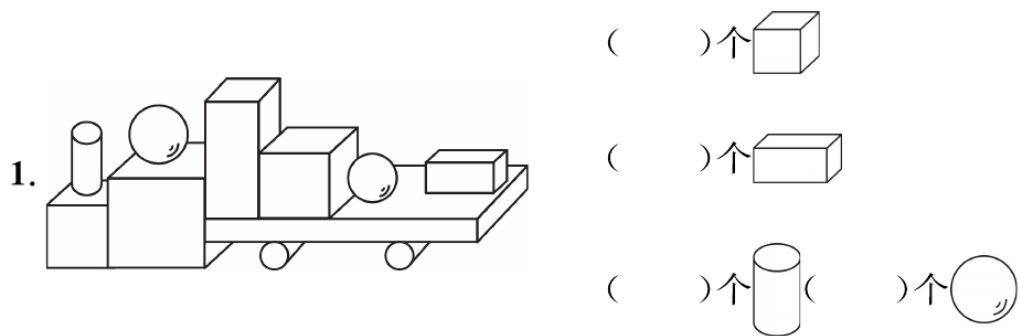
四、选一选。(填序号)(12分)



五、用两种方法表示下列时刻。(12分)



六、数图形。(16分)



七、动手画一画。(16分)

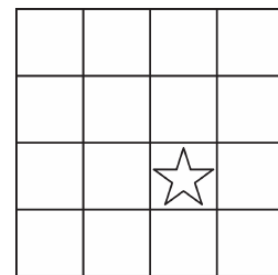
1. 画△和☆一样多。(3分)



2. 画□比○少3个。(3分)



3. 在☆的下面画○,在○的左边画□,在□的上面画两个△,在△的左边画□,在☆的右边画☾。(10分)



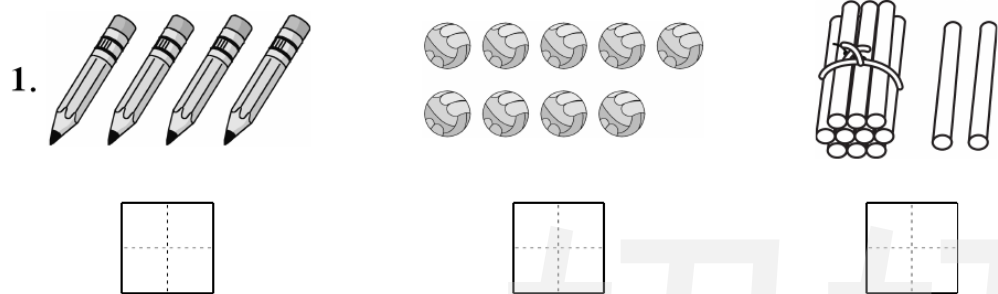
# 期末检测卷(一)

一本好卷


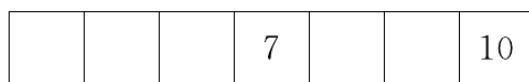

时间: 60分钟 满分: 100分

题号	一	二	三	四	五	六	七	总分	评卷人
得分									

## 一、基础达标我会填。(15分)



2.  里的数我会填。



(1) 一共有( )个苹果。 (2) 把从左数第6个圈起来。



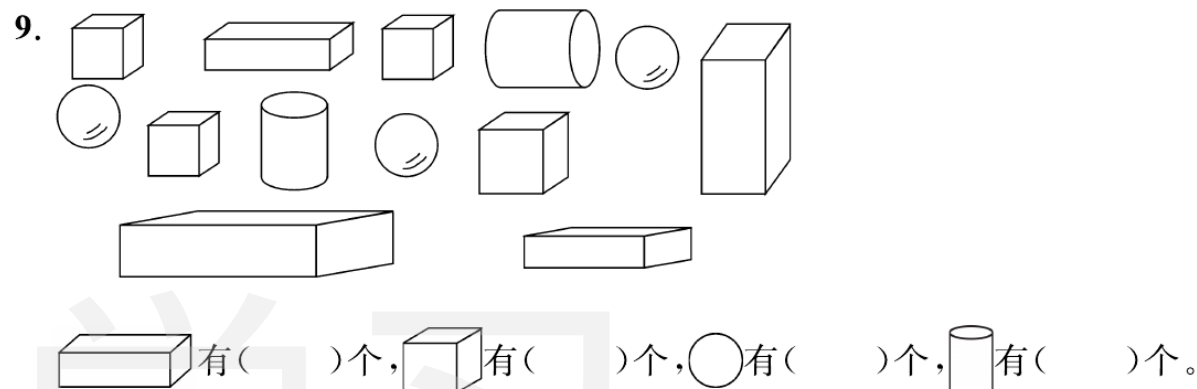

 比  少( )只。

5. 18 里面有( )个十和( )个一。


6. 1 个十和 6 个 1 合起来是( )。

7. 11 前面的相邻数是( ), 后面的相邻数是( )。和 19 相邻的两个数是( )和( )。

8. 写出钟面上的时刻。



## 二、谁拿的卡片里的数大? (在○里填上“>”“<”或“=”) (8分)



## 三、☀ 遮(zhē)住的数是几? 写出来。(18分)

$2 + \text{☀} = 10$	$5 + \text{☀} = 10$	$6 + \text{☀} = 8$
$9 + \text{☀} = 13$	$17 - \text{☀} = 8$	$15 - \text{☀} = 7$
$10 + \text{☀} = 17$	$16 - \text{☀} = 10$	$6 + \text{☀} = 12$



四、基础训练我会算。(20分)

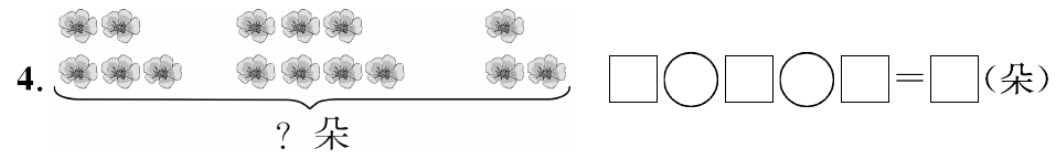


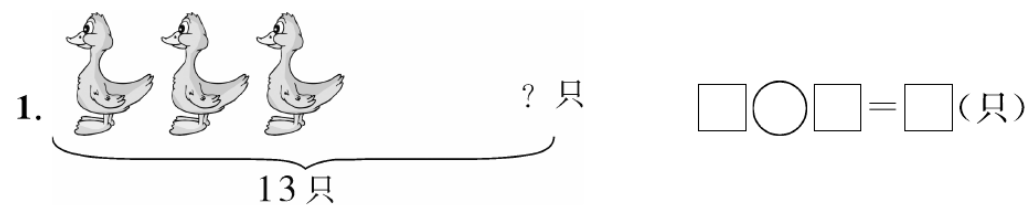
$6+10=$	$0+5=$	$9-6=$	$3+7=$
$8+4=$	$16-6=$	$9+4=$	$15-5=$
$10-7=$	$7+8=$	$10+9=$	$10-0=$
$4+3-2=$	$7+5-2=$	$9-3-3=$	$4+2+2=$
$8+7-5=$	$8+9-7=$	$5+6+4=$	$18-8-3=$

五、动物们开运动会啦! 快去看看。(10分)




- 排在最( )面的是小猪,最( )面的是小牛。
- 从左边数,小兔是第( )个,从右边数,它是第( )个。
- 从右边数,小牛是第( )个,第2个是( )。
- 小兔的前面是( ),后面是( )。
- 小猪的后面有( )只小动物,一共有( )只小动物。

六、看图填算式。(12分)



七、解决问题。(17分)

1. 小红有几本故事书?(5分)



$\square \bigcirc \square = \square$  (本)

2. 两只兔子一共拔了多少个萝卜?(4分)



$\square \bigcirc \square = \square$  (个)

3. 一年级有两个学习小组,一小组得红花8朵,二小组得红花10朵。

(1) 一小组比二小组少得几朵红花?(4分)

$\square \bigcirc \square = \square$  (朵)

(2) 两小组一共得多少朵红花?(4分)

$\square \bigcirc \square = \square$  (朵)

# 期末检测卷(二)

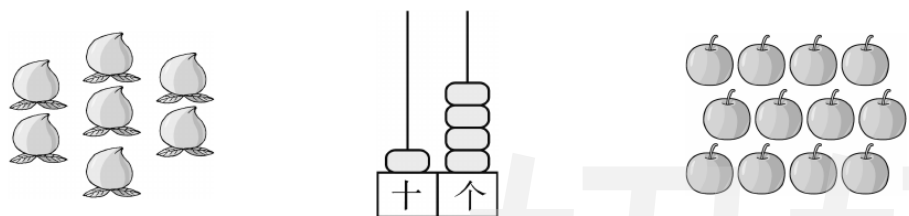
一本好卷

时间: 60分钟 满分: 100分

题号	一	二	三	四	五	六	七	总分	评卷人
得分									

## 一、填一填。(25分)

1. 看图写数。



( ) ( ) ( )



(1) 上图一共有( )种水果。

(2) 从左边数起, 排在第( ), 排在第( )。

(3) 从右边数起, 排在第( ), 它的左边是( ), 右边有( )种水果。

3. 17 里有( )个十和( )个一, 2 个十是( ), 1 个十和 2 个一组成的数是( )。

4. 17 后面的一个数是( ), 11 和 13 中间的一个数是( ), 和 10 相邻的两个数是( )和( )。

5. 写出钟面上的时刻。




6. 在□里填上合适的数。

	16	18		
--	----	----	--	--

7. 一个加数是 6, 另一个加数是 8, 和是( )。

## 二、谁拿的卡片里的数大?(在○里填上“>”“<”或“=”)(8分)



## 三、轻松比较, 准确选择。(在正确答案后面的○里画“√”)(8分)

1. 谁的算式与 5+9 得数相同?

- ① 6+10 ○      ② 4+11 ○      ③ 8+6 ○

2. 6+□<15, □里最大可以填几?


- ① 10 ○      ② 9 ○      ③ 8 ○

3. 得数大于 10 的算式是:

①  $5+5$  ○

②  $2+9$  ○

③  $8+2$  ○




4. 左图钟面, 再过一小时是几时?

① 5 时 ○

② 6 时 ○

③ 7 时 ○

四、数一数, 填一填。(8 分)



	( ) 个
	( ) 个
	( ) 个
	( ) 个

五、看谁得的红花多。(20 分)

$4+9=$  ☁  $10-6=$  ☁  $9+0=$  ☁  $9+6=$  ☁

$7+8=$  ☁  $5+7=$  ☁  $8+6=$  ☁  $19-4=$  ☁

$4-0=$  ☁  $6+6=$  ☁  $10+9=$  ☁  $10-4=$  ☁

$2+9=$  ☁  $7+5=$  ☁  $6+10=$  ☁  $9-3=$  ☁

$9+3=$  ☁  $7+7=$  ☁  $9+7=$  ☁  $10+6=$  ☁

六、看图填算式。(20 分)

1.  $\square \bigcirc \square = \square$  (条)

2.  $\square \bigcirc \square = \square$  (个)

3.  $\square \bigcirc \square = \square$  (只)

4.  $\square \bigcirc \square = \square$  (支)

七、选数组算式。(11 分)

从 3、5、8、13 四个数中选出三个数, 组成加法或减法算式。

我会选,  $3+5=8$ , 你能写出多少个? 写在下面。



# 期末检测卷(三)

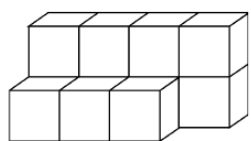
一本好卷

时间: 60分钟 满分: 100分

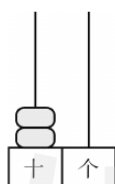
题号	一	二	三	四	五	六	七	总分	评卷人
得分									

## 一、基础达标,我会填。(14分)

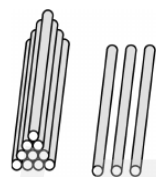
1. 看图写数。



( )



( )



( )

2. 15 里面有( )个十和( )个一。

3. 20 里面有( )个十。

4.

(1) 一共有( )张卡片。

(2) 最大的数是左数第( )张。

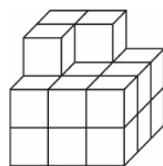
(3) 左数前 2 张卡片上数字的和是( )。

(4) 卡片上最大的数与卡片上最小的数差是( )。

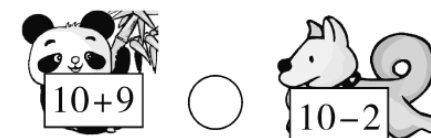

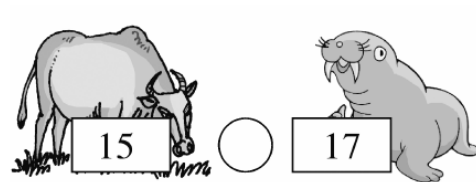
5. 在  里填上合适的数。

+ 7 = 10     9 +  = 10     8 +  = 10

6. 要拼成一个大正方体,右面的图形至少还需要( )个 。



## 二、谁拿的卡片里的数大?(比大小)(4分)



## 三、轻松比较,准确选择。(在正确答案后的○里画“√”)(10分)

1.  10  与 10 相邻的两个数是几?

- ① 9 和 10      ② 10 和 11      ③ 9 和 11

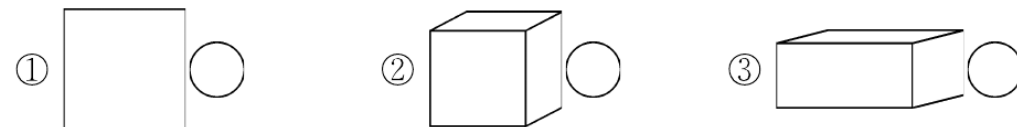
2. 钟面上表示的时刻是:

- ① 6 时      ② 8 时      ③ 快 9 时了

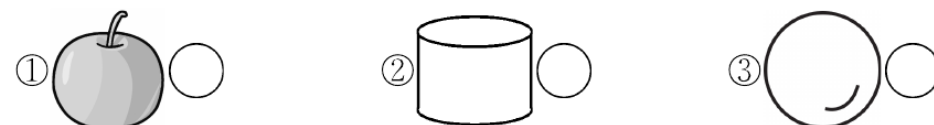
3. 两个加数都是 5,和是多少?

- ① 10      ② 7      ③ 11

4. 下面图形中,正方体是:





5. 下面物体中,与其他不同类的是:








四、小星星亮晶晶。(18分)


$5+4=$  


$7-7=$  


$6+10=$  


$15-5=$  


$17-10=$  


$9+7=$  


$10+6=$  


$8-0=$  


$5+8=$  


$3+9=$  


$4+8=$  


$5+9=$  


$3+1+9=$  

$10-2-5=$  



$8+9-5=$  

$14-4+6=$  


$9-2-7=$  

$7+6-3=$  

五、看图填算式。(10分)

1.    $\square \bigcirc \square = \square$  (条)

? 条

2.   $\square \bigcirc \square = \square$  (个)

? 个

14 个

六、巧填数。(17分)

1. 把 5、4、3、1 相加减,使结果等于 3。(8分)


$\square \bigcirc \square \bigcirc \square \bigcirc \square = 3$

2.  $\triangle$   $\square$   $\bigcirc$  各代表不同的数字。(9分)

已知:  $\triangle + \bigcirc = 13$      $\bigcirc - \square = 2$      $\triangle + 4 = 8$

$\triangle = ( \quad )$      $\square = ( \quad )$      $\bigcirc = ( \quad )$

七、解决问题。(27分)

1.  一共有15头大象,跑了3头。 还剩下多少头大象?

$\square \bigcirc \square = \square$  (头)

2. 小明拿了 19 元钱去买文具,先用 9 元钱买了 3 支钢笔,剩余的钱够不够再买一个 8 元钱的文具盒?



3. 先补充问题,再解答。

小白兔采了 , 小黑兔和小白兔采的同样多。

\_\_\_\_\_ ?

$\square \bigcirc \square = \square$  (个)

4. 小朋友们排队上车,小林前面有 3 人,后面有 3 人,右面有 3 人,这一队一共有多少人?(画图并回答)(6分)



# 期末检测卷(四)

一本好卷

时间: 60分钟 满分: 100分

题号	一	二	三	四	五	六	七	八	总分	评卷人
得分										

## 一、基础达标我会填。(14分)

1. 写出钟面上的时刻。



\_\_\_\_\_



\_\_\_\_\_



\_\_\_\_\_

2. 19 是由( )个十和( )个一组成的。

3. 被减数是 16, 减数是 10, 差是( )。


4. 1 个十和 4 个一合起来是( )。

5. 个位上是 7, 十位上是 1, 这个数是( )。

6. 与 15 相邻的两个数分别是( )和( )。

7. 现在是 5 时, 再过 2 小时是( )时。

8. 我会比多少。



比 少( )个。

9. 一个加数是 6, 另一个加数是 9, 和是( )。


10. 无论从前往后数还是从后往前数, 小凡都排在第 6 个, 这队小朋友有( )个人。

11. 看图填空。



一共有( )颗星星, 从左边数起, 把第 3 颗星星涂上红色, 把右边 5 颗星星圈起来。

## 二、谁拿的卡片里的数大?(在○里填上“>”“<”或“=”)(8分)



## 三、轻松比较, 准确选择。(在正确答案后面的○里画“√”)(10分)

1.  $9 + \square = 17$ ,  $\square$ 里填几?

- ① ○      ② ○      ③ ○




2. 2 个十是:

- ① ○      ② ○      ③ ○

3. 用( )个小正方体可以拼成一个大正方体。

- ① 2 ○      ② 4 ○      ③ 8 ○

4. 个数最多的是:



5. 一个数, 个位上的数字比十位上的数字多 4, 这个数是( )。

① 15 ○

② 20 ○

③ 14 ○

四、基础训练我会算。(24分)

- |          |          |           |            |
|----------|----------|-----------|------------|
| $6+4=$   | $7+10=$  | $15-5=$   | $2+9=$     |
| $9+5=$   | $8+6=$   | $5+8=$    | $7+6=$     |
| $10-0=$  | $7-7=$   | $10+9=$   | $9+6=$     |
| $16-10=$ | $9-7=$   | $5+8=$    | $4+9=$     |
| $1+8+9=$ | $8+7-5=$ | $10-0+4=$ | $9-5-1=$   |
| $3+5+8=$ | $7-5+8=$ | $10-6-4=$ | $12-10+6=$ |

五、看图填算式。(12分)

1.  $\square \bigcirc \square = \square$  (只)

? 只

2.  $\square \bigcirc \square = \square$  (根)

? 根

16 根

3.  $\square \bigcirc \square = \square$  (支)


14 支

六、从 7、8、9、17 中选三个数字写出两个加法算式和两个减法算式。(16分)

$\square + \square = \square$        $\square + \square = \square$

$\square - \square = \square$        $\square - \square = \square$

七、一本漫画书共有 18 页, 还剩多少页没看?(6分)



八、拔萝卜。(10分)

1. 我拔了8个萝卜。 我们俩拔的一样多。

一共拔了多少个萝卜?

2. 送给了山羊爷爷8根。 我们就剩下这么多了。

他们一共拔了多少根萝卜?


# 期末检测卷(五)

一本好卷

时间: 60分钟 满分: 100分

题号	一	二	三	四	五	六	七	八	九	总分	评卷人
得分											

## 一、小小空,我会填。(17分)



1. 上图中一共有( )只动物。从左边数,大象排在第( ),小狗排在第( );从右边数,小花猫排在第( )。

2. 与14相邻的两个数是( )和( )。

3. 16里面有( )个十和( )个一。

4. 8个一和1个十合起来是( )。

5. 计算7+8时,可以把7看成( )+( ),然后再计算( )+8=10,最后算10+( )=( )。

6. 找规律填数:3、6、( )、( )、15、( )。

## 二、我会算。(12分)

$0+6=$	$9-8=$	$9+3=$	$7+7=$
$13-10=$	$5+10=$	$19-9=$	$8+10=$
$9+6-10=$	$8+3+5=$	$7+3+8=$	$15-5-7=$

## 三、对号入座。(把正确答案的序号填在括号里)(5分)

1. 右图是由( )块小正方体搭成的。

A. 6      B. 7      C. 10



2. 9时时,分针指向( )。

A. 12      B. 6      C. 9

3. 下列三个图中,( )与其他两个不同。



4. “13”的正确读法是( )。

A. 十三      B. 一三      C. 三一

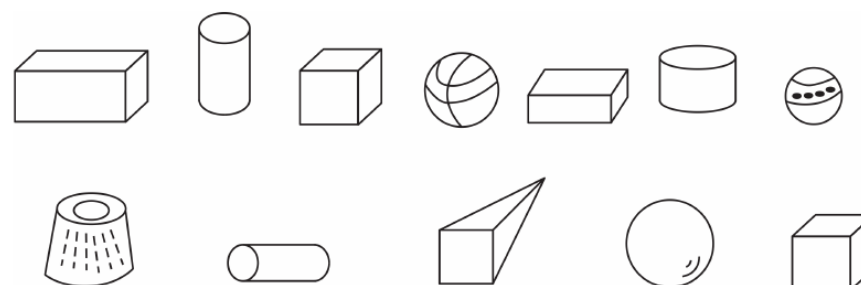
5. 一个加数是8,另一个加数是最大的一位数,和是( )。

A. 16      B. 17      C. 18

## 四、蝴蝶会落到哪朵花上?(9分)

$8+6$	$7+7$	$18-3$	$6+9$	$4+2+10$	$15$
$5+9$	$6+6$	$7+8$	$19-2$	$3+6+7$	$6+8$
$12+5$	$8+8$	$15-5$	$17-7$	$10-2-4$	$10-4$

## 五、数一数,填一填。(8分)





长方体	正方体	圆柱	球
( )个	( )个	( )个	( )个

六、火眼金睛判对错。(对的打“√”,错的打“×”)(6分)



12时

( )



11时

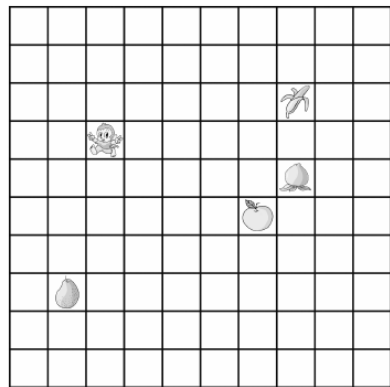
( )



2时

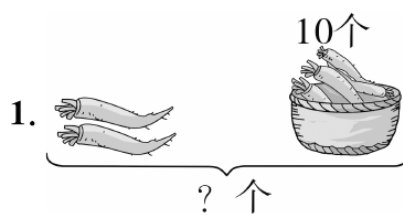
( )

七、贪吃猴。(8分)

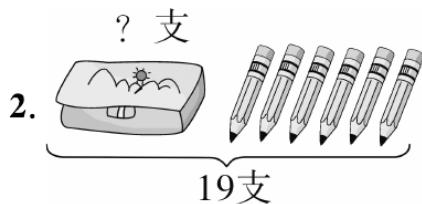


- 贪吃猴要吃香蕉。可以往右走( )格,再往上走( )格;还可以先往上走( )格,再往右走( )格。
- 如果贪吃猴先往右走5格,再往( )走1格,就可以吃到梨。
- 贪吃猴想吃梨应该怎么样走?

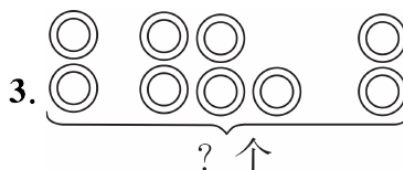
八、列式计算。(16分)



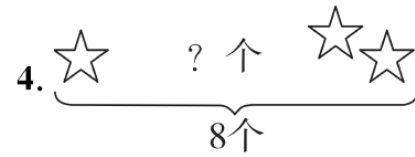
$$\square \bigcirc \square = \square \text{ (个)}$$



$$\square \bigcirc \square = \square \text{ (支)}$$

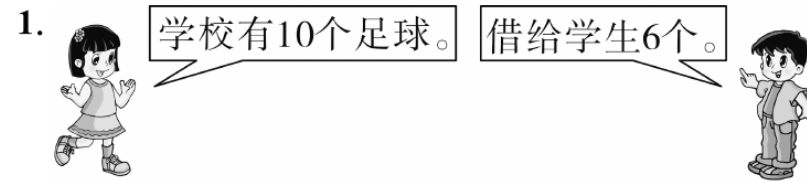


$$\square \bigcirc \square \bigcirc \square = \square \text{ (个)}$$



$$\square \bigcirc \square \bigcirc \square = \square \text{ (个)}$$

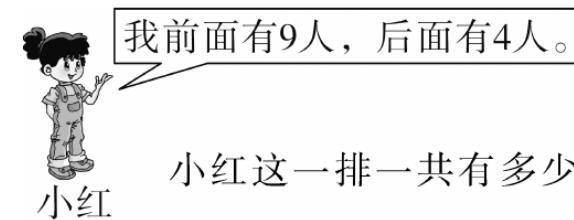
九、解决问题。(19分)



还有多少个足球?(6分)

2. 小兰有10本 ,小玲有8本 ,小刚找小兰和小玲分别借走一本,小兰和小玲现在共有多少本书?(6分)


3. 排队做操。(7分)



小红这一排一共有多少人?

## RJ 一年级(上)部分参考答案

### 第一单元测试卷



### 第二单元测试卷

- 一、1. (1) 小红 小涛  
(2) 右边 左边  
(3) 小伟 小涛  
小刚 小红
2. (1) 上 下 (2) 右 左  
(3) 上
3. (1) 桃 花朵 (2) 左 左  
(3) 香蕉 下
- 三、③④⑥ ①②⑤
- 四、上 下 右 左
- 七、1. 右 1 下 3  
2. 左 2 上 2  
3. 右 3 上 4
- 八、1. ④②③ 2. ③ 3. ④

### 第三单元测试卷

- 一、1. 4 1 3 2. 4 4 3 5  
3. 5 4 3 2 1 0

4. 2 5. 0 2 4 5

三、+ - - +  
+ - + +

四、1. ②√ 2. ③√ 3. ②√

五、5 3 3 5 2 0 2 4 3

4 0 4 1 2 1 5 0 3

2 2 1 5 2 5

六、1.  $1+3=4$  2.  $5-2=3$

3.  $2+2=4$  4.  $5-1=4$

七、②√ ③√

八、小白兔√

### 月考巩固卷(一)

三、1. 小林 2. 小方 2 3. 5

五、4 2 0 3 1 1 1 0

六、1. 4 5 3

2. (1) 4 (2) 3

(3) 鞋店 饭店

八、1.  $4-1=3$  2.  $3+2=5$

3.  $5-2=3$  4.  $4-4=0$

十、1.  $2+3=5$   $3+2=5$

$5-2=3$   $5-3=2$

2.  $4+1=5$   $1+4=5$

$5-1=4$   $5-4=1$

十一、 $5-4<2+0<5-2<3+1<3+2$

### 第四单元测试卷

二、1. ①√ 2. ②√ 3. ②√

4. ③√ 5. ②√

三、4 2 2 3

四、1. 2 2 3 2 2. 3 2

3. 4 5 4. 5 5 5 5 4 4

### 第五单元测试卷

一、1. 7 8 2. 2 10 5 5

二、< > = =

三、1. ②√ 2. ③√

3. ③√ 4. ①√

四、7 10 8 6 5 10 10 1

7 3 9 6 9 9 0 10

0 9

五、1.  $4+5=9$  2.  $8-5=3$

3.  $2+5=7$

六、 $6-1+2=7$   $8+2-5=5$

$3+5+2=10$   $9-4-3=2$

七、1.  $4+3+1=8$ (个)

2.  $6+4=10$ (个)

八、1. 6 10 2. 3 5 9 1 5 1 9 3

### 期中检测卷

一、1. 3 8 6 6

10 5 10 7

2. 5 4 2 4

3. 10 1 10

$1+9=10$   $2+8=10$

$3+7=10$   $4+6=10$

$1<2<3<4<5<6<7<8<9<10$

4. 10 2 7

7. + - + -

+(或-) - - +

8. > > = = > <

二、1. 5 7 7 5 3 7 1 8

7 9 2 0 10 9 9 9

3 1 4 8

2. 9 9 0 1 5 9 1

5 9

三、1.  $4+2=6$   $2+4=6$

$6-2=4$   $6-4=2$

2.  $6+3=9$   $3+6=9$

$9-3=6$   $9-6=3$

3.  $5+1+3=9$  4.  $8-3+2=7$

5.  $5+4=9$  6.  $8-2=6$

### 第六单元测试卷

一、1. 13 15 16 19 20

2. 1 3 2 20

3.  $10+4=14$   $4+10=14$

$14-4=10$ (或  $14-10=4$ )

4. 1 8 5. 16

6. 17 20 11 16 14 19

二、= > > <

三、1. ②√ 2. ②√ 3. ③√

四、15 4 13 7 10 10 11

9 10 10 6 6 9 8 8  
5 13 1 18 9 4  
五、1.  $10+3=13$  2.  $15-5=10$   
3.  $18-4=14$  4.  $13+2=15$   
六、1. 3 2. 1 4 2 8 5 7  
八、17 18  $14+4=18$

**第七单元测试卷**

一、8时 8:00 快8时了 7:55  
9时 9:00  
三、7时 10时 6时  
五、1. ② ✓ 2. ③ ✓ 3. ② ✓ 4. ③ ✓  
八、4小时

**月考巩固卷(二)**

一、1. 12 2. 16 3. 15  
4. 1 4 14 5. 2 20  
6. 6:00(或6时)  
8时刚过  
快8时了  
9:00(或9时)  
二、1. 6 12 4 20  
2. 14 16 17 19 16  
13 14 16 17 19  
3. 15 17 20 1 4 8 1  
10 2  
4. 12 14 5. 17 20  
6. 14 15 16 7. 18 20  
8.  $3<9<10<11<18<19<20$

9. 分 时 1 12

10. 10 12

三、< < > = > =  
< = <  
四、- + + - - -  
- + +

六、1.  $10+8=18$   $18-10=8$

$8+10=18$   $18-8=10$

2.  $10+3=13$

七、1.  $12-2=10$

2.  $10+6=16$

3.  $10+9=19$

4.  $15-5=10$

八、再过20小时,是第二天早晨,这时升起来的  
是太阳。

**第八单元测试卷**

一、1. 7 3 6 5 1 2

2. 6 3. 13

二、< < = >

三、+ - + +

- + + -

五、1. ③ ✓ 2. ② ✓

3. ② ✓ 4. ② ✓

六、17 11 10 11 16 4 11

12 13 12 12 15 13 12 14

七、1.  $8+4=12$  2.  $14-4=10$

3.  $4+9=13$

八、9 8 7

九、 $9+4=13$   $6+7=13$

$8+5=13$   $10+3=13$

十、15 16 11 15

**专题训练卷(一)**

一、1. 4 13 10

2. 12 13 14 16 17 19 20 7 8 9

11 12 14 15

3. 16 4. 1 9

5. 9 20 0 19

二、< < > =

四、- + - + - +

五、11 4 10 8 13 10 10

12 11 18 17 9 6 8

3 5 16 11 12 9 16

4 11 6 10 15 0 19

六、 $12=5+7$   $16=9+7$

$18=10+8$

$9+4=10+3=6+7=8+5$

$5+6=7+4=2+9=3+8$

$7+3=6+4=5+5=8+2$

$7+7=10+4=9+5=8+6$ (本题答案不唯一)

七、1.  $13-3=10$

2.  $7+7=14$

**专题训练卷(二)**

二、1. (1)7 (2)7 3 (3)4 7

2. (1)4 (2)小明 小华

(3)前 后 小华

三、1. ② ✓ 2. ① ✓ 3. ③ ✓ 4. ② ✓

四、⑤⑧ ③⑦ ①⑥ ②④

五、7时 7:00 12时 12:00

3时 3:00 6时 6:00

六、1. 3 3 3 2

2. 3 1 6 8

**期末检测卷(一)**

一、1. 4 9 12

2. 3 4 6 8

4 5 6 8 9

3. (1)10 4. 3 5. 1 8

6. 16 7. 10 12 18 20

8. 7:00(或7时)

2时

4:00(或4时)

快8时了

9. 4 4 3 2

二、< < = >

三、8 5 2 4 9 8 7 6 6

四、16 5 3 10 12 10 13

10 3 15 19 10 5 10

3 8 10 10 15 7

五、1. 前 后 2. 2 4

3. 1 小羊 4. 小猪 小象

5. 4 5

六、1.  $13-3=10$  2.  $4+6=10$

3.  $10-3+4=11$

4.  $5+7+3=15$

七、1.  $15-5=10$

2.  $5+7=12$

3. (1)  $10-8=2$

(2)  $10+8=18$

期末检测卷(二)

一、1. 7 14 12

2. (1) 6 (2) 3 5 (3) 5 苹果 4

3. 1 7 20 12

4. 18 12 9 11

5. 4:00(或4时)

8时刚过

9:00(或9时)

6. 15 17 19 20

7. 14

二、 $> > = <$

三、1. ③√ 2. ③√

3. ②√ 4. ③√

四、1 1 5 4

五、13 4 9 15 15 12 14

15 4 12 19 6 11 12

16 6 12 14 16 16

六、1.  $9+2=11$  2.  $9-3=6$

3.  $4+8=12$  4.  $19-7=12$

期末检测卷(三)

一、1. 11 20 13 2. 1 5 3. 2

4. (1) 9 (2) 4 (3) 15 (4) 14

5. 3 1 2

6. 6

二、 $< > = >$

三、1. ③√ 2. ③√ 3. ①√

4. ②√ 5. ①√

四、9 0 16 10 7 16 16

8 13 12 12 14 13

3 12 16 0 10

五、1.  $3+7=10$  2.  $14-4=10$

六、1.  $5-1-4+3=3$ (不唯一)

2.  $\triangle=4$   $\square=7$   $\bigcirc=9$

七、1.  $15-3=12$

2.  $19-9=10$ (元)

8元<10元 够

3. 它们两个一共采了多少个蘑菇?

$9+9=18$

4. 7人

期末检测卷(四)

一、1. 8:00(或8时)

10时刚过

6:00(或6时)

2. 1 9 3. 6 4. 14 5. 17

6. 14 16 7. 7

8. 2 9. 15

10. 11 11. 12

二、 $> > < =$

三、1. ③√ 2. ①√ 3. ③√

4. ③√ 5. ①√

四、10 17 10 11 14 14 13 13 10 0

19 15 6 2 13 13 18 10 14 3

16 10 0 8

五、1.  $2+6=8$  2.  $16-4=12$

3.  $14-4=10$

六、 $9+8=17$   $8+9=17$

$17-8=9$   $17-9=8$

七、 $18-7=11$ (页)

八、1.  $8+8=16$ (个) 2.  $8+7=15$ (根)

期末检测卷(五)

一、1. 5 5 2 3

2. 13 15 3. 1 6 4. 18

5. 5 2 2 5 15

6. 9 12 18

二、6 1 12 14 3 15

10 18 5 16 18 3

三、1. C 2. A 3. B 4. A 5. B

四、 $= = > > <$

$> > = <$

五、2 2 3 3

六、 $\times \times \checkmark$

七、1. 5 1 1 5 2. 下

3. 先往左走1格,再往下走4格。

八、1.  $2+10=12$

2.  $19-6=13$

3.  $2+5+2=9$

4.  $8-1-2=5$

九、1.  $10-6=4$ (个)

2.  $10+8-1-1=16$ (本)

3.  $9+4+1=14$ (人)

第1周测试卷

三、1. 多 少 2. 少 多

第2周测试卷

一、1. (1)后 前 (2)后 前

2. (1)右 上 (2)上 下

(3)左 下

二、1.  $\times$  2.  $\times$  3.  $\checkmark$  4.  $\checkmark$

第3周测试卷

一、4 1 5 2

二、 $\triangle \bigcirc 4>2$

$\square \bigcirc 4<5$

三、2 4 1 1 1 2

四、1. 5 3 2 男生 女生

女生 男生

2. 2 4

第4周测试卷

一、 $3+2=5$   $5-1=4$   $4-1=3$

$3-3=0$

三、5 3 4 4 4 0

四、+ - +(或-) +

+ - - +

五、2 2  $4-2=2$

2 2  $5-3=2$



第5周测试卷

三、4 2 3 1

五、4 4 2 4 正方体

第6周测试卷

一、0 3 1 7 6 7 6

二、6 2 6 6 4

7 4 7 7 1

三、1. 7 4 4. 苹果 2

四、- - - + +(或-)

- + - + + + +

五、1.  $4+3=7$  2.  $6-6=0$

3.  $7-4=3$  4.  $5+1=6$

六、1.  $7+5=12$

2.  $7-5=2$

第7周测试卷

一、4 9 8 4 8 5 1 9

三、5 8 9 2 4 9

9 6 0 9 8

四、1.  $6+2=8$   $2+6=8$

$8-2=6$   $8-6=2$

2.  $5+4=9$   $4+5=9$

$9-4=5$   $9-5=4$

3.  $3+5=8$  4.  $9-3=6$

五、 $3+6=9$   $6+3=9$

$9-3=6$   $9-6=3$

第8周测试卷

一、1. 1 1 2. 10 3. 8 3、4、5

4. 6 7 5. 10 4 5

二、< < < = < >

三、1.  $6+4=10$  2.  $5+5=10$

3.  $10-5=5$  4.  $10-3=7$

四、1.  $3+7=10$   $10-7=3$

2.  $4+6=10$   $10-6=4$

3.  $2+8=10$   $10-8=2$

五、 $10-7=3$ (只)

第9周测试卷

一、8 10 6 6 9 7

4 7 6 3 9 10

二、10 5 9 0 6

4 10 3 6 5

10 2 5 1 6

三、 $7>4$   $9>7$   $10>9$   $3=3$

$8<9$   $0=0$

五、1.  $1+3+2=6$

2.  $5+3-4=4$

3.  $3+2-4=1$

六、9  $2+3+4=9$

第10周测试卷

一、1. 13 15 14 17

2. (1) 17 19 (2) 16 12

3. 个 十 4. 17 1 6

二、> > < < = > > < <  
> > <

三、15 14 13 12 11 10

14 15 16 17 18 19

五、1.  $10+2=12$  2.  $18-5=13$

六、 $10+5-1=14$ (只)

第11周测试卷

一、1. 15 2. 1 - 3. 18 20

4. 个 6 - 十 1 十

5. (1) 7

(2) 13, 15, 18 7, 0, 9

(3) 5 9 5

二、1. 2 2 2. 15

三、②④⑥ ① ③ ⑤⑦

四、9 12 10 5 16 9 5 5

10 10 10 17 6 13 9

11

五、1.  $4+5=9$

2.  $9-3=6$

3.  $14-4=10$

4.  $5+2=7$

第12周测试卷

一、12时 12:00 4时 4:00

9时 9:00 8时 8:00

六、3时 7时 11时 5时

第13周测试卷

一、1 5 15 1 3 13

四、6 9 19 9 18 17

五、1.  $9+6=15$  2.  $2+9=11$

六、 $9+3=12$

第14周测试卷

一、13 14 11 16 13 14

三、6 7 8 8 6 7 8 6 4

四、5 3 8 7

五、1. 7 4 11  $7+4=11$

2. (1)  $8+6=14$

(2)  $7+6=13$

第15周测试卷

二、4 4 4 7 7 9 10 8 10 6 5 1

四、13 11 12

五、 $2+4=6$   $2+5=7$   $2+7=9$

$3+4=7$   $3+5=8$   $4+5=9$

$3+7=10$   $3+9=12$

$4+9=13$   $5+7=12$

$5+9=14$   $7+9=16$

六、1.  $5+6=11$  2.  $7+5=12$

第16周测试卷

一、8 14 12 16 17 11 15

18 10 9 5 13

四、5 4 3 6

五、1.  $10+4=14$  2.  $17-5=12$

六、1.  $9+8=17$

2.  $10-3+10=17$